

بِسْمِ اللّٰهِ الرَّحْمٰنِ الرَّحِیْمِ

اللّٰهُمَّ صَلِّ عَلٰی مُحَمَّدٍ وَّآلِ مُحَمَّدٍ وَّعَجِّلْ فَرَجَهُمْ



تشریح و فیزیولوژی طیور

پایه دهم

دوره دوم متوسطه

شاخه: کاردانش

زمینه: کشاورزی

گروه تحصیلی: کشاورزی و غذا

رشته‌های مهارتی: پرورش پرندگان زینتی، پرورش صنعتی طیور

نام استاندارد مهارتی مبنا: پرورش عمومی طیور

کد استاندارد متولی: ۸۵/ب/۱۷/۴/۸۰/ک

۵۹۸	بدیعی اردستانی، سعید
ت ۵۸۲/ب	تشریح و فیزیولوژی طیور/ مؤلفان: سعید بدیعی اردستانی... [و دیگران]. - تهران: شرکت چاپ و نشر کتاب‌های درسی ایران. ۷۴ ص. : مصور. - (شاخه کاردانش)
	متون درسی رشته‌های مهارتی پرورش پرندگان زینتی، پرورش صنعتی طیور، گروه تحصیلی کشاورزی و غذا، زمینه کشاورزی.
	برنامه‌ریزی و نظارت، بررسی و تصویب محتوا: کمیسیون برنامه‌ریزی و تألیف کتاب‌های درسی رشته‌های مهارتی زیرگروه طیور، دفتر تألیف کتاب‌های درسی فنی و حرفه‌ای و کاردانش وزارت آموزش و پرورش.
	۱. پرندگان - کالبد شناسی. ۲. مرغ و خروس‌ها - کالبد شناسی. الف. بدیعی اردستانی، سعید. ب. ایران. وزارت آموزش و پرورش دفتر تألیف کتاب‌های درسی فنی و حرفه‌ای و کاردانش. ج. عنوان. د. فروست.





وزارت آموزش و پرورش
سازمان پژوهش و برنامه‌ریزی آموزشی

- نام کتاب : تشریح و فیزیولوژی طیور - ۳۱۰۱۳۱
- پدیدآورنده : سازمان پژوهش و برنامه‌ریزی آموزشی
- مدیریت برنامه‌ریزی درسی و تألیف : دفتر تألیف کتاب‌های درسی فنی و حرفه‌ای و کاردانش
- شناسه افزوده برنامه‌ریزی و تألیف : سعید بدیعی اردستانی، سیروس اشیدری، جهان‌شاه ایرانپور، ابوالفضل قلی‌بیگی، عبدالرضا ولی‌محمدی، شهرزاد جزء قاسمی، نبی‌الله مقیمی و حمید احدی (اعضای شورای برنامه‌ریزی)
- مدیریت آماده‌سازی هنری : سعید بدیعی اردستانی، مجید افشار، مهرداد نفیسی و شهاب سهرابی (اعضای گروه تألیف)
- شناسه افزوده آماده‌سازی : اداره کل نظارت بر نشر و توزیع مواد آموزشی
- نشانی سازمان : شهرزاد قنبری (صفحه‌آرا) - محمدحسن معماری (طراح جلد)
- ناشر : تهران : خیابان ایرانشهر شمالی - ساختمان شماره ۴ آموزش و پرورش (شهید موسوی)
- چاپخانه : تلفن : ۹-۸۸۸۳۱۱۶۱، دورنگار : ۰۹۲۶۶۰۸۸۳، کد پستی : ۱۵۸۴۷۴۷۳۵۹
- سال انتشار : وب‌گاه : www.irtextbook.ir و www.chap.sch.ir
- شرکت چاپ و نشر کتاب‌های درسی ایران : شرکت چاپ و نشر کتاب‌های درسی ایران : تهران - کیلومتر ۱۷ جاده مخصوص کرج - خیابان ۶۱ (داروبخش)
- چاپخانه : تلفن : ۵-۴۴۹۸۵۱۶۱، دورنگار : ۰۴۴۹۸۵۱۶۰، صندوق پستی : ۱۳۹-۳۷۵۱۵
- شرکت چاپ و نشر کتاب‌های درسی ایران «سهامی خاص» : ۱۴۰۲

کلیه حقوق مادی و معنوی این کتاب متعلق به سازمان پژوهش و برنامه‌ریزی آموزشی وزارت آموزش و پرورش است و هرگونه استفاده از کتاب و اجزای آن به صورت چاپی و الکترونیکی و ارائه در پایگاه‌های مجازی، نمایش، اقتباس، تلخیص، تبدیل، ترجمه، عکس برداری، نقاشی، تهیه فیلم و تکثیر به هر شکل و نوع بدون کسب مجوز از این سازمان ممنوع است و متخلفان تحت پیگرد قانونی قرار می‌گیرند.



شما عزیزان کوشش کنید که از این وابستگی بیرون آید و احتیاجات کشور خودتان را برآورده سازید، از نیروی انسانی ایمانی خودتان غافل نباشید و از اتکای به اجانب پرهیزید.

امام خمینی «قُدَس سِرُّهُ»

فهرست

مقدمه

۱	پیمانۀ مهارتی (۱) ساختمان بدن طیور
۲	۱-۱- پوشش بدن طیور
۶	آزمون پیمانۀ مهارتی ۱
۷	پیمانۀ مهارتی (۲) دستگاه حرکتی
۸	۲-۱- استخوان‌ها
۹	۲-۲- اسکلت و استخوان‌بندی طیور
۱۱	۲-۳- ماهیچه‌ها
۱۳	آزمون پیمانۀ مهارتی ۲
۱۴	پیمانۀ مهارتی (۳) دستگاه گوارش
۱۵	۳-۱- قسمت‌های مختلف دستگاه گوارش
۱۸	۳-۲- فیزیولوژی دستگاه گوارش
۲۰	آزمون پیمانۀ مهارتی ۳
۲۱	پیمانۀ مهارتی (۴) دستگاه تولید مثل
۲۲	۴-۱- دستگاه تولید مثل نر
۲۳	۴-۲- دستگاه تولید مثل ماده
۲۴	۴-۳- مراحل تشکیل تخم پرنده
۲۵	۴-۴- تغییرات روزانه رشد جنینی
۲۹	آزمون پیمانۀ مهارتی ۴

۳۰	پیمانۀ مهارتی (۵) دستگاہ گردش خون
۳۱	۵-۱- آشنایی با دستگاہ گردش خون
۳۶	۵-۲- آشنایی با فیزیولوژی دستگاہ گردش خون چرخه قلب
۳۸	۵-۳- مقایسه دستگاہ گردش خون پرندگان و پستانداران
۴۰	آزمون پیمانۀ مهارتی ۵

۴۱	پیمانۀ مهارتی (۶) دستگاہ تنفس
۴۲	۶-۱- آشنایی با ساختمان دستگاہ تنفس
۴۴	۶-۲- فیزیولوژی دستگاہ تنفس
۴۷	آزمون پیمانۀ مهارتی ۶

۴۸	پیمانۀ مهارتی (۷) دستگاہ ادراری
۴۹	۷-۱- ساختمان دستگاہ ادراری
۵۱	۷-۲- فیزیولوژی کلیه
۵۴	آزمون پیمانۀ مهارتی ۷

۵۵	پیمانۀ مهارتی (۸) دستگاہ عصبی
۵۶	۸-۱- ساختمان دستگاہ عصبی طیور
۵۹	۸-۲- فیزیولوژی دستگاہ عصبی
۶۱	آزمون پیمانۀ مهارتی ۸

۶۲	پیمانۀ مهارتی (۹) غدد داخلی
۶۳	۹-۱- غدد درون‌ریز
۶۵	۹-۲- غدد برون‌ریز
۶۷	آزمون پیمانۀ مهارتی ۹

تشریح یا آناتومی^۱ علمی است که شکل و ساختمان اندام‌های موجودات را مورد مطالعه قرار می‌دهد و فیزیولوژی^۲ علمی است که اعمال و رابطه بین اندام‌های مختلف بدن موجودات زنده را بررسی می‌کند. اگر چه هر کدام از موضوعات مورد بررسی در این کتاب (تشریح و فیزیولوژی طیور) تقسیم بندی‌های جداگانه و مفصلی را شامل می‌گردند؛ اما در این کتاب، سعی گردیده به تشریح بدن مرغ با تأکید بر فیزیولوژی اندام‌های گوناگون و به زبانی ساده پرداخته شود. اطلاعات موجود در این کتاب برگرفته از مطالب علمی موجود در کتاب‌ها و مقاله‌های مرتبط می‌باشد و در تدوین آن همواره تلاش گردیده ضمن حفظ ماهیت علمی مطالب تا حد امکان به صورت روان و مصور برای آموزش بهتر ارائه گردد. کلیه مطالب در ۹ پیمانه همراه با تصاویر مورد نیاز و فعالیت‌های عملی مرتبط، عرضه شده است.



ساختمان بدن طیور

هدف کلی

شناخت ساختمان بدن طیور



هدفهای رفتاری

در پایان این فصل هنرجو باید بتواند:

- ۱- اندامهای ظاهری طیور را شناسایی کند.
- ۲- وظایف پر را بیان کند.
- ۳- انواع پر را شناسایی کند.
- ۴- انواع تاج را شناسایی کند.

پیش آزمون

- ۱- پوشش بدن طیور با پوشش بدن پستانداران چه تفاوت اساسی دارد؟
- ۲- تفاوت منقار مرغ با منقار اردک در چیست؟
- ۳- کدام حیوان غدد عرقی ندارد؟



برای آشنایی با تشریح و فیزیولوژی طیور، ابتدا شمای کلی اندام‌های ظاهری طیور را در شکل ۱-۱ مشاهده کنید.



شکل ۱-۱- شمای کلی از اندام‌های ظاهری طیور

- ۳- پرنده را از برف و باران حفظ می‌نمایند.
- ۴- پرنده را در مقابل صیادان استتار می‌کنند.
- ۵- باعث جذابیت پرنده در بین پرندگان همان گروه می‌شوند.

معمولاً سه نوع پر در بدن پرندگان قابل تشخیص است:

- ۱- پرهای بزرگ یا شاه پرها: این پرها از خارج، بدن پرنده را پوشانیده‌اند و در زیر آنها پرهای دیگری قرار گرفته است. پرهای بال و دم جزء این دسته به شمار می‌روند. تعداد پرهای بزرگ کم و طولشان بیشتر است و بسته به نژاد و جنس و گونه متفاوت می‌باشد. وظیفه اصلی پرهای بزرگ شرکت در عمل پرواز است.

پرهای بزرگ دارای یک شاخه اصلی^۱ می‌باشد که در قسمت پایین تو خالی و در قسمت بالا توپر است. قسمت تو خالی آن پایه پر^۲ نام دارد و قسمت توپر آن بدنه پر^۳ نامیده می‌شود. قسمت توپر از دو طرف دارای شاخه‌های فرعی است که به آنها ریش^۴ می‌گویند. از هر یک از این ریش‌ها شاخه‌های

در این بیمانه با وظایف اندام‌های ظاهری طیور آشنا می‌شوید و در بیمانه‌های آینده توضیح کاملی از وظایف اندام‌های مختلف داده می‌شود.

۱-۱- پوشش بدن طیور

پوشش بدن طیور از پر، پوست و یک بافت پوششی فلسی شکل که تکامل یافته‌تر از پوست خزندگان است تشکیل شده است. پرها: پوشش پر در پرندگان را می‌توان عامل تمایز این گروه از سایر مهره‌داران دانست. در سیر تکاملی پرندگان، بیشتر قسمت‌های فلسی خزندگان تبدیل به پر شده است. هم پر و هم فلس از پروتئین مشابهی به نام کراتین ساخته شده‌اند. پر از لایه خارجی پوست بوجود می‌آید و وزن آن سبک و انعطاف پذیر است.

وظایف پر:

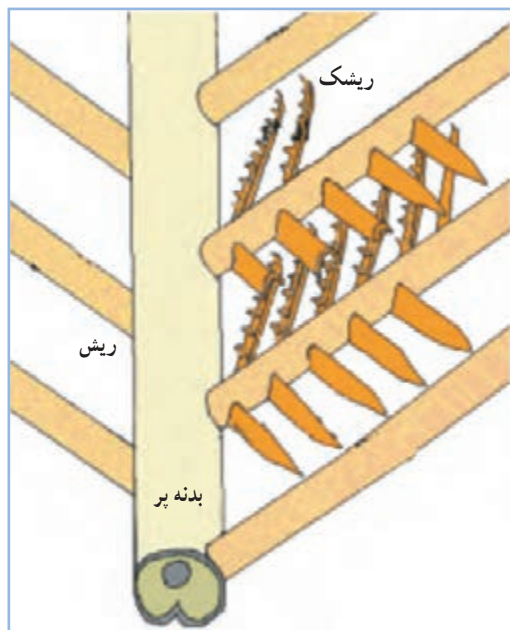
- ۱- به پرواز کمک کرده و از پوست بدن محافظت می‌کند.
- ۲- به حفظ درجه حرارت بدن کمک می‌کنند.

۱- Quill

۲- Calamus

۳- Rachis

۴- Barber

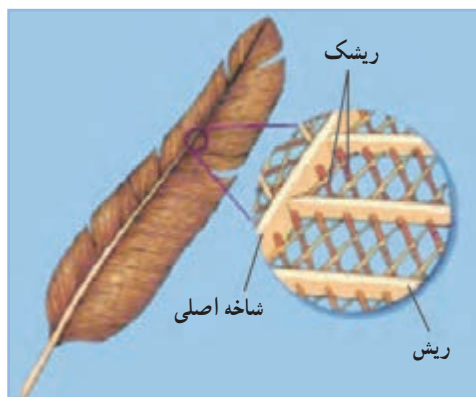


شکل ۴-۱- ساختمان پر

فرعی دیگری به موازات هم از دو طرف جدا شده که به هریک از آنها ریشک^۱ می‌گویند. شاخه‌های فرعی در قسمت انتهایی خود دارای اشعاعات کوچک‌تری می‌باشند. (شکل‌های ۱-۲، ۱-۳ و ۱-۴)



شکل ۲-۱- پرهای بزرگ یا شاه‌پر ها



شکل ۳-۱- ساختمان پر

پر ها از مجاری مخصوصی در پوست بنام مجرای پر^۲ تشکیل می‌شوند. این مجاری و حفره‌ها در تمام نواحی بدن وجود دارد.

اولین آثار بوجود آمدن این مجاری در پنجمین روز زندگی جنینی پدیدار می‌شود. هر پر در یک فولیکول که در پوست جنین قرار دارد شروع به تشکیل می‌کند در داخل این فولیکول‌ها پرهای اصلی تشکیل می‌شود. پرهای اصلی از یک لکه در قاعده فولیکول منشأ می‌گیرند و به مرور رشد آن زیاد و از پوست خارج می‌شود، بطوری که پس از مدتی پرها قابل رؤیت می‌گردند و بتدریج بر رشد این پرها اضافه می‌گردد و قسمت‌های مختلف پر فرم می‌گیرند و تشکیل می‌شوند. تغذیه پرها در پوست توسط مویرگ‌های خونی انجام می‌شود. این مویرگ‌ها در هنگامی که پر هنوز میله‌ای است زیادتر و طولانی‌تر می‌باشد ولی به مرور که قسمت‌های دیگر پر تشکیل می‌شود کوتاه‌تر می‌گردند.

۲- پرهای کوچک یا پوش پر: این پرها معمولاً تمام بدن را فرا می‌گیرد و اغلب، پرهای بزرگ در بعضی قسمت‌ها روی آنها را می‌پوشاند (مانند بال‌ها). وظیفه این پرها حفظ و پوشش بدن است و تعداد آنها فوق‌العاده زیادتر از پرهای بزرگ است.

۳- پرهای سوزنی شکل: این پرها در زیر پرهای کوچک‌تر قرار گرفته و داخل فولیکول کوچکی در لایه اپیدرم پوست بدن فرو رفته است.

۱- Barbules


۲- perylae

توانایی تعرق و کاهش حرارت بدن در شرایط گرما را ندارد و گرما را از طریق شش‌ها دفع می‌کند.

در شکل ۵-۱ اندام‌های ظاهری سر طیور را که شامل تاج، گوش، چشم، منقار و ریش می‌باشد را مشاهده می‌کنید.

تاج: تاج از لایه درم پوست تشکیل شده و لایه نازکی از اپیدرم روی آن را می‌پوشاند. تاج در طیور به شکل‌های متفاوتی وجود دارد. در شکل ۶-۱ انواع تاج نشان داده شده است.

شکل تاج نتیجه اثر متقابل ژن‌ها می‌باشد، ولی اندازه آن به میزان هورمون‌های جنسی و شدت نور بستگی دارد. کم بودن شدت نور باعث بلندتر شدن تاج می‌شود.



شکل ۵-۱- اندام ظاهری سر طیور

اولین آثار تشکیل رنگدانه‌های پر در جنین پس از ۸۰ ساعت ظاهر می‌شود این رنگدانه‌ها در جرم پرها جای می‌گیرند و طی مرحله تشکیل شدن پرها به قسمت‌های مختلف پر مانند ساق اصلی، ریش، ریشک و ریشک‌های فرعی می‌روند و سبب رنگین شدن پرها می‌گردند. علت تنوع رنگ پرها وجود رنگدانه‌های مختلف و همچنین طرز قرار گرفتن آنها می‌باشد.

پرها حدود ۴ تا ۶ درصد وزن بدن طیور را تشکیل می‌دهند. پوست بدن طیور غدد چربی و عرق ندارد و فقط در ناحیه دم مقداری غده وجود دارد که به آن غدد چربی می‌گویند و پرنده به کمک ترشحات آن پره‌های خود را جلا می‌دهد تا طراوت خود را حفظ کنند. از نظر ساختمانی، پوست از دو لایه تشکیل شده است که لایه خارجی اپیدرم^۱ و لایه زیرین درم^۲ نامیده می‌شوند. در ناحیه منقار و پا، پوست، ضخیم و شاخی شده است. پوست اغلب پرندگان اهلی زرد مایل به سفید است. به جزء پوست بوقلمون که به دلیل ذخیره بالای ملانین، تیره رنگ است. شدت زردی پوست به میزان رنگدانه گزانتوفیل در جیره غذایی و همچنین میزان تخم‌گذاری پرنده بستگی دارد، به طوری که در مرغ‌های تخم‌گذار رنگ پوست به سفیدی می‌گراید و این موضوع به علت انتقال رنگدانه‌های زرد از پوست به زرده تخم مرغ و ایجاد رنگ زرد در آن است.

از آنجا که پوست بدن طیور فاقد غدد عرق می‌باشد،



شکل ۶-۱- انواع تاج طیور



شکل ۷-۱- منقار و بینی مرغ خانگی

منقار: منقار از اپیدرم پوست بوجود آمده و جنس آن شاخی است. منقار عمل لب را در طیور انجام می‌دهد و از آن برای گرفتن غذا استفاده می‌شود. منقار اردک پهن و صاف و منقار مرغ چون دانه خوار است تیز می‌باشد.

منقار شامل ۲ بخش متفاوت می‌باشد. این ۲ بخش عبارتند از: منقار بالایی و منقار پایینی.

سوراخ‌های بینی نزدیک قاعده منقار بالایی قرار دارند.

(شکل ۷-۱)

ریش: ریش در طیور لایه دو گانه‌ای از پوست می‌باشد که کشیده یا متورم شده است. لایه عمقی زیر پوست در این ناحیه دربرگیرنده رگ‌های خونی بسیاری می‌باشد که به همین دلیل ریش‌ها پُر خون و قرمز رنگ می‌باشند. ریش‌ها در خروس بزرگ‌تر از مرغ است. از ریش برای تشخیص نژادها نیز استفاده می‌شود.

اندام شنوایی: گوش از یک سوراخ صوتی خارجی، که در واقع به منزله سوراخ خارجی گوش می‌باشد، شروع شده و به داخل مجرای به نام ناودان صوتی خارجی راه می‌یابد. شنوایی طیور معادل شنوایی پستانداران است.

اندام بینایی: اندام بینایی در برگیرنده کره چشم و اندام‌های فرعی است. اندام‌های فرعی شامل پلک‌ها، بافت

ملتحمه، دستگاه اشکی و ماهیچه‌های پلک‌ها می‌باشد.

بینایی در طیور بسیار خوب است و متناسب با آن، چشمان بزرگی دارند که یک تصویر را با تجزیه و تحلیل بسیار عالی به دست می‌آورند.

طیور می‌توانند رنگ‌ها را تشخیص دهند و نسبت به رنگ بنفش و نارنجی تمایل بیشتری نشان می‌دهند.

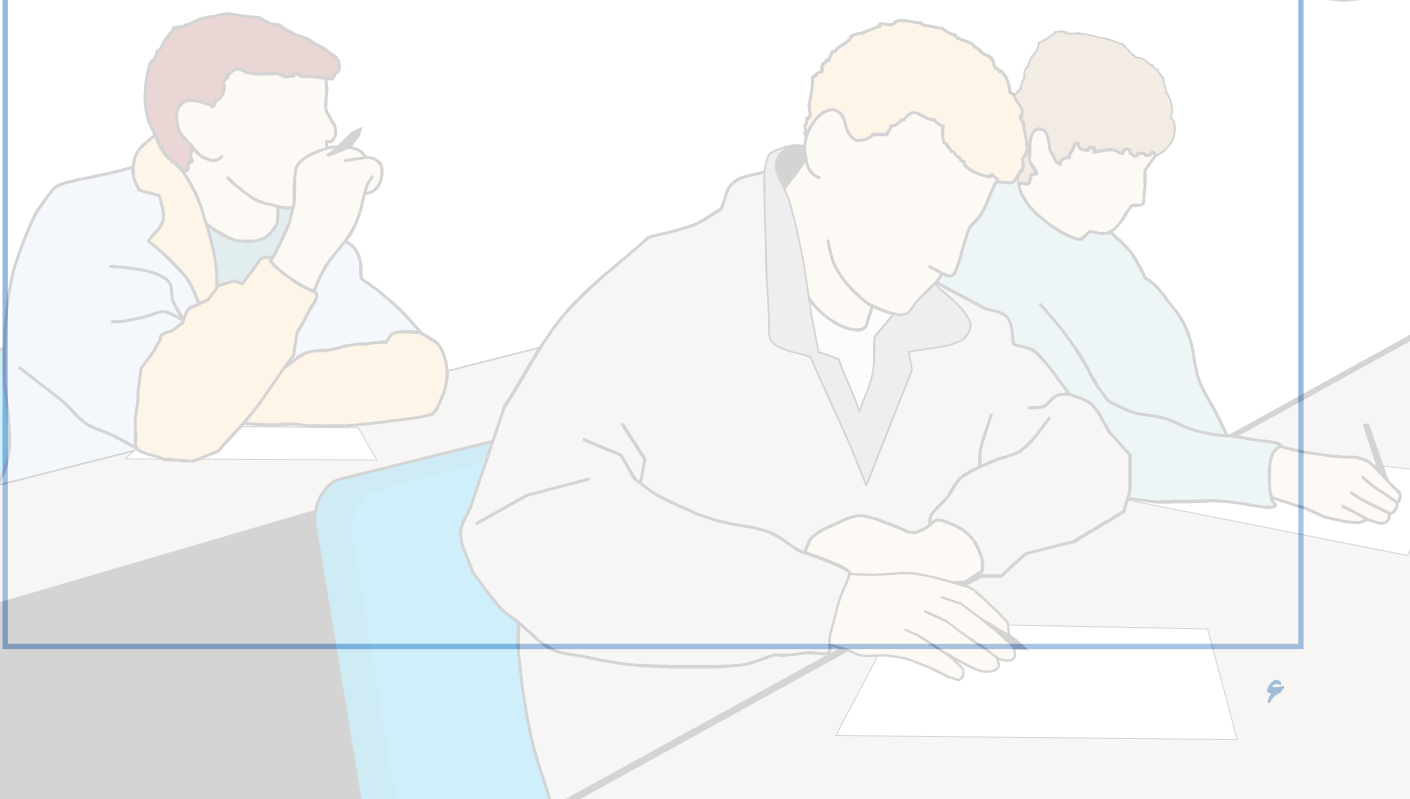
فعالیت عملی

پوشش بدن طیور

- ۱- یک قطعه جوجه و یک قطعه مرغ یا خروس تهیه نمایید.
- ۲- پرهای جوجه و مرغ را به طور دقیق مشاهده کنید.
- ۳- پر جوجه و مرغ را کنار زده و پوست آنها را مشاهده کنید.
- ۴- شکل تاج را با انواع تاج مقایسه کنید.
- ۵- از مشاهده خود گزارشی برای کلاس تهیه کنید.

آزمون پیمانه مهارتی ۱

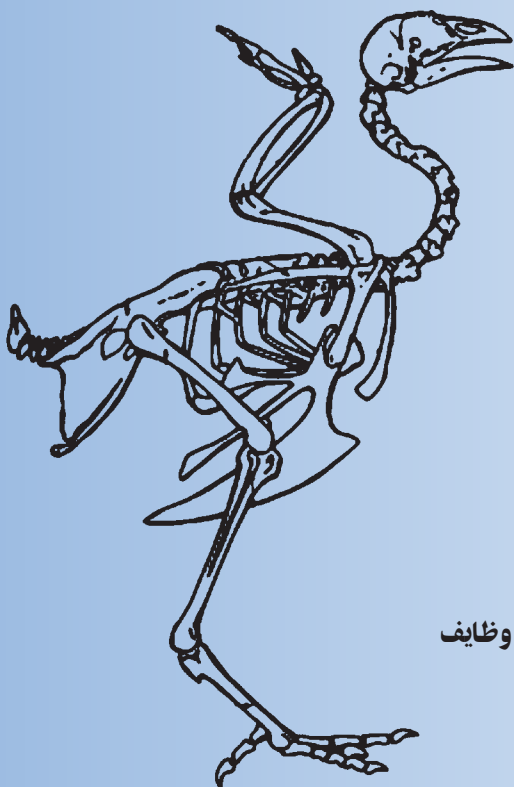
- ۱- وظایف پر را نام ببرید؟
- ۲- انواع پر را در پرندگان نام ببرید؟
- ۳- از نظر ساختمانی، پوست از چند لایه تشکیل شده است، نام ببرید؟
- ۴- چرا پوست بوقلمون تیره‌رنگ است؟
- ۵- شدت زردی پوست طیور به چه عواملی بستگی دارد؟
- ۶- چرا طیور توانایی تعرق و کاهش حرارت بدن در شرایط گرما را ندارند؟
- ۷- انواع تاج را در طیور نام ببرید؟
- ۸- منقار در طیور مانند چه عضوی در پستانداران است؟



دستگاه حرکتی

هدف کلی

شناخت دستگاه حرکتی طیور



هدف‌های رفتاری

در پایان این فصل هنرجو باید بتواند:

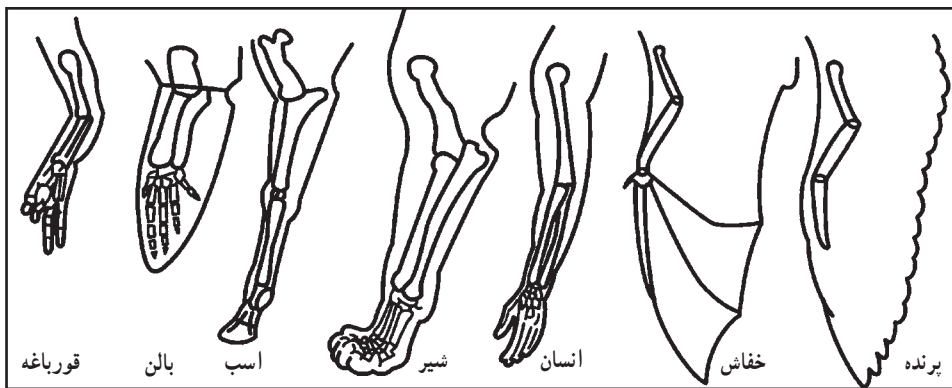
- ۱- وظایف استخوان بندی طیور را تعریف کنید.
- ۲- استخوان‌ها را طبقه بندی کرده و آنها را نشان دهد.
- ۳- ماهیچه‌ها را تقسیم بندی کرده و آنها را نشان دهد.

پیش آزمون

- ۱- چرا استخوان‌های طیور سبک‌تر از سایر گونه‌ها می‌باشد؟
- ۲- در مرغ ماهیچه سینه تیره است یا ماهیچه پاها؟
- ۳- آیا حفاظت از اندام‌های حساس و داخلی بدن مثل قلب و مغز از وظایف استخوان‌ها است؟

باعث وجود تفاوت‌هایی در شکل ظاهری و فعالیت آنها شده است. وظیفه اصلی دستگاه حرکتی، تأمین تعادل و حرکت برای انجام فعالیت‌های مختلف حیاتی می‌باشد. دستگاه حرکتی از استخوان‌ها، مفاصل، ماهیچه‌ها، رباط‌ها، تاندون‌ها، رگ‌ها و اعصاب تشکیل شده است.

دستگاه حرکتی پرندگان، با وجود تفاوت‌های ناشی از شرایط زیست آنها نسبت به سایر موجودات، دارای خصوصیت مشترک و یکسانی با حیوانات دیگر می‌باشد. شکل ۱-۲ اندام حرکتی جلویی تعدادی از مهره‌داران را نشان می‌دهد که نشانگر شباهت ساختاری آنها است. اما، چگونگی استفاده از این اندام،



شکل ۱-۲- اندام‌های حرکتی جلویی مهره‌داران

استخوان‌ها از نظر شکل ظاهری به چهار دسته

تقسیم می‌شوند:

۱- استخوان‌های دراز: استخوان‌هایی که طولشان بیشتر از عرض و ضخامت آنها می‌باشد، استخوان‌های دراز هستند و از یک تنه به نام دیافیز و دو انتهای برآمده به نام اپی‌فیز تشکیل شده‌اند. استخوان‌های بازو و ران از این استخوان‌ها هستند.

۲- استخوان‌های کوتاه: طول، عرض و ضخامت این استخوان‌ها تقریباً یکسان است. مانند استخوان‌های انگشتان پا و بال پرنده.

۳- استخوان‌های پهن: استخوان‌هایی هستند که ضخامت آنها کمتر از طول و عرضشان می‌باشد. استخوان‌های کف و جمجمه از این نوع استخوان‌ها هستند.

۱-۲- استخوان‌ها

استخوان‌ها، اندام مقاوم و سخت بدن می‌باشند و مانند سایر اعضای بدن، ساختمان و فیزیولوژی مخصوص دارند. استخوان‌بندی یا اسکلت، از به هم پیوستن استخوان‌ها و غضروف‌ها بوجود می‌آید.

نقش و وظایف استخوان‌ها، عبارت است از:

- ۱- به بدن حیوان شکل می‌دهد.
- ۲- در تولید سلول‌های خونی، دخالت دارند.
- ۳- مواد معدنی مورد نیاز بدن را ذخیره می‌کنند.
- ۴- اندام‌های حساس و داخلی بدن مثل قلب و مغز را حفظ می‌کنند.
- ۵- در تعادل بدن و حرکات حیوان نقش اصلی را دارند و نقطه اتکای ماهیچه‌ها هستند.

استخوان بندی ستون مهره‌ای - از تعدادی استخوان به نام مهره تشکیل شده است، که تعداد آنها در نواحی مختلف بدن طیور متفاوت می‌باشد.

مهره‌های گردن : تعداد مهره‌های گردنی در طیور بین ۱۴ تا ۱۷ عدد می‌باشد و در قو حداکثر ۲۵ عدد است. در پرندگان، تعداد مهره‌ها نسبت به پستانداران بسیار متغیر است. مهره اطلس، اولین مهره گردن است که در قسمت جلویی با استخوان پس سری و در قسمت عقبی به آسه، مهره دوم گردن متصل می‌شود. در طیور، آخرین مهره گردنی با سه مهره اول سینه‌ای متصل می‌شود. تعداد زیاد استخوان‌های گردن طیور سبب چرخش آسان گردن آنها می‌شود.

مهره‌های سینه‌ای (پشتی) : در طیور ۴ تا ۷ مهره سینه‌ای وجود دارد که ۲ تا ۵ مهره سینه‌ای ابتدایی با یکدیگر متصل هستند و یک استخوان واحد به نام نوتاریوم^۱ را به وجود می‌آورند.

استخوان مهره‌های سینه‌ای به صورت زمینه‌ای ثابت برای اتصال بال‌ها و عضلات به آنها در آمده‌اند.

مهره‌های کمر و لگن : در طیور، فاصله‌ای بین مهره‌های کمر و لگن وجود ندارد و این مهره‌ها با لگن خاصره یکی شده و استخوان سین ساکروم^۲ را تشکیل می‌دهند. تعداد این مهره‌ها در طیور ۱۵ تا ۱۶ عدد می‌باشد.

استخوان‌های ناحیه لگن برخلاف پستانداران از وسط به هم پیوسته نشده‌اند و انعطاف پذیر می‌باشد و به این ترتیب طبیعت اجازه می‌دهد تا تخم به آسانی از میان آنها بگذرد. فاصله بین دو استخوان لگن و همچنین فاصله بین این استخوان‌ها و قسمت انتهایی جناغ سینه، در تشخیص مرغ‌های نژاد تخمی از گوشتی مؤثر است.

مهره‌های دمی : در ناحیه پشتی سین ساکروم در طیور تعداد ۶ مهره دمی آزاد وجود دارد که در پرواز پرنده دخالت

۴- استخوان‌های نامنظم : این استخوان‌ها شکل منظمی ندارند و در هیچ یک از گروه‌های بالا قرار نمی‌گیرند. مانند استخوان‌های مهره گردن و کشکک.

ساختمان استخوان از دو نوع بافت تشکیل شده است :

۱- بافت استخوانی متراکم

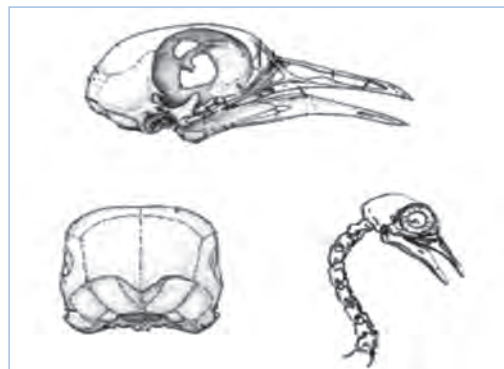
۲- بافت استخوانی اسفنجی

۲-۲- اسکلت و استخوان بندی طیور

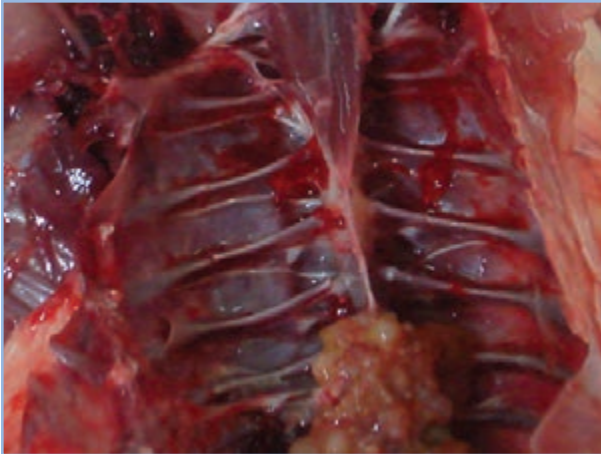
اسکلت پرندگان بسیار سبک‌تر و در عین حال قوی‌تر از حیوانات دیگر است. به این دلیل استخوان‌های پرندگان توخالی بوده ولی برای استحکام آن پیوندهای شبکه‌ای در داخل آن وجود دارد که در عین سبکی، قدرت و استحکام فوق العاده‌ای به آن می‌دهد.

استخوان بندی مرغ در شکل ۴-۲ نشان داده شده است و در ادامه به معرفی قسمت‌های مختلف آن اشاره می‌گردد.

استخوان‌های سر : این استخوان‌ها، جمجمه را می‌سازند که ۸ قطعه دارد و شامل : دو استخوان گیجگاهی، دو استخوان شب‌پره، استخوان پروبونی، آهیانه، پس سری و استخوان پیشانی می‌باشد. (شکل ۲-۲)



شکل ۲-۲- جمجمه مرغ



شکل ۳-۲- دنده‌های مرغ

دارند. چند مهره آخر دمی به هم چسبیده‌اند و استخوان واحدی به نام پی‌گوستیل^۱ را بوجود آورده‌اند که محل اتصال داخلی‌ترین پره‌های دمی است. این استخوان در قرقاول و شترمرغ‌سانان دیده نمی‌شود. در اردک و غاز، ۲ غده چربی هم در این قسمت وجود دارد که در چرب کردن پرها و جلوگیری از خیس شدن آنها مؤثرند.

قفسه سینه: محفظه‌ای است که به وسیله استخوان‌های مهره‌های پشت (سینه‌ای)، دنده‌ها، جناغ سینه و ترقوه احاطه شده است.

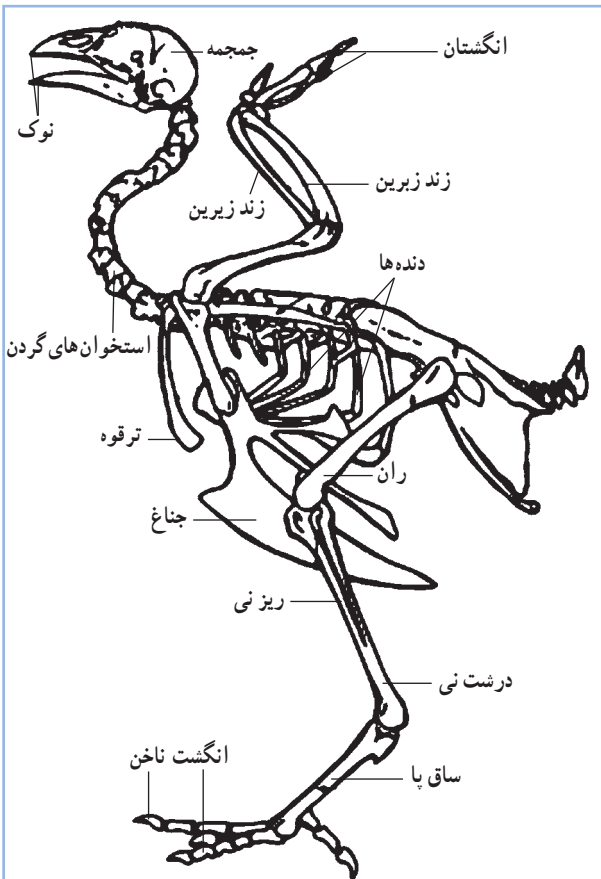
جناغ: در پرندگان نسبت به دیگر مهره‌داران بیشتر رشد کرده است و به عنوان عامل اصلی در طبقه‌بندی پرندگان به کار می‌رود. جناغ، استخوانی پهن و بزرگ است که در قسمت وسطی و خارجی آن، یک تیغه دیده می‌شود و ماهیچه‌های بال به آن متصل می‌شوند.

دنده‌ها: پرندگان ۳ تا ۹ جفت دنده حقیقی دارند. کبوترها کمترین تعداد دنده و قوها، بیشترین تعداد دنده را دارند. طیور ۷ جفت دنده دارند که ۲ دنده اولی آزاد هستند و ۵ دنده بعدی به استخوان جناغ سینه متصل شده‌اند. (شکل‌های ۲-۳ و ۲-۴)

اندام حرکتی جلویی: در پرندگان برای پرواز، تغییر شکل پیدا کرده و شامل کمربند سینه‌ای (کتفی) و بال می‌باشد. کمربند سینه‌ای در بردارنده استخوان‌های کتف، ترقوه و کوراکوئید یا غرابی است.

۱- استخوان کتف: استخوان تیغه‌ای شکل بلندی است که به طور محکم به وسیله رباط‌ها به دنده‌ها متصل شده است. در پرندگان قوی پرواز، کتف بلندترین استخوان و در پرندگان ضعیف پرواز، مانند شترمرغ بسیار کوچک است.

۲- استخوان ترقوه: استخوانی به شکل V است که در ناحیه شکمی قرار دارد.



شکل ۴-۲- استخوان‌بندی طیور

انگشت کوچک به سمت عقب و سه انگشت دیگر به سمت جلو امتداد دارند و به ترتیب دارای ۲، ۳، ۴ و ۵ بند هستند. (شکل ۲-۵-الف و ب)

۲-۳- ماهیچه‌ها

پرندگان دارای سیستم ماهیچه‌ای پیچیده‌ای هستند و به طور معمول رنگ عضله‌های آنان سفید می‌باشد.

بافت ماهیچه‌ای از اعضای قابل انقباض اصلی بدن می‌باشد که وظیفه تمام حرکات را در حیوان به عهده دارد. ۳ نوع عمده ماهیچه وجود دارد (شکل‌های ۲-۶، ۲-۷، ۲-۸). ماهیچه صاف در رگ‌های خونی، روده و دیگر اندام‌های غیر ارادی بدن وجود دارد. ماهیچه قلب و ماهیچه مخطط دو نوع دیگر ماهیچه می‌باشند. مسئولیت ماهیچه مخطط برای اغلب حرکات ارادی می‌باشد و پروتئین قابل مصرف لاشه را تشکیل می‌دهد.

۳- استخوان کورا کوئید یا غرابی: در بیشتر پرندگان، استخوانی حجیم است. استخوان‌های غرابی با اتصال محکم به جناغ، به صورت یک میله عمل می‌کنند و در طول پرواز بال‌ها را از جناغ دور نگه می‌دارند.

اسکلت بال به طور مشخص از استخوان‌های بازو، زند زبرین و زند زیرین، استخوان‌های میچ، استخوان‌های قلم دست و سه انگشت تشکیل شده است.

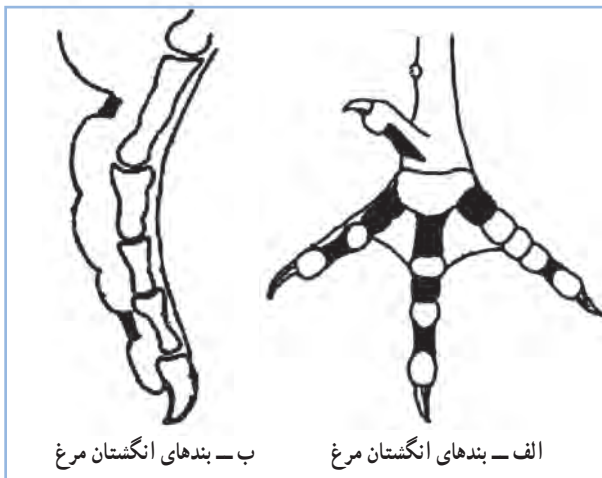
استخوان بازو دارای منافذ هوایی می‌باشد که موجب ارتباط این استخوان با کیسه‌های هوایی می‌شود.

استخوان‌های زند زبرین و زبرین از دو سر به هم چسبیده و از وسط از هم جدا می‌باشند.

اندام حرکتی عقبی (پاها): در پرندگان شامل استخوان ران، ساق پا (نازک نی و درشت نی)، استخوان قلم پا و انگشتان می‌باشد.

استخوان ران در پرندگان کوتاه و حجیم است. این استخوان در بالا به وسیله برجستگی کوچکی با استخوان لگن خاصره و در انتهای پایینی به استخوان‌های ساق متصل می‌شود. استخوان ساق پا شامل درشت نی و نازک نی می‌باشد که در قسمت انتهایی به هم چسبیده‌اند. درشت نی، درازترین استخوان طیور است.

استخوان قلم پا، مجموعه‌ای استخوانی است که از اتصال استخوان‌های میچ پا با سه استخوان قلم پا به وجود آمده است. در بیشتر پرندگان به ویژه ماکیان ۴ انگشت وجود دارد که یک



شکل ۲-۵



شکل ۲-۸- ماهیچه مخطط



شکل ۲-۷- سلول‌های ماهیچه قلب

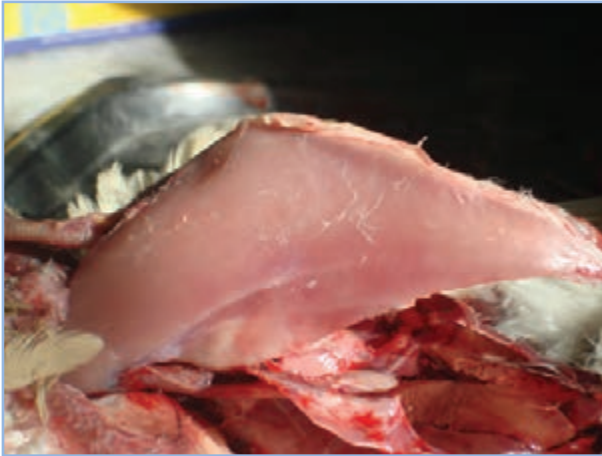


شکل ۲-۶- سلول‌های ماهیچه صاف

ماهیچه‌های سینه، ران و پا مهم‌ترین سیستم ماهیچه‌ای پرندگان می‌باشند. ماهیچه سینه برای تطابق پرندگان برای پرواز، بخش بزرگی از سیستم ماهیچه‌ای را تشکیل می‌دهد. بزرگ‌ترین ماهیچه بدن مرغ، ماهیچه سینه و قویترین آن ماهیچه زیر پوستی می‌باشد.

مرغ و بوقلمون دارای دو نوع ماهیچه سفید و قرمز می‌باشند که به گوشت سفید و قرمز معروفند. ماهیچه قرمز دارای مقادیر بیشتری میوگلوبین نسبت به ماهیچه سفید است. میوگلوبین، ترکیب آهن‌دار حامل اکسیژن است و از بعضی جهات مانند هموگلوبین می‌باشد و نقش انتقال اکسیژن و دی‌اکسید کربن را به عهده دارد.

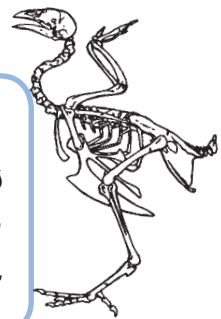
در طیور ماهیچه پاها تیره‌تر از ماهیچه سینه است، زیرا به هنگام ایستادن و برای قائم نگه داشتن بدن فشار بیشتری به آنها وارد می‌شود. (شکل ۹-۲)



شکل ۹-۲- عضله سینه مرغ

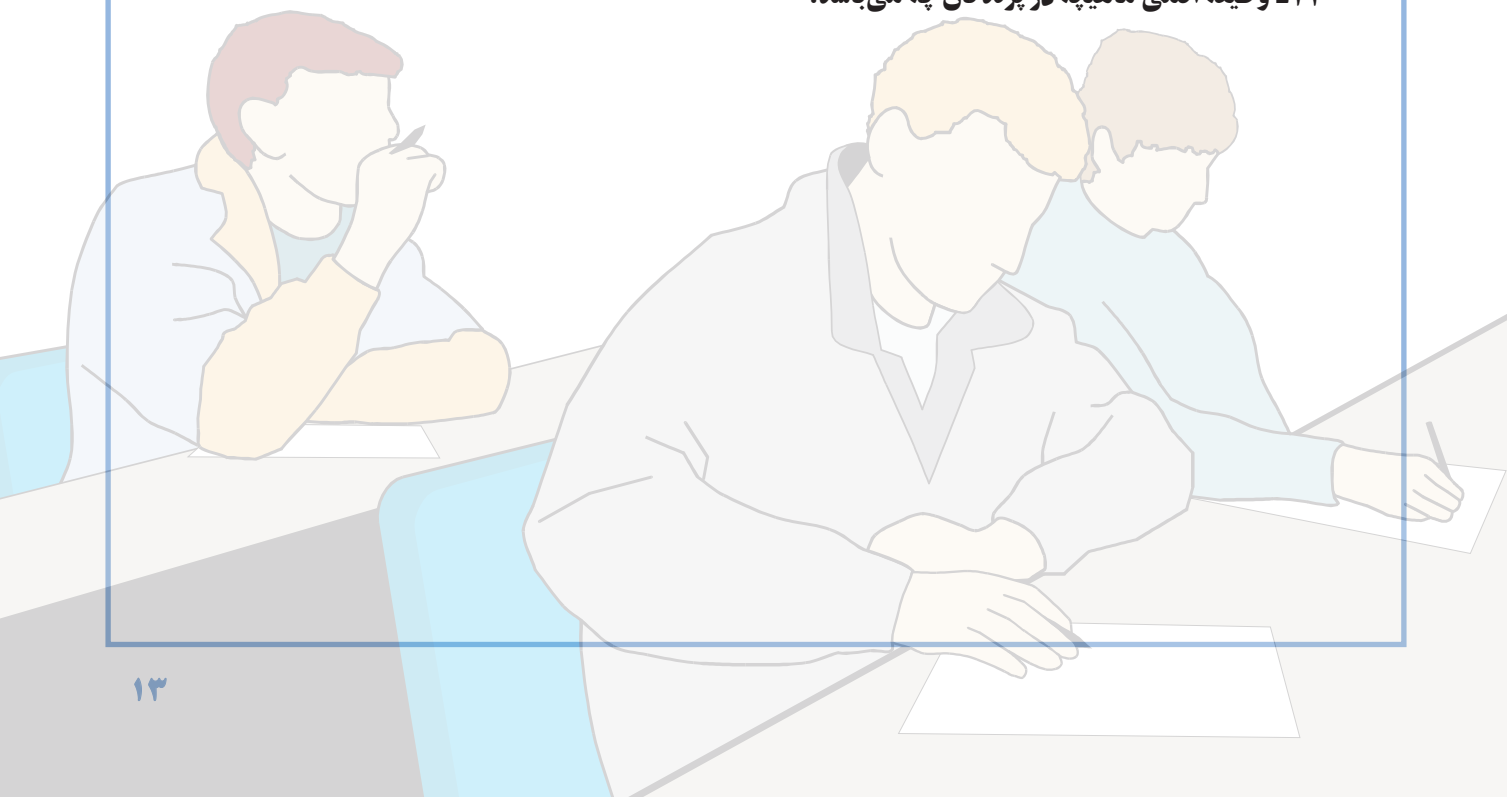
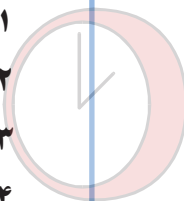
فعالیت عملی

- ۱- در آزمایشگاه عکس و اسلاید مربوط به اسکلت پرنده را مشاهده نمایید.
- ۲- با تشریح مرغ، استخوانهای مختلف و ماهیچه‌های بدن مرغ را مشاهده کنید.



آزمون پیمانۀ مهارتی ۲

- ۱- وظیفه اصلی دستگاه حرکتی چه می‌باشد؟
- ۲- نقش و وظایف استخوان‌ها را بنویسید.
- ۳- استخوان بندی یا اسکلت چیست؟
- ۴- استخوان‌ها از نظر شکل ظاهری به چند دسته تقسیم می‌شوند؟ نام ببرید.
- ۵- ساختمان استخوان از چند نوع بافت تشکیل شده است؟
- ۶- استخوان‌های سر شامل چه استخوان‌هایی می‌باشد؟
- ۷- مهره اول و دوم گردن چه نام دارد؟
- ۸- چرا استخوان‌های ناحیه لگن در طیور بر خلاف پستانداران از وسط بهم پیوسته نشده‌اند و انعطاف‌پذیر می‌باشد؟
- ۹- اندام حرکتی جلویی در پرندگان شامل چه قسمت‌هایی می‌باشد؟
- ۱۰- کمر بند سینه‌ای شامل چه استخوان‌هایی می‌باشد؟
- ۱۱- اسکلت بال از چه استخوان‌هایی تشکیل شده است؟
- ۱۲- اندام حرکتی عقبی (پاها) در پرندگان شامل چه استخوان‌هایی می‌باشد؟
- ۱۳- چند نوع ماهیچه در پرندگان وجود دارد؟
- ۱۴- وظیفه اصلی ماهیچه در پرندگان چه می‌باشد؟



دستگاه گوارش

هدف کلی

شناخت دستگاه گوارش طیور



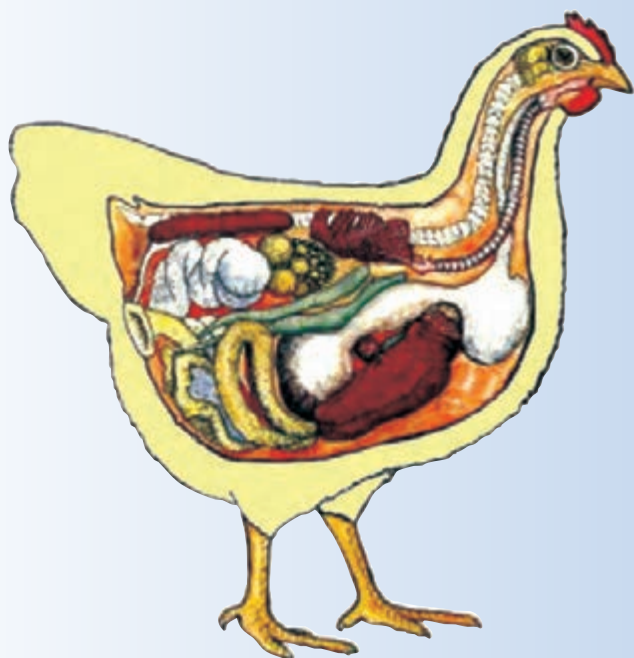
هدف‌های رفتاری

در پایان این فصل هنرجو باید بتواند:


- ۱- قسمت‌های مختلف دستگاه گوارش را شناسایی کند.
- ۲- وظایف قسمت‌های مختلف دستگاه گوارش را بیان کند.

پیش‌آزمون

- ۱- معده مرغ چند قسمتی است؟
- ۲- روده بزرگ طیور شامل چه قسمت‌هایی است؟
- ۳- آیا ادرار و مدفوع پرندگان با هم مخلوط می‌شود؟



حلق تا پیش معده ادامه دارد. (شکل‌های ۲-۳ و ۸-۳) این لوله در اواسط مهره‌های گردن (مجاور مهره پنجم گردن) گشاده شده، کیسه‌ای به نام (چینه‌دان)^۳ را به وجود می‌آورد. سپس لوله مری به حالت اولیه خود برگشته تا پیش معده ادامه می‌یابد. دیواره مری و چینه‌دان از چهار لایه تشکیل شده است که به ترتیب از خارج به داخل عبارتند از: لایه سروزی، لایه عضلانی (طولی و حلقوی)، لایه مخاطی و لایه زیر مخاطی.



شکل ۱-۳- نوک و بینی شتر مرغ



شکل ۲-۳- کام و مری مرغ

دستگاه گوارش طیور در مقایسه با دستگاه گوارش سایر حیوانات تفاوت‌های ویژه‌ای دارد.

اندازه دستگاه گوارش طیور، بستگی به اندازه جثه، نوع و میزان غذای مصرفی و گونه پرند دارد. دستگاه گوارش در مرغ‌های مادر بزرگ‌تر از جوجه‌های گوشتی است. همچنین در بعضی پرندگان نظیر شتر مرغ دستگاه گوارش، بسیار بزرگ‌تر از پرندگان کوچک می‌باشد.

۱-۳- قسمت‌های مختلف دستگاه گوارش

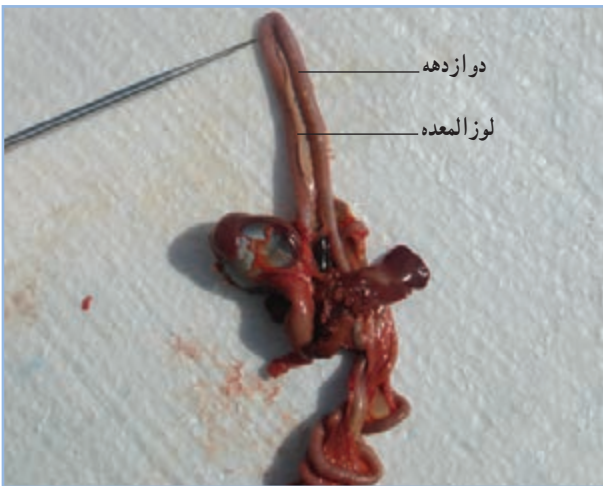
۱- دهان^۱ (حفره دهانی - حلقی): دهان در طیور فاقد لب و دندان است و کام نرم در طیور وجود ندارد. حفره دهانی در این حیوانات به وسیله منقارها از محیط بیرون جدا می‌شود. منقارها به صورت ۲ منقار سخت و شاخی هستند که بر روی هم قرار گرفته و از عقب به هم متصلند. منقار پایین به استخوان دندانی پایین (آرواره پایین) و منقار بالا که انتهای نوک آن مقداری به طرف پایین خمیده است به استخوان فک بالا متصل می‌باشد. سوراخ بینی در طیور در سطح پشتی منقار بالا قرار دارد. بنابراین حفره دهانی در طیور از بالا به وسیله کام سخت و از طرفین به وسیله گونه‌ها و در جلو به وسیله منقارها محدود می‌شود. کام سخت در سقف حفره دهان دارای سوراخی در وسط است که به حفره‌های بینی ارتباط دارد. همچنین در پرندگان هر دو فک بالا و پایین حرکت دارد اگر چه حرکت فک بالا بسیار کمتر است. (شکل‌های ۱-۳ و ۲-۳)

۲- زبان: در طیور مثلی شکل است و دارای تیغه‌هایی در آن طرفین می‌باشد. این تیغه در حرکت غذا به طرف حلق و مری نقش مهمی دارند. با توجه به اینکه طیور فاقد قدرت مکش در دهان خود هستند این حالت زبان در تغذیه آنها بسیار مؤثر می‌باشد.

۳- مری^۲: لوله‌ای است قابل انعطاف و عضلانی که از



شکل ۳-۳- پیش معده و سنگدان مرغ



شکل ۳-۴- دوازدهه (دئودنوم)



شکل ۳-۵- ژژنوم

سطح داخلی چین‌داز از سلول‌های مخاطی پوشیده شده است. این سلول‌ها دارای ترشحات مخاطی می‌باشند.

۴- معده^۱: معده در طیور شامل دو قسمت است:

● پیش معده^۲ (معده غده‌ای)

● معده ماهیچه‌ای یا سنگدان^۳

الف: پیش معده (معده غده‌ای): عضوی دوکی شکل

است که در قسمت چپ حفره بدن قرار دارد. کار اصلی معده حیوانات را در طیور، پیش معده انجام می‌دهد. محل اتصال پیش معده و معده ماهیچه‌ای را تنگه^۴ گویند.

در سطح داخلی پیش معده طیور برجستگی‌هایی وجود دارند. این برجستگی‌ها حاوی غدد ترشحی هستند و ترشحات خود را به داخل پیش معده می‌ریزند. این ترشحات شامل اسید معدی و آنزیم‌های هضم‌کننده پروتئین می‌باشند. در حالی که سطح داخلی تنگه هیچ‌گونه برجستگی و یا چین خوردگی ندارد.

ب: سنگدان (معده ماهیچه‌ای): دیواره معده ماهیچه‌ای

بسیار سفت و ضخیم است ولی ضخامت آن در سطح پشتی بیشتر از سطح شکمی آن می‌باشد. محل قرار گرفتن آن در حفره شکمی در زیر استخوان خاجی می‌باشد. دیواره داخلی آن از لایه ضخیمی از بافت مخاطی تشکیل شده و محکم به لایه زیرین خود (لایه عضلانی) چسبیده است. (شکل ۳-۳) عمل اصلی سنگدان آسیاب کردن مواد غذایی خرد شده می‌باشد.

۵- روده باریک^۵: بعد از سنگدان قرار گرفته و مانند

روده باریک حیوانات پستاندار از سه قسمت دئودنوم^۶ (دوازدهه)، ژژنوم^۷ و ایلتوم^۸ تشکیل شده است. ولی مرز بین این قسمت‌ها دقیقاً مشخص نیست و کل آنها را روده باریک در نظر می‌گیرند.

(شکل‌های ۳-۴، ۳-۵ و ۳-۶) ساختمان روده باریک از سه لایه تشکیل شده است. لایه داخلی آن مخاطی است و دارای پرزهایی است که در جذب و حرکت مواد غذایی مؤثر است. طول

۱- Stomach

۲- proventriculus

۳- Gizzard

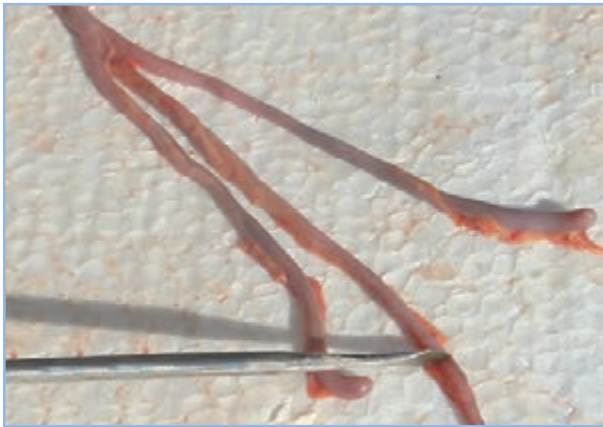
۴- Isthmus

۵- Small Intestine

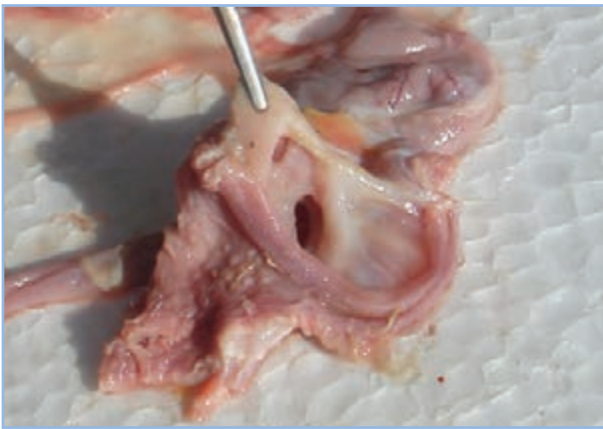
۶- Deodenum

۷- Jegenom

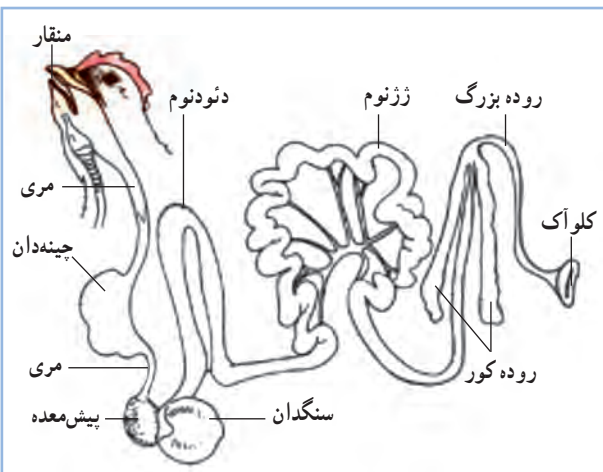
۸- Ileum



شکل ۳-۶- ایلئوم و رودهای کور



شکل ۳-۷- کلواک



شکل ۳-۸- دستگاه گوارش طیور

روده باریک مرغ ۱۶۰ تا ۱۷۰ سانتی متر است.

۶- روده بزرگ^۱: روده بزرگ در طیور شامل یک جفت زایده به نام روده کور^۲ (سکوم) و یک بخش کوتاه و مستقیم به نام راست روده^۳ (رکتوم) است که به کلواک^۴ ختم می‌شود (شکل‌های ۳-۶ و ۳-۸).

وظیفه اصلی روده بزرگ جذب آب از مدفوع و جذب اندک بعضی از مواد غذایی هضم شده می‌باشد.

۷- روده کور: به صورت دو زایده به طول ۱۴ تا ۲۳ سانتی متر در دو طرف راست روده قرار دارد. این دو زایده در محل اتصال روده باریک به روده فراخ به آنها متصل می‌شوند (شکل ۳-۶). روده کور دارای میکروبهایی است که سلولز موجود در مواد غذایی را هضم کرده و در نتیجه گلوکز و ویتامین‌های گروه B و K را تولید می‌کنند.

۸- کلواک: آخرین قسمت دستگاه گوارش طیور می‌باشد. کلواک به عنوان حفره مشترک بین دستگاه تولید مثل، دفع ادرار و مدفوع می‌باشد. کلواک شیپوری شکل و دارای دو ناحیه گوارشی و ادراری - تناسلی است. ناحیه گوارشی آن به راست روده متصل بوده و محل تجمع مدفوع می‌باشد. در انتهای این ناحیه اسفنکتری وجود دارد که باعث نگهداری و تجمع مدفوع شده و در موقع دفع باز می‌شود. (شکل‌های ۳-۷ و ۳-۸)

ناحیه ادراری - تناسلی: بعد از اسفنکتر ناحیه گوارشی قرار دارد. در طیور نر مجرای ادراری و مجرای خروجی منی در این ناحیه باز می‌شود. در انتهای ناحیه ادراری تناسلی جنس نر، اجسام فالیک وجود دارد که اندام جفت‌گیری جنس نر می‌باشد. در طیور ماده مجرای خروج منی و آلت جفت‌گیری طیور نر به ناحیه ادراری تناسلی ماده وارد می‌شود. در انتهای کلواک اسفنکتر مقعد قرار دارد که در تمام حالات به جز در مواقع دفع مدفوع، جفت‌گیری و تخم‌گذاری بسته است. (شکل‌های ۳-۷ و ۳-۸)

۲-۳- فیزیولوژی دستگاه گوارش

دستگاه گوارش در طیور عمل گرفتن غذا، عبور غذا از مجرای گوارش، هضم و جذب و بالاخره دفع مواد زاید را انجام می‌دهد.

طیور بوسیله منقار غذا را می‌گیرند. منقار عضوی شاخی است و عمل لب رادر طیور انجام می‌دهد و با مجاری بینی ارتباط دارد.

زبان و نقش آن در طیور: زبان در کف دهان بصورت یک جسم مثلثی شکل قرار دارد. اگر چه زبان در پرندگان کارآیی زبان پستانداران را ندارد ولی در انتهای آن پرزهای ردیفی شکلی وجود دارد که به بلع غذا کمک می‌نماید. در داخل مری غدد موکوسی وجود داشته که ترشح آنها سبب سهولت حرکت و روانه شدن غذا به طرف معده می‌گردد. (شکل ۹-۳)



شکل ۹-۳- زبان مرغ

زبان

فاقد چینه‌دان است، بنابراین لازم است که غذای مرغابی به صورت خمیر آبکی و با حداقل خیس‌مانده به حیوان داده شود. (شکل‌های ۸-۳ و ۱۰-۳)

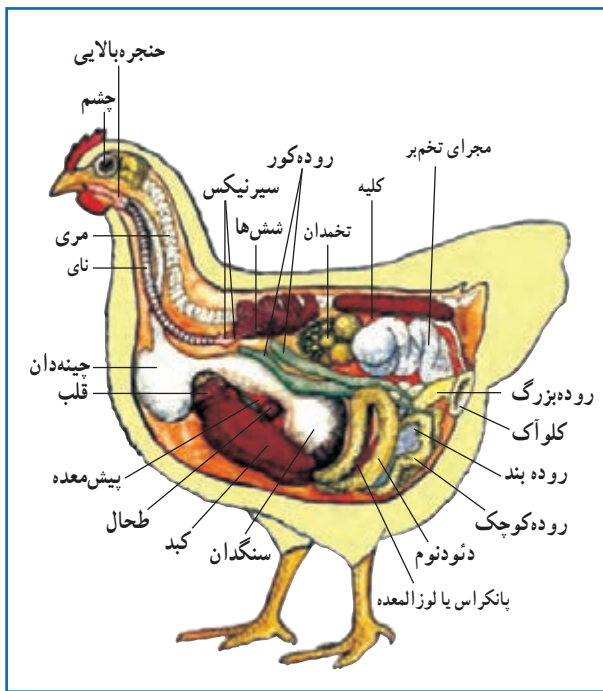
پیش معده: در طی توقف غذا در این قسمت، غذا با ترشحات اسیدی معده و شیره آن آغشته شده و سپس به معده اصلی رانده می‌شود.

سنگدان: عمل این عضو در گوارش پرندگان بسیار مهم است، زیرا همان‌طور که گفته شد طیور فاقد دندان یا عضو خردکننده غذا می‌باشند، بنابراین پس از آن که غذا داخل چینه‌دان نرم شد و در داخل پیش معده با شیره معده آغشته گردید، در داخل سنگدان به وسیله حرکت شدید و انقباضات عضلات خرد می‌شود. معمولاً داخل سنگدان تعدادی سنگ‌ریزه وجود دارد که پرنده به طور طبیعی آنها را همراه غذا یا به طور جداگانه قبل از غذا می‌بلعد، از این رو این سنگ‌ریزه‌ها همراه با انقباضات شدید سنگدان باعث خرد شدن غذا شده و به گوارش غذای پرنده کمک می‌کنند. هنگامی که غذا بخوبی در سنگدان خرد و به صورت یکنواخت و نیمه مایع درآمد به طرف دوازدهه و روده رانده می‌شود.

روده کوچک: روده باریک طیور بر خلاف پستانداران دارای قسمت‌های مشخصی نمی‌باشد. قسمت اول روده باریک را دوازدهه می‌نامند که ترشحات پانکراس و کبد در این قسمت به داخل روده می‌ریزد. جذب غذا به طور عمده در روده کوچک انجام می‌گیرد. غذا در روده به شکل محلول آبکی و قابل جذب در می‌آید. در داخل روده کوچک پرزهای زیادی وجود دارد که باعث گسترش سطح جذب در روده کوچک می‌شود.

کبد: در پرندگان بسیار بزرگ و دارای دو قطعه می‌باشد که قطعه راست بزرگ‌تر و کیسه صفرا به آن متصل است. کبد ترشحات خود را که صفرا می‌باشد در کیسه صفرا جمع کرده و برای خرد کردن چربی‌ها در انتهای دوازدهه به روده و کیسه صفرا

چینه‌دان: وظیفه اصلی چینه‌دان ذخیره غذاست. هر چند ممکن است که عمل هضم روی غذا به مقدار جزئی در چینه‌دان انجام شود. به علت عدم جویدن و توقف غذا در دهان طیور، تأثیر بزاق حیوان در هضم غذا در چینه‌دان صورت می‌گیرد. مرغابی



شکل ۱-۳ - دستگاه گوارش طیور و سایر اندام های بدن



فعالیت عملی

شناسایی قسمت های مختلف دستگاه گوارش طیور:

مواد و تجهیزات لازم:

لاشه مرغ یا خروس، لوازم تشریح.

در آزمایشگاه و زیر نظر مربی لاشه را با دقت باز کنید

و قسمت های مختلف دستگاه گوارش را شناسایی نمایید.

می ریزد (شکل ۱-۳). بانکراس نیز در تاخوردگی دوازدهه قرار دارد و رنگ آن قهوه ای می باشد. (شکل های ۳-۴ و ۱-۳) کیسه صفرا^۱: ترشحات خود را به روده کوچک می ریزد. (شکل ۱-۳) ترشحات لوزالمعده و کبد موجب هضم چربی ها، پروتئین ها و کربوهیدرات ها در روده می شود. رنگ سبز صفرا به دلیل رنگ دانه های آن است.

روده کور: روده کور دارای میکروب های زیادی می باشد. به طوری که این میکروب ها سلولز موجود در مواد غذایی را در این قسمت هضم می کنند که نتیجه آن تولید گلوکز و همچنین ویتامین های گروه B و ویتامین K می باشد. مواد حاصل از تخمیر به وسیله میکرو ارگانیسم ها، به ندرت مورد استفاده بدن طیور قرار می گیرند.

زیرا از محل اصلی جذب (روده باریک) دور مانده اند. اندازه و فعالیت روده های کور در پرندگانی که علف خوار هستند بیشتر از پرندگان دانه خوار و یا حشره خوار می باشند.

روده بزرگ یا راست روده: این قسمت در حقیقت محل ریختن بقایای هضم نشده غذا است. غذای هضم نشده بوسیله حرکات روده بزرگ به طرف کلواک رانده می شود.

کلواک: محلی است که از یک طرف بقایای هضم نشده غذا (مدفوع) و از طرف دیگر ادرار و از طرفی نیز محل اتصال مجرای تناسلی و محل ریخته شدن اسپرم در آن می باشد.

مخرج: مواد دفعی پس از این که وارد کلواک شد به طرف مخرج رانده شده و از آنجا دفع می شود.

نکته مهمی که باید مورد توجه قرار گیرد این است که چون طول دستگاه گوارش پرندگان کم می باشد لذا زودتر گرسنه می شوند و نیاز به غذا خوردن در آنها دارای دوره کوتاه تری است. یکی از علت هایی هم که پرندگان صبح زود بیدار می شوند این است که چون در طول شب غذایی دریافت نمی کنند در نتیجه صبح زودتر از دیگر حیوانات گرسنه شده و بیدار می شوند.

۱- Gall Bladder

آزمون پیمانۀ مهارتی ۳

- ۱- قسمت‌های مختلف دستگاه گوارش طیور را نام ببرید.
- ۲- دیواره مری و چینۀان از چند لایه تشکیل شده است؟ نام ببرید.
- ۳- معده در طیور شامل چه قسمت‌هایی است؟
- ۴- معده حقیقی طیور چه نام دارد؟
- ۵- روده باریک از چه قسمت‌هایی تشکیل شده است؟
- ۶- کلوآک دارای چه نواحی می‌باشد؟
- ۷- وظیفه دستگاه گوارش طیور چه می‌باشد؟
- ۸- نقش منقار و زبان را در طیور شرح دهید؟
- ۹- وظیفه اصلی چینۀان در دستگاه گوارش طیور چه می‌باشد؟
- ۱۰- چرا غذای مرغابی به صورت خمیر آبکی و یا خیسانده باید باشد؟
- ۱۱- نقش پیش معده در دستگاه گوارش طیور را بیان کنید؟
- ۱۲- نقش سنگدان را در دستگاه گوارش طیور شرح دهید؟
- ۱۳- جذب غذا در کدام قسمت از دستگاه گوارش طیور انجام می‌گیرد؟
- ۱۴- وظیفه روده کور را در دستگاه گوارش طیور شرح دهید؟
- ۱۵- وظیفه روده بزرگ و کلوآک را بیان نمایید؟
- ۱۶- چرا پرندگان زودتر گرسنه می‌شوند؟



دستگاه تولید مثل

هدف کلی

شناخت دستگاه تولید مثل طیور



هدف‌های رفتاری

در پایان این فصل هنرجو باید بتواند:

- ۱- تولید مثل را تعریف کند.
- ۲- لاشه مرغ را کالبد گشایی کند.
- ۳- ساختمان قسمت‌های مختلف دستگاه تولید مثل نر و ماده را تعریف کند.
- ۴- قسمت‌های مختلف دستگاه تولید مثل نر و ماده را شناسایی کند.
- ۵- نقش هر یک از حیوانات نر و ماده را در تولید مثل بیان کند.
- ۶- وظایف هر یک از قسمت‌های دستگاه تولید مثل نر و ماده را بیان کند.
- ۷- نحوه تشکیل تخم مرغ را بیان کند.
- ۸- قسمت‌های مختلف تخم مرغ را نشان دهد.
- ۹- جنین مرغ را در روزهای مختلف جنینی مشاهده کند.

پیش‌آزمون

- ۱- چرا بیضه‌ها در خروس داخل بدن قرار دارند؟
- ۲- مهمترین وظیفه تخمدان چیست؟
- ۳- قسمت‌های مختلف تخم مرغ را نام ببرید.

بیضه راست است. هر بیضه از تعداد زیادی لوله‌های سیلندری شکل تشکیل شده که به آنها لوله‌های سمینی فر (منی‌ساز) گویند. وظیفه اصلی بیضه‌ها تولید اسپرم^۲ است.

سلول‌های اسپرماتوزوئید (اسپرم) از یک سر کشیده و گردن و دم تشکیل شده و در مایع منی شناورند.

۲- مجرای منی بر: مایع منی به همراه اسپرم‌ها بوسیله کانال دفران (مجرای منی بر) به کلواک برده می‌شوند. کلواک از سه قسمت تشکیل می‌شود که به وسیله پرده افقی از هم جدا می‌شوند. در قسمت وسطی برجستگی کوچکی وجود دارد که به منزله آلت تناسلی جنس نر می‌باشد و کانال دفران در کنار آن باز می‌شود و در هنگام جفت‌گیری کلواک جنس نر روی کلواک ماده قرار می‌گیرد و مایع انزال بوسیله این برجستگی به داخل اویدوکت که مدخل آن در دیواره کلواک ماده قرار گرفته می‌ریزد.

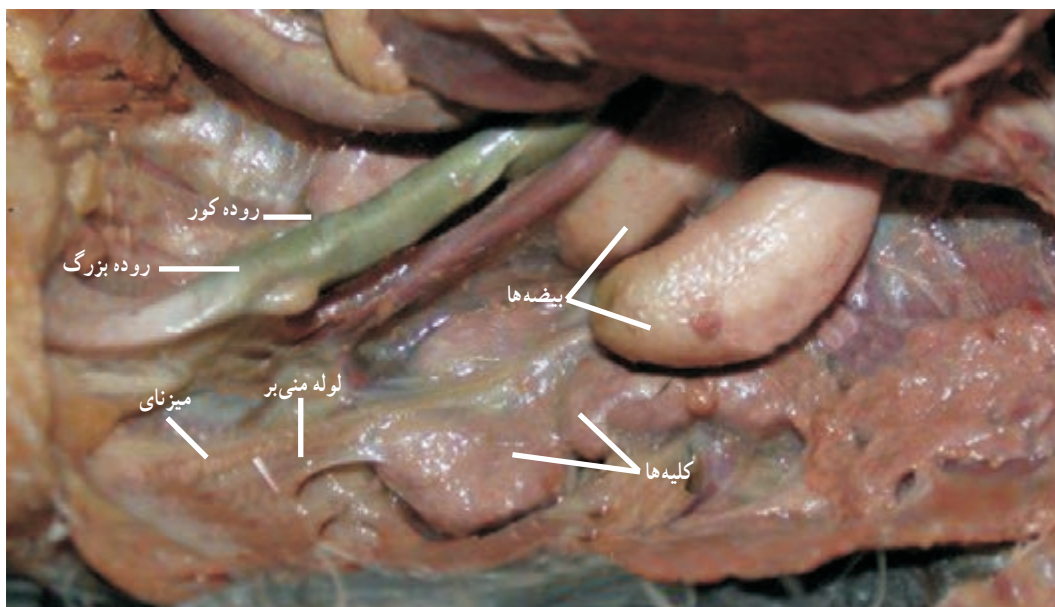
دستگاه تولید مثل پرندگان دارای اختلافاتی با دیگر جانداران به ویژه پستانداران می‌باشد.

۴-۱- دستگاه تولید مثل نر

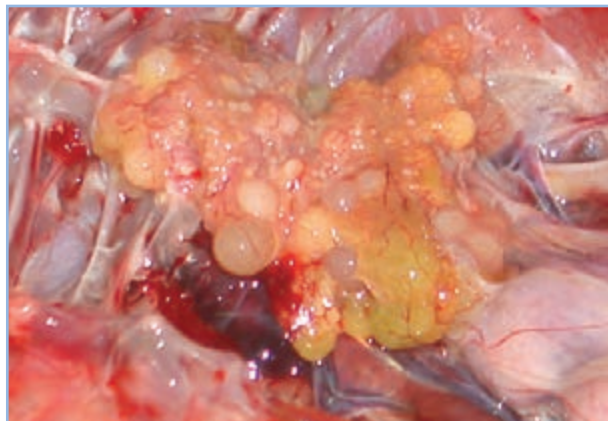
دستگاه تولید مثل جنس نر، شامل بیضه‌ها و مجرای منی بر است.

۱- بیضه: بیضه‌ها از دو عضو کوچک بیضوی شکل تشکیل شده‌اند که در انتهای جلویی کلیه و در دیواره پشتی بدن آویزان هستند. (شکل ۱-۴) بر خلاف پستانداران که بیضه‌ها در داخل کیسه بیضه قرار داشته و خارج از بدن است، بیضه‌های خروس در داخل بدن و بدون پوسته می‌باشند، زیرا عمل اسپرم‌سازی در خروس در دمای بدن انجام می‌گیرد.

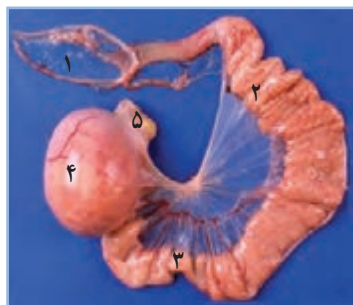
رنگ معمولی بیضه‌ها زرد است ولی در برخی اوقات ممکن است دارای رنگدانه باشد. بیضه چپ کمی بزرگ‌تر از



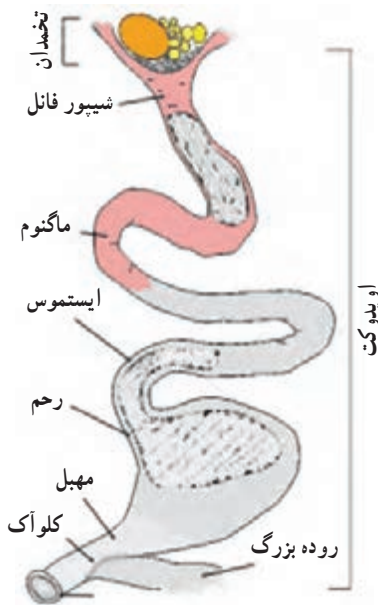
شکل ۴-۱- دستگاه تولید مثل نر



شکل ۲-۴- تخمدان مرغ



- ۱- شیپور فانل
- ۲- ماگنوم
- ۳- تنگه
- ۴- رحم
- ۵- مهبل



شکل ۳-۴- دستگاه تولید مثل ماده

۲-۴- دستگاه تولید مثل ماده

دستگاه تولید مثل پرنده ماده از دو قسمت تشکیل گردیده است:

۱- تخمدان: تخمدان چپ بزرگ و فعال و تخمدان راست کوچک و غیر فعال می‌باشد. تخمدان چپ در داخل محوطه بطنی و نزدیک کلیه‌ها قرار گرفته است و در پرنده بالغ شبیه خوشه انگور می‌باشد که از زرده‌های متعدد و به اندازه‌های مختلف تشکیل شده است که به آنها اووسیت گویند. از رسیدن این اووسیت‌ها زرده کامل و رسیده حاصل می‌گردد.

مهم‌ترین وظیفه تخمدان، تولید تخمک (زرده تخم مرغ) می‌باشد. زرده در واقع اندوخته غذایی تخمک می‌باشد. (شکل ۲-۴)

۲- مجرای تخم بر^۲: مجرای تخم بر لوله بزرگ، پهن و تا خورده‌ای است که قسمت اعظم محوطه بطنی به خصوص قسمت چپ را فرا گرفته و تا نزدیکی کیسه هوایی پشتی ادامه دارد. سطح اویدوکت دارای عروق خونی زیادی می‌باشد و از ۵ قسمت تشکیل شده است (شکل ۳-۴):

قسمت اول به شکل قیف بوده و در زیر تخمدان چپ قرار گرفته و به آن شیپور یا فانل^۱ می‌گویند.

قسمت دوم درازتر است ماگنوم^۴ نامیده می‌شود.

قسمت سوم تنگه^۵ نامیده می‌شود.

قسمت چهارم رحم یا زهدان^۶ است.

قسمت پنجم مهبل^۷ نامیده می‌شود که در داخل کلواک باز می‌شود.

۱- ovary
۵- Isthmus

۲- oviduct
۶- Uterus

۳- Infundibulum, funnel
۷- vagina

۴- Magnum

و حجم زرده شروع به افزایش می‌کند. هنگامی که قطر فولیکول به اندازه کافی افزایش یافت، در قسمتی که فاقد رگ‌های خونی می‌باشد و استیگما نام دارد ترک بر می‌دارد و تخمک بالغ آزاد شده و از این زمان به بعد زرده نامیده می‌شود.

زرده تخم مرغ آزاد شده به داخل شیپور مجرای تخم‌بر می‌افتد که به این عمل تخمک‌گذاری می‌گویند. این مرحله ۱۸ تا ۲۰ دقیقه طول می‌کشد.

شیپور دارای دو وظیفه می‌باشد:

(۱) گرفتن زرده از تخمدان

(۲) محل برخورد اسپرماتوزوئید با زرده می‌باشد. اگر جفت‌گیری بین خروس و مرغ انجام شده و اسپرم به ناحیه شیپور رسیده باشد، با زرده تلاقی انجام می‌گیرد و باروری صورت می‌پذیرد و سلول تخم تشکیل می‌شود. سلول تخم شروع به رشد کرده و تولید لکه رویان (درکنار و بالای) زرده می‌کند که آن را نطفه می‌نامند. تخم بارور شده به قسمت ماگنوم می‌رسد و در این قسمت سفیده تخم مرغ در اطراف زرده تشکیل می‌شود.

سفیده دارای ۴ لایه متمایز است که عبارتند از:

(۱) شالاژ که به زرده چسبیده است.

(۲) سفیده داخلی رقیق.

(۳) سفیده غلیظ.

(۴) سفیده خارجی رقیق.

تخم سپس به ناحیه تنگه می‌رسد. در این ناحیه پوسته داخلی و خارجی تشکیل می‌شود (همان پوسته‌های نازکی که زیر پوسته صدفی قرار دارند). در رحم پوسته صدفی تخم تشکیل می‌شود که برای انجام آن حدود ۱۹ تا ۲۰ ساعت وقت لازم است.

کیسه هوایی که در قسمت پهن تخم قرار دارد در ناحیه مهبل به وجود می‌آید. در آخرین مرحله از تشکیل تخم، ماده‌ای

دستگاه تولید مثل در پرندگان اختلاف زیادی با پستانداران دارد زیرا جنین در پستانداران داخل رحم و در پرندگان خارج از رحم رشد و نمو می‌کند. دستگاه تولید مثل جنس ماده فقط برای تهیه و تولید تخم و نطفه‌دار کردن آن به کار می‌رود و از نظر رشد جنین وظیفه چندانی به جز چند ساعت اول بر عهده ندارد. طیور معمولاً در طی ۵ تا ۶ ماه بالغ می‌شوند و چند روزی پشت سر هم تخم می‌گذارند و سپس مدتی استراحت می‌نمایند. سیکل تناسلی بسته به ژنتیک و محیط متغیر است.

فعالیت عملی



شناسایی قسمت‌های مختلف دستگاه تولید مثل

طیور:

مواد و تجهیزات لازم:

لاشه مرغ و خروس، لوازم کالبد گشایی لاشه.

در آزمایشگاه و زیر نظر مربی آزمایشگاه، لاشه‌ها

را به دقت باز کنید. قسمت‌های مختلف دستگاه

تولید مثل خروس و مرغ را شناسایی کنید.

۳-۴- مراحل تشکیل تخم پرنده

تخمدان مرغ بالغ دارای تعداد زیادی تخمک می‌باشد که در حدود ۶ تا ۱۰ روز قبل از تخم‌گذاری یکی از تخمک‌ها شروع به رشد می‌کند و بزرگ می‌شود. تخم‌ها دارای غشای زرده هستند و زرده در بین آن قرار دارد.

زرده و غشای زرده از بافت رابط پوشیده شده که در این حالت به آن فولیکول می‌گویند و مویرگ‌های خونی زیادی آن را می‌پوشاند. به وسیله این مویرگ‌ها مواد غذایی به فولیکول می‌رسد

۴-۴- تغییرات روزانه رشد جنینی

نطفه پس از تشکیل، شروع به تقسیم و رشد می‌کند. در بدن مرغ و در حرارت مناسب بدن، مراحل اولیه رشد جنین صورت می‌گیرد. پس از تخم‌گذاری، به دلیل حرارت کمتر محیط نسبت به بدن مادر، رشد جنین متوقف می‌گردد. توقف رشد در این مرحله، لطمه‌ای به زندگی جنین وارد نمی‌کند و جنین برای مدتی خاصیت حیاتی خود را حفظ می‌کند. پس از مساعد شدن محیط، از جمله خوابیدن مادر بر روی تخم و یا قرار دادن در ماشین جوجه‌کشی، رشد و نمو نطفه ادامه می‌یابد و پس از ۲۱ روز جوجه از تخم بیرون می‌آید.

فعالیت عملی



یک عدد تخم مرغ پخته و یک عدد تخم مرغ تازه را شکسته و سعی کنید قسمت‌های مختلف تخم مرغ را مشاهده نمایید.

مراحل رشد و تکامل اعضای جنین از روز اول تا بیست و یک روزگی به شرح زیر می‌باشد که در شکل‌های (۴-۵) تا (۴-۲۴) مشاهده می‌نمایید.

در روز اول، لوله‌های اولیه، ستون فقرات، اعصاب، سر و چشم تشکیل می‌شود.

در روز دوم، قلب و گوش شکل می‌گیرد و ضربان قلب شروع می‌گردد.

در روز سوم، بینی، بال‌ها و پاها شکل می‌گیرد. در روز چهارم، زبان و در روز پنجم، دستگاه تناسلی و تمایز جنسی تشکیل می‌شود.

در روز ششم، منقار و پنجه‌ها شکل می‌گیرد و در روزهای هفتم تا دهم پرها و منقار تشکیل می‌گردد.

مرطوب روی منافذ پوسته را می‌پوشاند.

تخم با حرکات دودی به کلوآک می‌رسد و از راه مقعد خارج می‌شود.

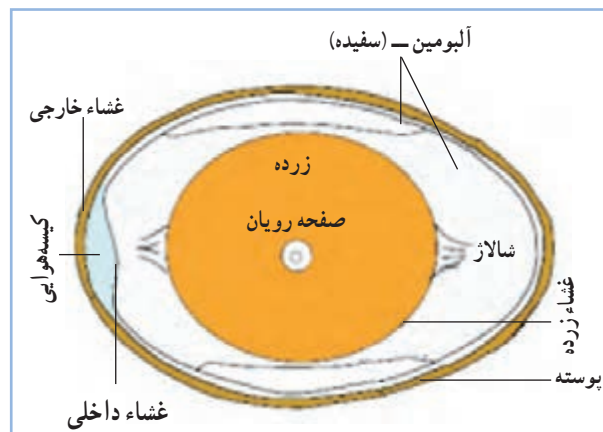
به طور معمول ابتدا سر باریک تخم مرغ با عبور از مجرای تخمدان تشکیل می‌گردد. جالب است بدانید که در عمل تخم‌گذاری ابتدا سر پهن تخم مرغ از بدن دفع می‌شود.

به طور متوسط فاصله دو تخم‌گذاری متوالی ۲۶/۵ ساعت است و فاصله تخم‌گذاری تا تخمک‌اندازی بعدی ۱۴ تا ۷۵ دقیقه است.

تمام مراحل تشکیل تخم و تخم‌گذاری تحت تأثیر هورمون‌های جنسی و عوامل خارجی می‌باشد. تخمک‌اندازی و تخم‌گذاری تحت تأثیر روش‌شنایی و تاریکی می‌باشند.

ساختمان تخم از قسمت‌های زیر تشکیل شده است (شکل ۴-۴):

- ۱- صفحه رویان
- ۲- زرده
- ۳- سفیده
- ۴- پوسته نازک (داخلی و خارجی)
- ۵- پوسته صدفی
- ۶- کیسه هوایی



شکل ۴-۴- قسمت‌های مختلف تخم مرغ

می‌شود. و برای اولین بار جنین توسط ریه‌هایش شروع به تنفس می‌کند.

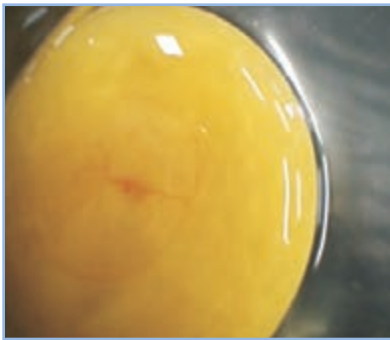
در روز بیستم، جنین همه فضای تخم مرغ به جز کیسه هوایی را پر می‌کند و سر زیر بال راست قرار می‌گیرد.

در اثر انقباض ماهیچه گردن و زائده منقار بالا پوسته سوراخ می‌شود و در روز بیستم و یکم، جنین از تخم خارج می‌شود.

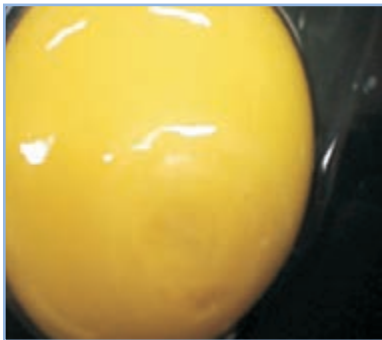
در روز چهاردهم جنین در موقعیت اصلی خود یعنی سر به طرف قسمت بزرگ تخم مرغ (کیسه‌هوائی) قرار می‌گیرد.

در روزهای شانزدهم و هفدهم، سفیده به طور کامل جذب و مایع جنینی کاهش می‌یابد. منقار و پنجه‌ها کاملاً سخت و شاخی شده و منقار به طرف اتافک هوایی حرکت می‌کند.

در روز نوزدهم، کیسه زرده به داخل حفره بدنی وارد



شکل ۷-۴- روز سوم



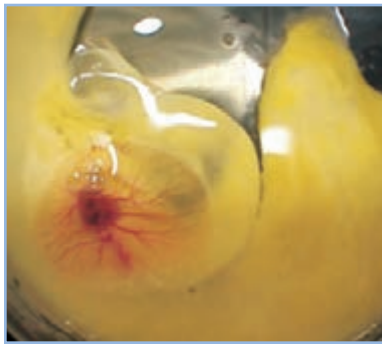
شکل ۶-۴- روز دوم



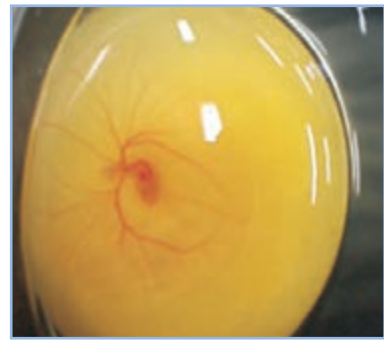
شکل ۵-۴- روز اول



شکل ۱۰-۴- روز ششم



شکل ۹-۴- روز پنجم



شکل ۸-۴- روز چهارم



شکل ۱۳-۴- روز نهم



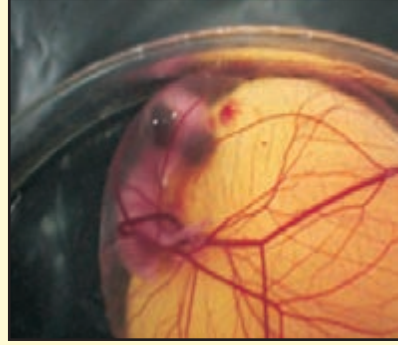
شکل ۱۲-۴- روز هشتم



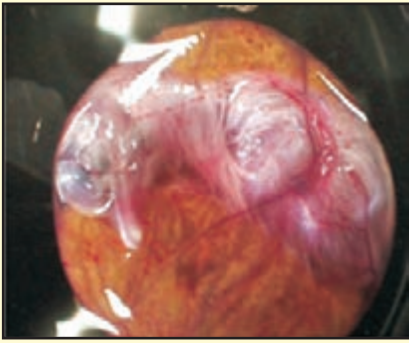
شکل ۱۱-۴- روز هفتم



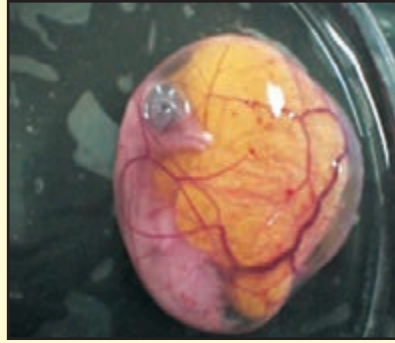
شکل ۱۵-۴- روز یازدهم



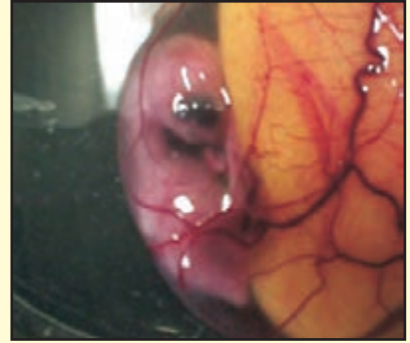
شکل ۱۴-۴- روز دهم



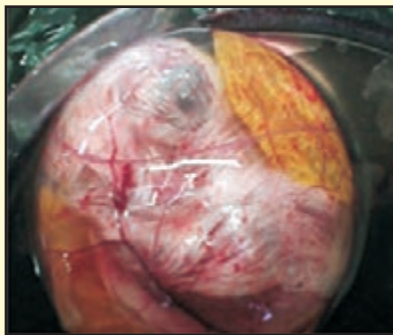
شکل ۱۸-۴- روز چهاردهم



شکل ۱۷-۴- روز سیزدهم



شکل ۱۶-۴- روز دوازدهم



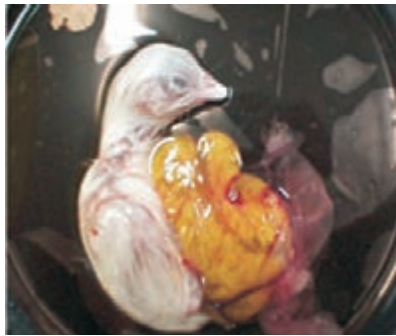
شکل ۲۰-۴- روز شانزدهم



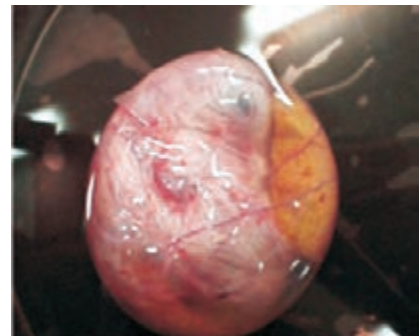
شکل ۱۹-۴- روز پانزدهم



شکل ۲۳-۴-روز نوزدهم



شکل ۲۲-۴-روز هجدهم



شکل ۲۱-۴-روز هفدهم



شکل ۲۴-۴-روز بیست و یکم

فعالیت عملی



تعداد مناسبی تخم مرغ نطفه‌دار را تهیه کنید و در ماشین جوجه کشی قرار دهید. سپس در روزهایی مطابق شکل‌های (۴-۵ تا ۴-۴) آنها را شکسته و جنین‌ها را مشاهده کنید. مشاهدات خود را با تصاویر و متن درس مقایسه کنید.

آزمون پیمانۀ مهارتی ۴

- ۱- دستگاه تولید مثل جنس نر شامل ... و ... می باشد.
- ۲- اندازه کدام بیضه در خروس بزرگتر است؟
- ۳- وظیفه بیضه در تولید مثل چیست؟
- ۴- دستگاه تولید مثل پرنده ماده از چند قسمت تشکیل گردیده است؟ توضیح دهید.
- ۵- در دستگاه تولید مثل طیور تخمدان چپ ... و ... و تخمدان راست ... و ... می باشد.
- ۶- مهم ترین وظیفه تخمدان چه می باشد؟
- ۷- قسمت های مختلف مجرای تخمدان (اویدوکت) را نام ببرید؟
- ۸- چرا دستگاه تولید مثل در پرندگان با پستانداران اختلاف دارد؟
- ۹- تخمک گذاری (اوولاسیون) چیست؟
- ۱۰- وظیفه شیبور یا فائل چه می باشد؟
- ۱۱- در قسمت ماگنوم چه قسمت هایی از تخم تشکیل می شود؟
- ۱۲- پوسته های نازک داخلی و خارجی در کدام قسمت مجرای تخم تشکیل می شود؟
- ۱۳- در رحم چه قسمتی از تخم تشکیل می شود و چند ساعت زمان نیاز دارد؟
- ۱۴- کیسه هوایی در کدام قسمت از مجرای تخم تشکیل می گردد؟
- ۱۵- به طور متوسط فاصله دو تخم گذاری متوالی ... ساعت و فاصله تخم گذاری تا تخم گذاری بعدی ... تا ... دقیقه است.
- ۱۶- مراحل تشکیل تخم و تخم گذاری تحت تأثیر چه عواملی هستند؟
- ۱۷- ساختمان تخم از چه قسمت هایی تشکیل شده است؟ نام ببرید.
- ۱۸- چرا پس از تخم گذاری، رشد جنین متوقف می گردد؟

دستگاه گردش خون

هدف کلی



شناخت دستگاه گردش خون طیور



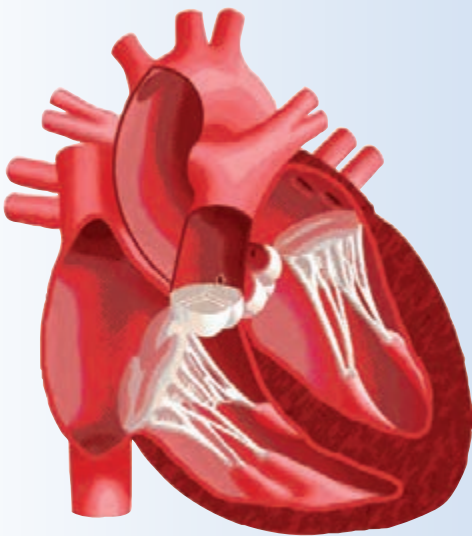
هدفهای رفتاری

در پایان این فصل هنرجو باید بتواند:

- ۱- دستگاه گردش خون مرغ را تشریح کند.
- ۲- قسمت‌های مختلف دستگاه گردش خون مرغ را نشان دهد.
- ۳- ساختمان و نحوه فعالیت قلب را توضیح دهد.
- ۴- فیزیولوژی دستگاه گردش خون را بیان نماید.
- ۵- قسمت‌های مختلف دستگاه گردش خون طیور را نشان دهد.
- ۶- اعمال خون را در بدن نام ببرد.
- ۷- گردش خون عمومی بدن طیور و گردش خون ششی را تعریف کند.
- ۸- گلبول‌های قرمز خون مرغ را مشاهده کند.

پیش‌آزمون

- ۱- چند نوع رگ در بدن طیور وجود دارد؟
- ۲- قلب طیور مشابه قلب کدام دسته از حیوانات است؟ (خزندگان، پستانداران، آبزیان).
- ۳- چند نوع گردش خون در طیور وجود دارد؟





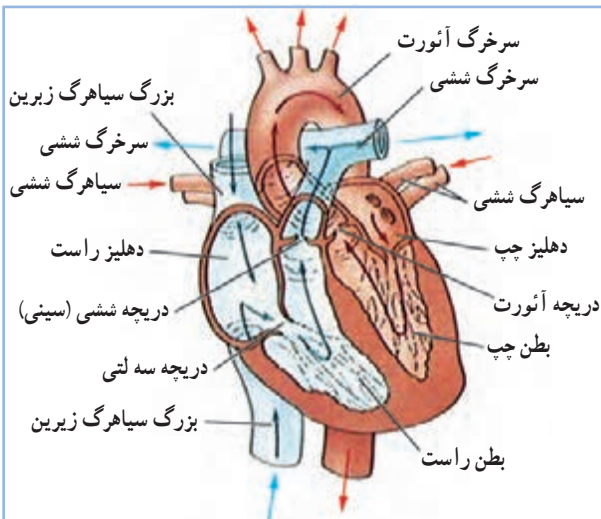
شکل ۱-۵- قلب مرغ و موقعیت آن

دستگاه گردش خون، انتقال مواد غذایی، گازهای تنفسی و مواد زائد در بدن طیور را بر عهده دارد. این دستگاه ارتباط بین بافت‌های مختلف بدن با دستگاه گوارش، دستگاه تنفسی و دستگاه دفع ادرار را برقرار می‌نماید.

۱-۵- آشنایی با دستگاه گردش خون

دستگاه گردش خون از قلب، خون ورگ‌های خونی

تشکیل شده است.



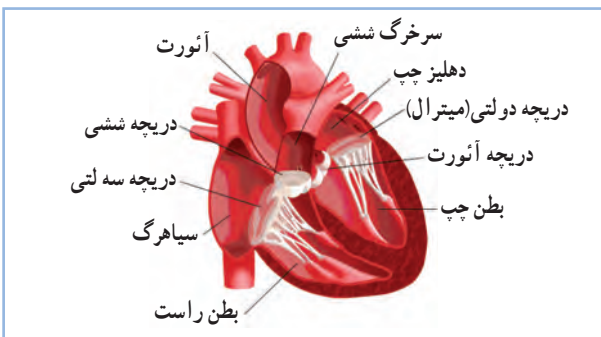
شکل ۲-۵- ساختمان قلب پرندگان

الف - قلب: قلب در پرندگان مخروطی شکل و به رنگ

قرمز تیره و نسبتاً بزرگ است. (شکل‌های ۱-۵ و ۲-۵)

قلب در حفره قفسه سینه و تقریباً در خط میانی بدن به موازات محور طولی قرار دارد. نوک قلب اندکی به سمت راست خمیده است. قاعده قلب که از دهلیزها و تنه رگ‌های بزرگ تشکیل شده است، به سمت پشت متمایل گشته و در سطح دومین دنده قرار دارد.

قلب عضو اصلی دستگاه گردش خون محسوب می‌شود. همانند یک پمپ در دستگاه گردش خون عمل می‌کند و سبب حرکت خون در رگ‌ها می‌شود. قلب به دو قسمت راست و چپ تقسیم می‌شود. هر قسمت نیز دارای یک دهلیز (حفره بالایی) و یک بطن (حفره پایینی) می‌باشد. بدین ترتیب قلب پرندگان نیز شبیه قلب پستانداران چهار حفره‌ای است. بین دهلیز و بطن چپ دریچه دولتی قرار دارد و ارتباط دهلیز و بطن راست بوسیله دریچه سه لثی برقرار می‌شود. هیچ‌گونه ارتباطی بین دهلیزها و نیز بین بطن‌ها وجود ندارد. (شکل ۳-۵)

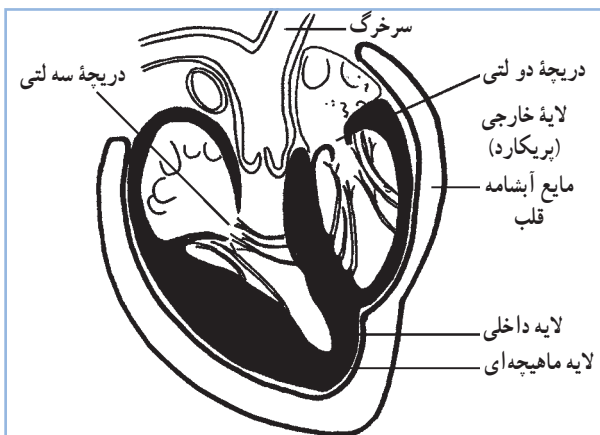


شکل ۳-۵- دریچه‌های قلب پرندگان

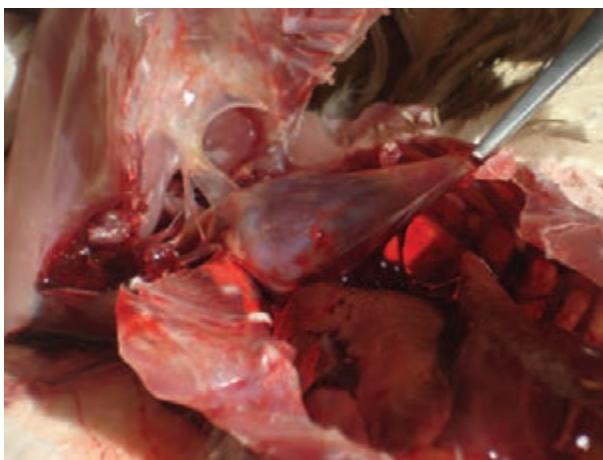
بطن چپ نوک قلب را تشکیل داده، از بطن راست بزرگتر بوده و دیواره کلفتتری دارد. دهلیز چپ کم حجمتر از دهلیز راست است و دارای دیواره ضخیمتری است.

جدول ۱-۵ - وزن قلب (درصد از وزن بدن)

کبوتر	بلدرچین	غاز	اردک	بوقلمون	مرغ	وزن قلب
۱-۱/۱	۰/۹	۰/۸	۰/۷۴ - ۰/۸۱	۰/۵	۰/۴۴	



شکل ۴-۵ - ساختمان لایه‌های قلب



شکل ۵-۵ - آبشامه قلب

تأمین انرژی لازم برای سوخت و ساز بدن که حرارتی بین ۴۰ تا ۴۲ درجه سانتی‌گراد دارد و نیز ضربان بسیار تند آن، از دلایل بزرگی قلب می‌باشد.

ضربان قلب در ماکیان ۳۰۰ و در گنجشک ۵۰۰ تا ۸۰۰ ضربه در دقیقه است.

مجاورت با نور شدید، استرس و هیجان زدگی سبب افزایش ضربان قلب می‌شود. پرندگان کوچکتر ضربان قلب سریعتری دارند.

قلب از سه لایه تشکیل می‌شود:

۱- لایه خارجی: این پرده دور قلب چسبیده و لایه

ماهیچه‌ای را در بر گرفته است.

۲- لایه ماهیچه‌ای: ماهیچه‌های قلب می‌باشند.

ماهیچه‌ها در قسمت بطن‌ها ضخیم‌تر از قسمت دهلیزها می‌باشند.

۳- لایه داخلی: لایه نازکی است که سطح داخلی لایه

ماهیچه‌ای را مفروش می‌سازد. دریچه‌های قلبی از این لایه

سرچشمه می‌گیرند. (شکل ۴-۵)

آبشامه قلب: پرده‌ای است که دور قلب قرار گرفته و دو

لایه دارد. لایه داخلی آن روی لایه خارجی قلب چسبیده است.

بین دو لایه آبشامه مایع آبشامه وجود دارد که حرکات قلب را

تسهیل می‌کند. (شکل ۵-۵)

ب- رگ‌های خونی:

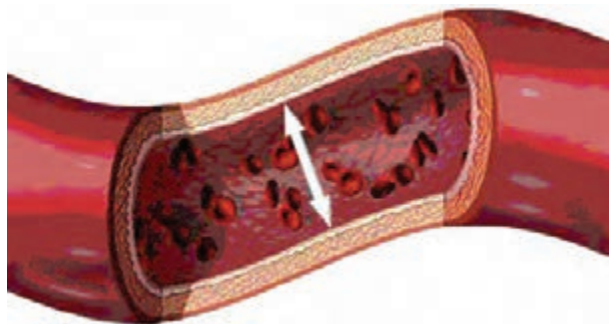
خون برای انجام کلیه وظایف خود از طریق سیستم بسته‌ای به نام رگ‌های خونی در گردش می‌باشد. سرخرگ‌ها، سیاهرگ‌ها و مویرگ‌ها سه نوع از رگ‌های خونی دستگاه گردش خون طیور محسوب می‌شوند. بطور کلی رگ‌هایی که خون را از قلب خارج می‌کنند، سرخرگ و رگ‌هایی که خون را به قلب باز می‌گردانند، سیاهرگ نامیده می‌شوند. (شکل ۵-۶)

سرخرگ‌ها دارای مقطع گرد و به شکل استوانه‌ای می‌باشند و همواره شکل خود را حفظ می‌کنند.

دیواره سرخرگ از سه لایه درونی، میانی و بیرونی تشکیل شده است.

سرخرگ‌ها به دو دسته تقسیم می‌شوند. سرخرگ‌های گردش خون عمومی، حاوی خون روشن و سرخرگ‌های گردش خون ششی که حاوی خون تیره می‌باشند. سرخرگ‌ها معمولاً به صورت انشعابات دو شاخه‌ای در می‌آیند و شاخه‌های منشعب شده باریک می‌شوند. آخرین انشعابات بسیار نازک و کوچک بوده و قبل از مویرگ‌ها قرار دارند.

سیاهرگ‌ها موقعی که پر از خون باشند استوانه‌ای شکل هستند و هرگاه کشیده شوند به شکل گره‌دار در می‌آیند. این

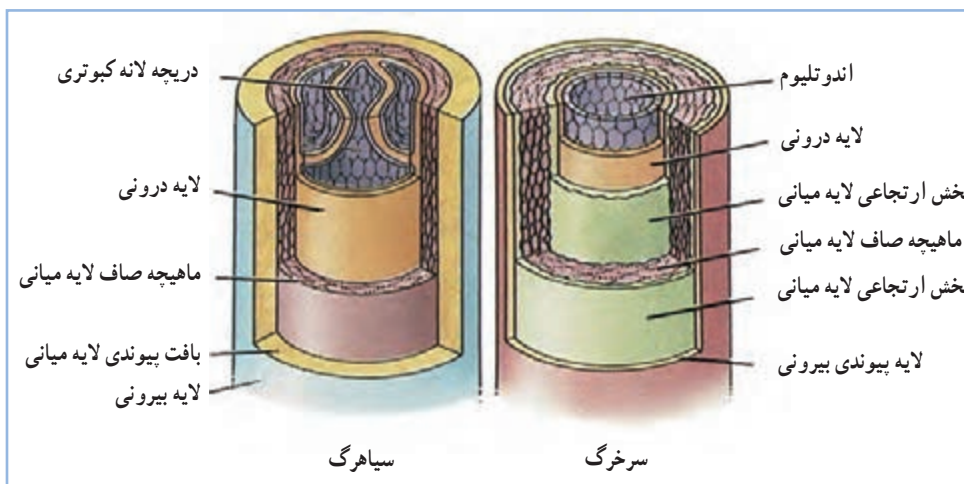


شکل ۵-۶- رگ و گلبول‌های قرمز

گره‌ها به واسطه وجود دریچه‌هایی در داخل آنها می‌باشد. دیواره سیاهرگ‌ها معمولاً نازک و تا اندازه‌ای شفاف و انبساط‌پذیر است. (شکل ۵-۷)

مجرای سیاهرگ‌ها بطور کلی پهن‌تر از سرخرگ‌ها است ولی دیواره آنها نازک‌تر و رنگ آنها کدرتر می‌باشد. دیواره سیاهرگ‌ها نیز از سه لایه درونی، میانی و بیرونی تشکیل شده است. لایه میانی سیاهرگ‌ها که از بافت پیوندی بیشتری ساخته شده و نازک‌تر از لایه میانی سرخرگ‌ها است. از آنجایی که خون سیاهرگی فشار کمتری دارد و برای جلوگیری از پس رفت خون، دریچه‌هایی در این رگ‌ها وجود دارد. (شکل ۵-۷)

سیاهرگ‌ها نیز مانند سرخرگ‌ها دو دسته هستند.



شکل ۵-۷- مقطع سرخرگ و سیاهرگ

می‌دهد. اجزای مختلف پلاسما گازهای O_2 و CO_2 ، پروتئین، نمک‌های غیر آلی و ویتامین‌ها می‌باشند. پلاسما وسیله‌ای برای انتقال سلول‌های خون و مواد شیمیایی می‌باشد. وظیفه مهم پلاسما ایجاد فشار اسمزی در خون است. پرندگان به کمک فشار اسمزی، انتقال آب از مویرگ‌ها به سلول‌های بدن را تنظیم می‌کنند.

گلبول قرمز^۱:

گلبول قرمز برای حمل اکسیژن تخصص یافته است و در پرندگان بیضی شکل و دارای هسته می‌باشد.

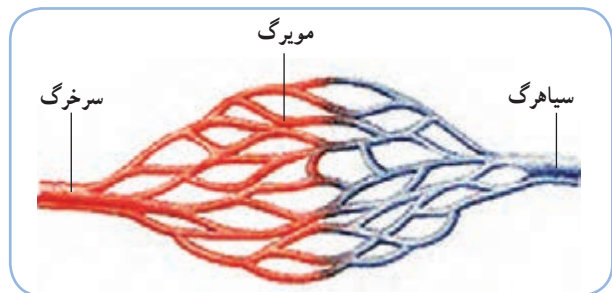
هموگلوبین جزء اصلی ساختمان گلبول قرمز است و از پروتئینی به نام گلوبین و ماده معدنی آهن تشکیل می‌شود. هموگلوبین، گلبول‌های قرمز را برای حمل اکسیژن توانا می‌سازد. مهمترین وظیفه گلبول قرمز انتقال اکسیژن است. این عمل نتیجه میل ترکیبی ضعیف آهن موجود در هموگلوبین با اکسیژن می‌باشد. هموگلوبین در گلبول قرمز قرار دارد و میوگلوبین در عضلات جهت ذخیره اکسیژن قرار گرفته است.

نخستین سلول‌های خونی بوسیله دیواره کیسه زرده بوجود می‌آیند. در دوران جنینی کبد و طحال گلبول‌های قرمز را تولید می‌کنند. در پرندگان بالغ این سلول‌ها در مغز استخوان تولید می‌شوند. طحال مخزن گلبول قرمز می‌باشد و محتویات خود را در دستگاه گردش خون تخلیه می‌کند. طول عمر گلبول قرمز از هنگام ورود به خون تا زمان مرگ آن در حدود 210° روز می‌باشد. ولی در طیور به دلیل متابولیسم و فعالیت بیشتر حدود 35 تا 45 روز است.

تعداد گلبول قرمز بر حسب گونه، جنس، سن و ارتفاع محل زندگی متفاوت است. حدود سه میلیون گلبول قرمز در هر میلی‌لیتر مکعب از خون طیور وجود دارد. (تصویر ۹-۵)

سیاهرگ‌های گردش عمومی بدن حاوی خون تیره (دارای CO_2 بیشتر) و سیاهرگ‌های ششی که حاوی خون تمیز (دارای O_2 بیشتر) می‌باشند. سیاهرگ‌ها به وسیله شاخه‌های کوچک و بسیار باریکی در دنباله مویرگ‌ها قرار می‌گیرند. سیاهرگ‌های کوچک به یکدیگر ملحق شده و رگ‌های بزرگ‌تری را تشکیل می‌دهند تا این‌که بوسیله رگ‌های اصلی به دهلزها منتهی شوند.

سرخ‌رگ‌ها و سیاهرگ‌ها به وسیله شبکه‌ای از رگ‌های مویی که مویرگ نامیده می‌شوند به یکدیگر متصل می‌گردند. (تصویر ۸-۵)



شکل ۸-۵- شبکه مویی (مویرگی)

این رگ‌ها ظریف‌ترین دیواره را دارند. مواد غذایی و گازها با عبور از این دیواره بین سلول‌ها و خون جابجا می‌شوند.

ج- خون:

خون دربرگیرنده مایع پلاسما، سلول‌های خونی (گلبول قرمز، گلبول سفید و ترومبوسیت‌ها^۲)، قند، پروتئین، چربی، املاح و هورمون‌ها می‌باشد. رنگ خون سرخ‌رگی که اکسیژن بیشتری دارد سرخ درخشان و برعکس خون سیاهرگی که اکسیژن کمتری دارد قرمز تیره است. pH خون کمی قلیایی است (۷/۴).

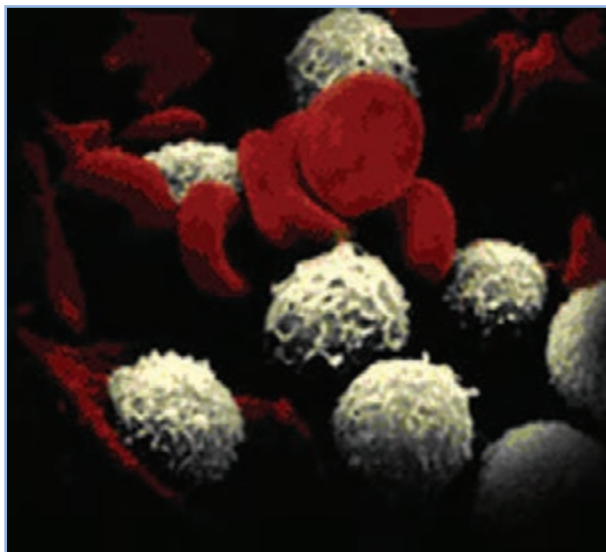
پلاسما:

قسمت بدون سلول خون لخته نشده یا مایع خون را پلاسما نامند. پلاسما ۵۵ تا 70° درصد حجم خون را تشکیل

۱- Thrombocytes=Plakets

۲- Erythrocytes

گلبول‌های سفید در مغز استخوان و غدد لنفاوی ساخته می‌شوند. اهمیت گلبول‌های سفید در مقابله با عوامل خارجی و عفونت‌ها است. (شکل ۱۰-۵)



شکل ۱۰-۵ - سلول‌های سفید خون

ترومبوسیت‌ها (پلاکت‌ها):

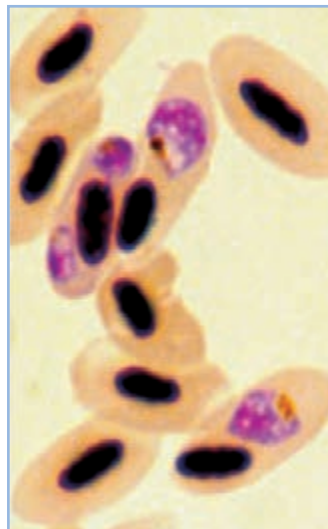
شکل آنها از بیضی تا گرد متغیر است. در مغز استخوان و طحال تولید می‌شوند و نقش اساسی آنها در جلوگیری از خونریزی است.

فشار خون:

همانند انسان در پرندگان نیز دو فشار خون سرخرگی و فشار خون برگشتی به قلب اندازه‌گیری می‌شود. فشار خون پرندگان با واحد میلی‌متر جیوه بیان می‌شود. (جدول ۲-۵)

اعصاب قلب:

اعصاب قلب شامل عصب سمپاتیک و عصب واگ می‌باشد. عصب سمپاتیک افزایش دهنده ضربان قلب و عصب واگ سبب کاهش ضربان آن می‌شود.



شکل ۹-۵ - گلبول‌های قرمز هسته‌دار پرندگان

فعالیت عملی

یک قطره از خون مرغ را روی لام ریخته و لایه نازکی از آن را تهیه نمایید اکنون گلبول‌های قرمز را زیر میکروسکوپ مشاهده نمایید.

گلبول سفید^۱:

تعداد گلبول‌های سفید بسیار کمتر از گلبول‌های قرمز است. این سلول‌ها هسته‌دار بوده و به اشکال مختلف دیده می‌شوند. وظیفه اصلی این سلول‌ها در ارتباط با سیستم‌های دفاعی بدن می‌باشد.

بسیاری از آنها ریزه‌خوار هستند بدین معنی که می‌توانند مواد ریز، مانند باکتری‌ها و قطعات سلول‌های تخریب شده را در خود فرو برند. برخی دیگر قادرند در اطراف محل عفونت تجمع کرده و مستقیماً به میکروب‌ها حمله کنند.

۱- Leukocytes

جدول ۲-۵ - فشار خون برخی از پرندگان اهلی (میلی متر جیوه)

فشار خون سرخرگی	فشار خون برگشت	
۱۶۰ - ۱۴۰	۱۳۴ - ۱۳۰	مرغ
۱۹۵ - ۱۸۰	۱۵۰ - ۱۴۵	خروس
۲۶۰ - ۲۵۰	۲۰۰	بوقلمون ماده
۳۰۰ - ۲۹۰	۲۳۰ - ۲۲۰	بوقلمون نر
۱۷۰	۱۸۰	اردک ماده
۱۸۰	۱۴۵	اردک نر

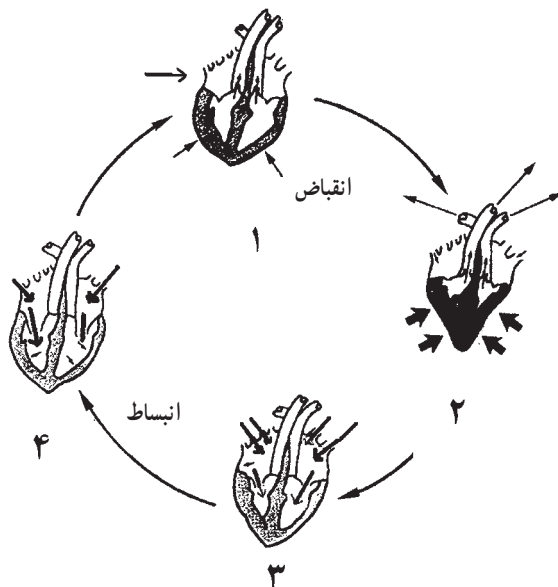
لنف:

لنف یک سیستم فرعی برای جذب مواد ومایعات بین سلولی به داخل جریان خون می باشد. همچنین لنف یکی از راه های اصلی جذب مواد (بوئژه چربی ها) در دستگاه گوارش محسوب می شود. مهم ترین عمل رگ های لنفاوی خارج کردن ذرات بزرگ مواد تخریب شده بافت ها از فضای بین سلولی می باشد. ترکیب لنف شبیه پلاسما است با این تفاوت که مقدار پروتئین در آن کمتر است. سیستم لنف در اکثریت طیور از مجاری لنفاوی وغدد لنفاوی تشکیل شده است و تمامی لنف موجود در نهایت به سیستم سیاهرگی می ریزد. مجاری لنفاوی ابتدا به غدد لنفاوی می رسند که مانند صافی عمل کرده و مانع ورود مواد خارجی به جریان خون می شوند. در این غدد سلول های بیگانه خوار وجود دارد که قادر به هضم ذرات خارجی می باشند. علاوه بر این غدد لنفاوی قادر به ساختن مواد ایمنی نیز می باشند.

می دهد چرخه قلب نامیده می شود. عمل قلب دو مرحله دارد.

۱- انقباض قلب:

در این مرحله انقباض دهلیزها وبطن ها اتفاق می افتد وخون از قلب خارج شده وبه درون سرخرگ ها رانده می شوند. (مرحله ۱ و ۲ شکل ۱۱-۵)



شکل ۱۱-۵ - انقباض و انبساط قلب

۲-۵ - آشنایی با فیزیولوژی دستگاه گردش خون چرخه قلب

مجموعه اعمالی که بدنبال هم دریک جریان کامل قلب رخ

۲- انبساط قلب^۱:

این مرحله، مرحله استراحت عضلات قلب می‌باشد. همان‌طور که در مرحله سوم (شکل ۱۱-۵) مشاهده می‌کنید، ابتدا دهلیزها از خون پر شده و منبسط می‌شوند و سپس در مرحله چهارم بطن‌ها از خون پر می‌شوند که در مجموع انبساط را تشکیل می‌دهند.

جهت حرکت خون در دستگاه گردش خون:

در هر چرخه قلبی خون اکسیژن‌دار از دهلیز چپ به بطن چپ وارد می‌شود. با انقباض بطن چپ، خون از قلب به سرخرگ آئورت می‌رود. سپس با فشار به سرخرگ‌های کوچک و مویرگ‌ها رانده شده و به تمام اعضای بدن منتقل می‌شود. پس از استفاده سلول‌ها از اکسیژن و مواد شیمیایی و دفع CO_2 ، خون بدون اکسیژن و CO_2 دار از طریق سیاهرگ‌ها به قلب باز می‌گردد. در این هنگام خون به دهلیز راست می‌ریزد. این بخش از گردش خون را **گردش خون عمومی** یا **گردش خون بزرگ** می‌نامند.

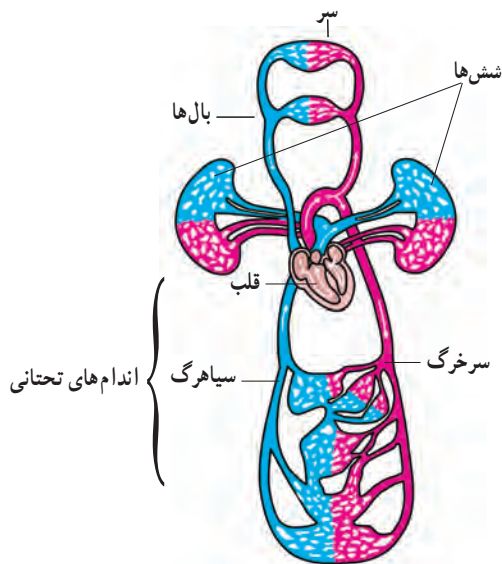
سپس خون از دهلیز راست به بطن راست وارد می‌شود و از آنجا به وسیله سرخرگ ششی به طرف ریه‌ها رانده می‌شود. در ریه‌ها پس از تبادلات گازی (دفع CO_2 و گرفتن O_2)، خون به وسیله سیاهرگ ششی به دهلیز چپ وارد می‌شود. این بخش از گردش خون را **گردش خون ششی** یا **گردش خون کوچک** می‌نامند. در (شکل ۱۱-۵) گردش خون بزرگ و کوچک را مشاهده کنید.

در گردش عمومی، خون اکسیژن را به سلول‌ها رسانده و دی‌اکسید کربن را دریافت می‌کند و در گردش ششی، خون، دی‌اکسید کربن را به ریه پس داده و اکسیژن دریافت می‌کند.

فیزیولوژی خون (اعمال خون):

خون اعمال متعددی را در بدن طیور بر عهده دارد:

۱- اکسیژن را به سلول‌های بدن رسانده و دی‌اکسید کربن



شکل ۱۲-۵- گردش خون قلب

را از آنها می‌گیرد.

۲- مواد غذایی را از دستگاه گوارش گرفته و به سلول‌های بدن منتقل می‌کند.

۳- مواد زائد حاصل از فعالیت سلول‌ها را دریافت می‌کند و به اندام‌های دفعی مانند کلیه‌ها انتقال می‌دهد.

۴- تولیدات هورمونی را به بخش‌های مختلف بدن طیور منتقل می‌کند.

۵- به تنظیم آب بافت‌های بدن کمک می‌کند.

۶- در تنظیم درجه حرارت بدن نقش مهمی دارد.

۷- در مقابل عوامل بیماری‌زا توسط سلول‌های سفید از بدن دفاع می‌کند.

تبادلات گازهای تنفسی:

مویرگ‌ها آخرین اشعاعات رگ‌های خونی می‌باشند. تقسیمات انتهایی مویرگ‌ها به صورت اشعاعات موازی می‌باشند که با این عمل کمترین مقاومت عروقی را ایجاد می‌کنند. دیواره مویرگ‌ها تنها از یک ردیف سلول پهن و نازک تشکیل گردیده است. اغلب مویرگ‌ها فاقد پوشش خارجی می‌باشند و یا این پوشش به صورت

^۱- Diastole

۳-۵- مقایسه دستگاه گردش خون پرندگان و پستانداران

قلب پستانداران و پرندگان ساختمانی مشابه دارد. ولی مرغها به خاطر ظرفیت کم انتقال اکسیژن در خون، نیازهای بافت‌های خود را با بالا بردن عملکرد سیستم قلبی عروقی مثل جریان خون زیاد، افزایش فشار خون سرخرگی و افزایش سرعت قلب حفظ می‌کنند. بنابراین توده بطن چپ قلب در مقایسه با پستانداران بزرگ بوده و دهلیز راست که به عنوان یک منبع ذخیره‌ای اصلی بکار می‌رود، نیز بزرگ‌تر از دهلیز چپ است. (شکل ۱۴-۵)



ماهیان

دوزیستان

پرندگان و پستانداران

شکل ۱۴-۵- مقایسه گردش خون پرندگان و پستانداران با دوزیستان و ماهیان

مویرگ‌های خونی در طیور به مراتب کوچک‌تر از مویرگ‌های پستانداران است ولی دارای حجم بیشتری از خون و نیز دارای افزایش سطح و کارایی بالاتری در تبادل گاز می‌باشند. گلبول قرمز طیور بیضی شکل بوده و دارای هسته است. در خون طیور تعداد گلبول‌های قرمز نسبتاً کم (در حدود نصف تراکم آن در پستانداران) است ولی اندازه آنها بزرگ‌تر است. گلبول قرمز پستانداران فاقد هسته و به شکل دیسکی است که در وسط از دو طرف فرورفتگی دارد.

در پرندگان همانند پستانداران گردش خون عمومی بدن با آئورت آغاز می‌شود و گردش خون ششی (کوچک) نیز با سرخرگ ششی شروع می‌گردد.

بسیار ظریف و نازکی درآمده است. سلول‌های دیواره مویرگی در بین خود دارای فواصل نسبتاً ریز و درشتی به منظور تبادلات مایعات و مواد غذایی می‌باشند. هدف و وظیفه اصلی مویرگ‌ها، انتشار مواد غذایی و اکسیژن از دیواره آنها به داخل بافت‌ها و خروج مواد زاید و دی اکسید کربن از بافت‌ها به مویرگ‌ها می‌باشد.

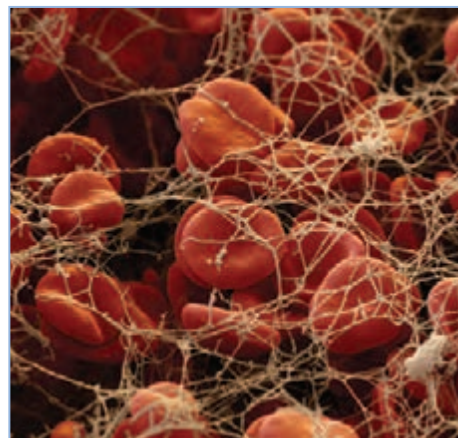
گردش خون ششی:

گردش خون در شش‌ها به دلیل نقش آنها در تبادلات گازهای تنفسی از اهمیت خاصی برخوردار است. گازهای تنفسی بین مویرگ‌ها و سلول‌های شش‌ها (با توجه به مقدار فشار آنها در دو طرف دیواره رگ‌ها) جابجا می‌شوند.

در این حالت عملیات انجام شده کاملاً برعکس تبادل گازها در سلول‌های بدن است و بدین ترتیب دی اکسید کربن به شش‌ها و اکسیژن به جریان خون منتقل می‌شود خون اکسیژن‌دار بوسیله سیاهرگ ششی به قلب می‌رود.

لخته شدن خون:

جلوگیری از خونریزی با لخته شدن خون و انقباض رگ صورت می‌پذیرد. برای لخته شدن ترومبوسیت‌ها به هم می‌چسبند و از طرفی یکی از پروتئین‌های خون به نام فیبرینوژن به رشته‌های فیبرین تبدیل می‌شود و موجب ایجاد یک شبکه توری و ایجاد لخته می‌گردد. (شکل ۱۳-۵)



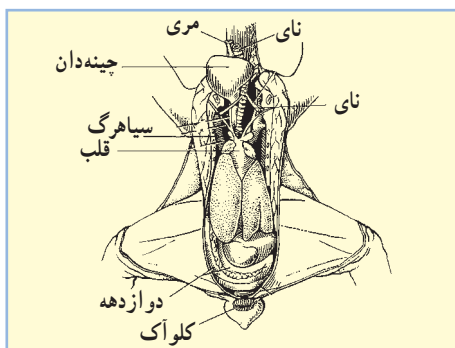
شکل ۱۳-۵- لخته شدن خون

سیستم لنفاوی طیور از نظر تکاملی بین سیستم‌های لنفاوی دوزیستان و پستانداران قرار می‌گیرد. مرغ‌ها فاقد غدد لنفاوی مشخص مانند غدد لنفاوی پستانداران هستند. اما بافت‌های لنفاوی اختصاصی در ارتباط با لوله گوارشی وجود دارند. تنها اردک و غاز از پرندگان اهلی غدد لنفاوی دارند.

فعالیت عملی

وسایل و تجهیزات لازم:

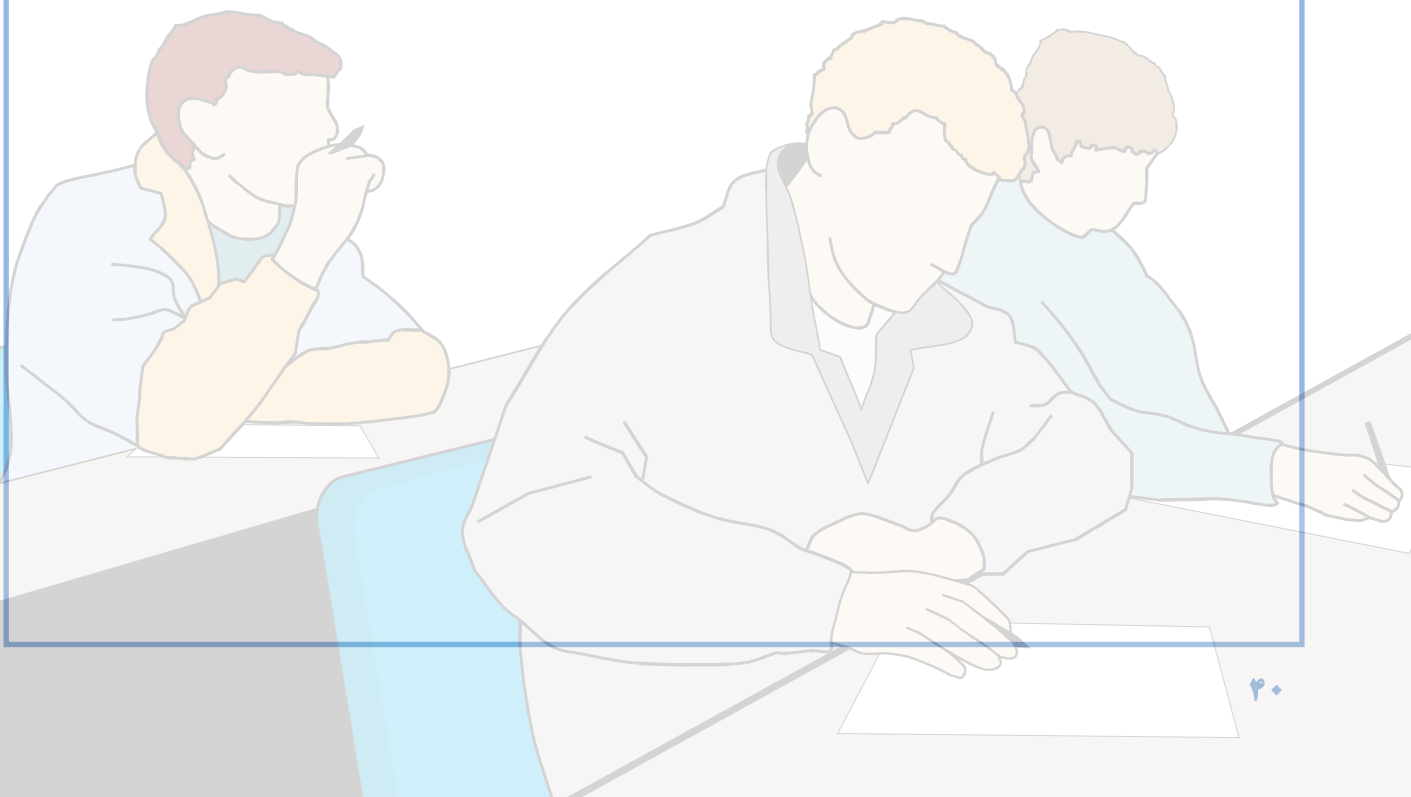
- ۱- میز تشریح - قیچی جراحی دو لبه (تیز، کند) - پنس شستی - دستکش - روپوش.
- ۲- با نظر مربیان، در کلاس گروه‌بندی نمایید.
- ۳- دستکش‌ها را دست کنید و روپوش بپوشید.
- ۴- مرغ را به پشت بر روی میز بخوابانید به نحوی که پاها به سمت خودتان باشد.
- ۵- انگشت شصت را روی ران و سایر انگشتان را در پشت ران قرار دهید. با فشار انگشت شصت ران‌ها را از بدن جدا کرده و پرنده را کاملاً به میز بچسبانید. در این حالت لاشه مرغ کاملاً بر روی میز خوابیده باشد.
- ۶- با استفاده از قیچی دو لبه پوست ناحیه سینه را جدا کنید. در این هنگام عضلات سینه باید دیده شود.
- ۷- با استفاده از قیچی، دو برش کاملاً موازی دنده‌ها، به سمت عقب و در کنار قفسه سینه ایجاد کنید. با دست قفسه سینه را به سمت بالا بکشید. اکنون محوطه بطنی در اختیار شماست. (شکل ۱۵-۵)
- ۸- محتویات محوطه بطنی را تخلیه کنید. برای جدا کردن قسمت صدري (قلب و ریه) باید آنها را از دنده‌ها کاملاً جدا کنید.
- ۹- برای جدا کردن قلب با قیچی دو لبه، از ۳ سانتی‌متر بالاتر از قلب رگ‌های اصلی را برش دهید.
- ۱۰- قلب را همراه با سرخرگ‌ها و سیاهرگ‌های متصل به آن از لاشه خارج نمایید.
- ۱۱- برای تهیه نمونه از سرخرگ‌ها و سیاهرگ‌ها آنها را از ناحیه متصل به قلب، از قلب جدا کنید.
- ۱۲- سرخرگ و سیاهرگ را با یکدیگر مقایسه نمایید.
- ۱۳- قلب را برش داده و دهلیزها، بطن‌ها و دریچه‌های دولتی و سه لتی را مشاهده نمایید.



شکل ۱۵-۵ - محوطه بطنی مرغ

آزمون پیمانه مهارتی ۵

- ۱- اهمیت دستگاه گردش خون را بیان نمایید.
- ۲- اعمال خون را شرح دهید.
- ۳- کار اصلی آبشامه قلب چیست؟
- ۴- رگ‌های خونی از چند لایه تشکیل شده است؟
- ۵- وظیفه مهم پلازما چیست؟
- ۶- نقش اصلی ترومبوسیت‌ها چیست؟
- ۷- دستگاه گردش خون از ... و ... و ... تشکیل شده است.
- ۸- چرا قلب در پرندگان نسبتاً بزرگ است؟
- ۹- وظیفه اصلی گلبول سفید ... می‌باشد.



دستگاه تنفس

هدف کلی

شناخت دستگاه تنفس طیور



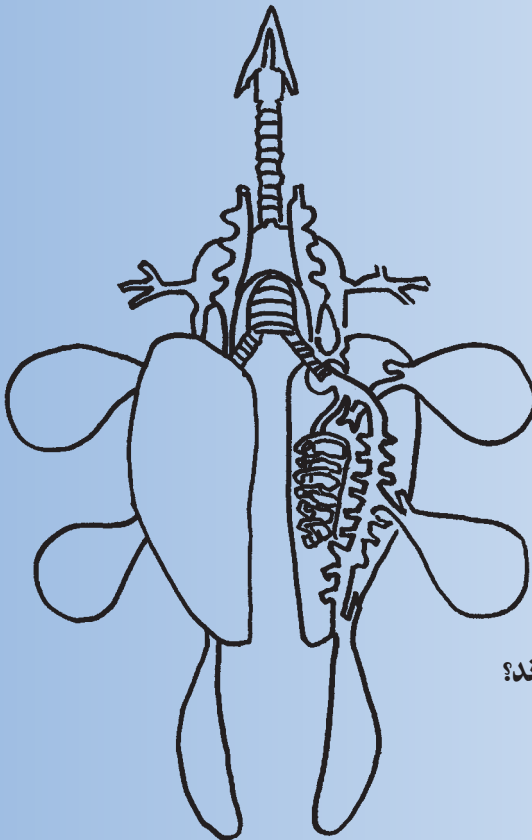
هدف‌های رفتاری

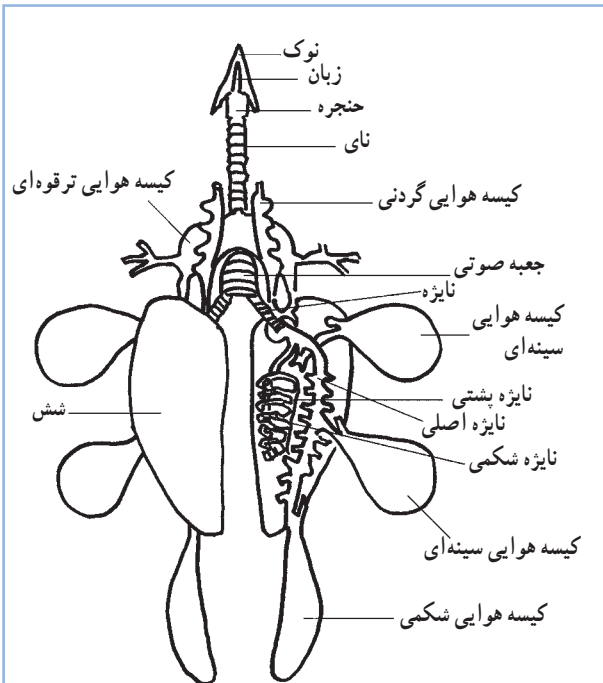
در پایان این فصل هنرجو باید بتواند:

- ۱- ساختمان دستگاه تنفس طیور را بشناسد.
- ۲- فیزیولوژی دستگاه تنفسی طیور را توضیح دهد.
- ۳- قسمت‌های مختلف دستگاه تنفس طیور را نشان دهید.

پیش‌آزمون

- ۱- کیسه‌های هوایی در مرغ چند عدد است؟
- ۲- پرندگان گرمای بدن خود را اغلب به چه صورت خارج می‌سازند؟
- ۳- بینی طیور در کدام قسمت نوک قرار دارد؟





شکل ۱-۶- دستگاه تنفس طیور



شکل ۲-۶- حفره‌های بینی

تنفس واقعی شامل انتقال اکسیژن مورد نیاز به سلول‌های بدن و بازگرداندن دی‌اکسید کربن حاصل از فعالیت سلول‌ها به خارج از بدن می‌باشد. انرژی مورد نیاز در طیور از ترکیب اکسیژن و مواد غذایی بدست می‌آید. در سلول‌های بدن، مواد غذایی مانند قندهای ساده، اکسید شده و انرژی و دی‌اکسید کربن آزاد می‌کنند. دی‌اکسید کربن تولید شده توسط دستگاه تنفس دفع می‌شود.

در تک‌سلولی‌ها تنفس به سادگی انجام می‌شود زیرا سلول در مجاورت هوا قرار دارد. اما از آنجایی که در طیور سلول‌ها دسترسی مستقیم به هوا ندارند، آنها نمی‌توانند به مکانیسم ساده انتشار برای تبادل گازهای تنفسی بین بافت‌های بدن و محیط، متکی باشند. بدین لحاظ در بدن طیور از مکانیسم پیچیده‌تری استفاده می‌شود که در بخش فیزیولوژی دستگاه تنفس با آن آشنا خواهید شد.

۱-۶- آشنایی با ساختمان دستگاه تنفس

قسمت‌ها مختلف دستگاه تنفس طیور عبارت‌اند از: بینی، حفره‌های بینی، حنجره، نای، جعبه صوتی، نایژه‌ها، شش‌ها، کیسه‌های هوایی و استخوان‌های خاصی که محتوی هوا هستند. (شکل ۱-۶)

الف- بینی^۱: بر روی نوک بالایی و بصورت دو سوراخ که دارای لبه می‌باشد وجود دارد.

ب- حفره‌های بینی^۲: از لایه‌های ماریچی تشکیل شده که هوا را تا حدودی تصفیه و مهم‌تر از آن گرم می‌کند. (شکل ۲-۶)

در انتهای نای جعبه صوتی قرار دارد. (تصویر ۶-۴) جعبه صوتی محفظه‌ای غضروفی است که نقش عمده‌ای در تولید صدا در طیور را برعهده دارد.

پس از جعبه صوتی نای به دو نایژه اشعاب می‌یابد. نایژه‌ها پس از ورود به شش‌ها به اشعابات کوچک‌تری به نام نایژک تقسیم می‌شوند (شکل ۶-۴) پرندگان پرده دیافراگم ندارند.

ه- شش‌ها:

طیور دو شش نسبتاً کوچک به رنگ قرمز روشن دارند که در شکل و اندازه همانند بوده و شش چپ و راست نامیده می‌شوند.

شش‌ها بافت اسفنجی و نرمی دارند. گستره هر شش در جهت جلو - عقب بین نخستین یا دومین دنده تا آخرین دنده است. شش‌ها در حفره ششی که فضایی کاملاً قرینه دارد و حجم آن با دم یا بازدم اندکی تغییر می‌کند، قرار دارند. نایژه‌های اصلی همراه با رگ‌های خونی به هر یک از شش‌ها وارد می‌شوند. از هر یک از نایژه‌های اصلی چهار نایژه ثانوی منشعب می‌گردد. این نایژه‌ها به قسمت‌های مختلف شش‌ها و بخش‌هایی از کیسه‌های هوایی می‌روند. (شکل ۶-۵)

ج - حنجره^۱: حنجره مجموعه‌ای غضروفی است که بویژه در هنگام بلع از ورود مواد خارجی به نای جلوگیری می‌کند. حنجره، قلبی شکل بوده و در انتهای حلق قرار دارد، هوا پس از ورود از بینی به حنجره و سپس به نای می‌رود. (شکل ۶-۳)



شکل ۶-۳- نای، حنجره و موقعیت آن

د- نای: نای در ادامه حنجره است و در سطح پشتی مری ادامه می‌یابد. نای در ماکیان از سطح پشتی چینه‌دان نیز می‌گذرد و وارد حفره سینه‌ای شده و به دو نایژه اصلی تقسیم می‌شود. (شکل ۶-۴)



شکل ۶-۵- شش مرغ



شکل ۶-۴- جعبه صوتی^۱ و نایژه‌ها

۱- Larynx

۲- Syrinx

۳- Secondary bronchus

۴- Air Sacs

۲-۶- فیزیولوژی دستگاه تنفس

دستگاه تنفس طیور به عنوان یک سیستم تبادل گازهای تنفسی (اکسیژن و دی اکسید کربن) در بدن عمل می‌نماید. تبادل گاز در مویرگ‌های ششی انجام می‌شود.

بدین ترتیب اکسیژن وارد خون شده و با حرکت از میان دیواره مویرگ‌ها به سلول‌های بدن می‌رسد. گاز دی اکسید کربن مسیر معکوس اکسیژن را طی می‌نماید.

مهم‌ترین وظایف دستگاه تنفس طیور عبارتند از:

- ۱- اکسیژن مورد نیاز بدن را تأمین می‌کند.
- ۲- دی اکسید کربن اضافه بدن را دفع می‌کند.
- ۳- حرارت اضافه بدن را خارج می‌کند.
- ۴- به ایجاد صوت کمک می‌کند.

دم و بازدم:

دم به وسیله انبساط ماهیچه‌های شکمی و سینه‌ای انجام می‌شود.

این ماهیچه‌ها حفره کلی بدن را منبسط کرده و بدین وسیله هوا را به داخل می‌کشند. در بازدم عادی ماهیچه‌ها دخالته ندارند و حفره بدنی در اثر خاصیت ارتجاعی و رها شدن به وضعیت اولیه باز می‌گردد.

تبادل گازها:

در انتهای مجاری هوایی درون شش‌ها، فاصله بین خون مویرگی و هوا به حداقل می‌رسد (چند میکرون). این ناحیه غنی‌ترین بستر مویرگی را در بین بافت‌های بدن دارا می‌باشد.

انتقال گازهای اکسیژن و دی اکسید کربن از مویرگ‌های ششی و همین‌طور از مویرگ به سلول‌های بدن عمدتاً بر اثر قانون انتشار صورت می‌گیرد.

بدین نحو که این گازها از محیط پرفشار یا پرتراکم به محیط کم تراکم انتقال می‌یابند. به طور کلی انتشار دی اکسید کربن به خارج از خون اندکی راحت‌تر از ورود اکسیژن به آن صورت می‌گیرد.

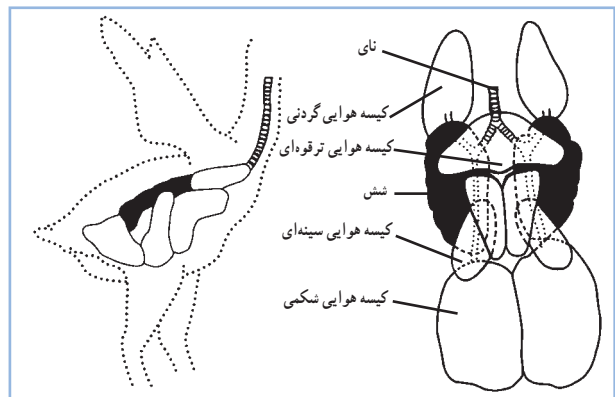
ساختمان شش در طیور بدلیل وجود کیسه‌های هوایی به آنها امکان می‌دهد با وجود فضای اندک شش‌ها، تبدلات گازی زیادی داشته باشند. شش‌ها مسئول تبادل گازهای تنفسی و کیسه‌های هوایی مسئول تهویه ششی دم و بازدم می‌باشند.

و- کیسه هوایی:

کیسه‌های هوایی یکی از ویژگی‌های دستگاه تنفس طیور می‌باشد. کیسه‌های هوایی به شش‌ها متصل‌اند و در خلال تکامل از آنها بوجود می‌آیند. کیسه‌های هوایی شبکه خون‌رسانی ضعیفی دارند که شاهدهی بر عدم دخالت آنها در تبدلات گازی است. بطور کلی کیسه‌های هوایی در کاهش وزن مخصوص طیور دخالت دارد. نخستین وظیفه این کیسه‌ها جبران ظرفیت اندک شش‌ها با کمک از طریق دمیدن هوا برای شش‌ها است. علاوه بر این در تنظیم درجه حرارت بدن و در تولید صدا نیز نقش دارند.

مرغ دارای ۹ کیسه هوایی است، یک جفت در ناحیه شکمی، دو جفت در ناحیه سینه و یک جفت در پایین‌تر از گردن قرار گرفته‌اند. یک کیسه هوایی منفرد در قسمت میانی بدن در نزدیکی ترقوه قرار دارد.

بزرگ‌ترین کیسه هوایی در مرغ کیسه هوایی شکمی و در اردک کیسه هوایی سینه‌ای عقبی می‌باشد. (شکل‌های ۱-۶ و ۶-۶)



شکل ۶-۶- دستگاه تنفسی مرغ (نای، نایزه، شش و کیسه‌های هوایی)

تنظیم عصبی تنفس:

در حالت عادی فعالیت تنفسی به طور تقریباً غیر ارادی کنترل می‌شود.

مرکز تنفس در بصل النخاع قرار دارد. این مرکز تناوب فعالیت تنفسی شامل مرحله فعال دم و مرحله غیر فعال بازدم را هدایت می‌کند و سرعت و عمق تنفس را نیز تنظیم می‌نماید.

پیام‌هایی که از شش‌ها به مرکز تنفسی ارسال می‌شود موجب افزایش و یا کاهش فعالیت مرکز تنفسی می‌گردد. مرکز تنفسی در بصل النخاع به شدت به پیام‌های رسیده از ترکیب گازهای خونی حساس هستند و به آن عکس‌العمل نشان می‌دهند و در صورت افزایش گاز مضر، تنفس را افزایش می‌دهند.

تنظیم شیمیایی تنفس:

هرگاه مقدار دی‌اکسید کربن خون افزایش یابد، pH خون کاهش می‌یابد که محرک واقعی برای گیرنده‌های شیمیایی دستگاه تنفس می‌باشد و تنفس را افزایش می‌دهد.

در این حالت دفع دی‌اکسید کربن افزایش و فشار آن در خون کاهش می‌یابد. در نتیجه تحریک گیرنده‌های شیمیایی دی‌اکسید کربن نیز کاهش می‌یابد.

این پدیده کنترلی سبب ایجاد تعادل در بدن می‌شود.

مرکز تنفس به تغییرات فشار دی‌اکسید کربن نسبت به فشار اکسیژن بسیار حساس‌تر است. کاهش اکسیژن در صورتی بر تنفس اثر می‌گذارد که بسیار شدید باشد.

عملکرد تنفسی:

از شاخص‌های زیادی برای عملکرد شش‌ها استفاده می‌شود. مرسوم‌ترین این شاخص‌ها سرعت تنفس یا تعداد تنفس در دقیقه است. در جدول ۱-۶ سرعت تنفس در گونه‌های مختلف را مشاهده می‌کنید.

تنفس و حرارت اضافی:

تنفس به دو روش در تنظیم حرارت بدن شرکت دارد.

۱- روش هدایتی یا جریان مستقیم حرارتی: که طی آن هوای ورودی از اتمسفر تا حد درجه حرارت بدن گرم می‌شود.

۲- روش تبخیری: که با تبخیر کردن رطوبت موجود در مجاری هوایی برای کاهش دمای بدن خود استفاده می‌کنند.

در مرغ غدد عرق وجود ندارد، لذا دفع تبخیری حرارت اهمیت بیشتری پیدا کرده است. طیور با له زدن، دفع حرارت از طریق تنفس را افزایش می‌دهند.

جدول ۱-۶ - سرعت تنفس در گونه‌های مختلف (تعداد تنفس در دقیقه)

سرعت تنفس	انسان	گاو	اسب	مرغ
۱۲-۳۰	۱۲-۲۸	۸-۱۶	۱۲-۲۵	

فعالیت عملی

وسایل و تجهیزات لازم:

میز تشریح، قیچی جراحی دولبه (تیز، کند)، قیچی استخوان بر، پنس شستی، دستکش و روپوش.
۱- با نظر مربیان در کلاس گروه بندی شوید.

۲- دستکش‌ها را به دست کنید و روپوش بپوشید.

۳- هر گروه یک مرغ را به پشت روی میز تشریح بخواباند (به نحوی که پاها به سمت خودتان باشد).

۴- انگشت شصت را روی قسمت ران و سایر انگشتان را پشت ران قرار دهید. با فشار انگشت شصت ران را از بدن جدا

کرده و پرنده را کاملاً به میز بچسبانید. در این حالت باید لاشه مرغ کاملاً بر روی میز خوابیده باشد.

۵- با استفاده از قیچی دو لبه پوست ناحیه سینه را جدا کنید. در این هنگام عضلات سینه باید دیده شود.

۶- با استفاده از قیچی دوبرش کاملاً موازی دنده‌ها به سمت عمق در کنار قفسه سینه ایجاد کنید. با دست قفسه سینه

را به سمت بالا بکشید. اکنون محوطه بطنی در اختیار شماست.

۷- برای جدا کردن قسمت صدری (قلب و ریه) باید آنها را کاملاً از اندام‌ها جدا کنید.

۸- ریه‌ها را با استفاده از پنس و با احتیاط از داخل حفرات دنده‌ها خارج کنید.

۹- سر مرغ را به یک طرف بخوابانید و با استفاده از قیچی پوست گردن را از کنار گوش برش بدهید.

۱۰- برش را تا محل قفسه سینه ادامه دهید و پوست را از ناحیه گردن جدا کنید. در این حالت باید نای و مری را

مشاهده کنید.

۱۱- با استفاده از قیچی استخوان بر، استخوان قفسه سینه را ببرید.

۱۲- نای را از قسمت بالایی با استفاده از قیچی لبه کند جدا کنید و در قسمت پایین از قفسه سینه خارج کنید.

۱۳- جعبه صوتی را در ناحیه تبدیل نای به نایژه مشاهده کنید.

۱۴- ریه و نای و نایژه‌ها را از لاشه مرغ خارج نموده و دقیق‌تر مشاهده کنید.

آزمون پیمانۀ مهارتی ۶

۱- اهمیت دستگاه تنفس در طیور را شرح دهید؟

۲- قسمت‌های مختلف دستگاه تنفس طیور را نام ببرید؟

۳- وظایف دستگاه تنفس طیور را بیان نمایید؟

۴- تنفس چگونه در تنظیم حرارت بدن شرکت می‌نماید؟


۵- تعداد کیسه‌های هوایی در مرغ چه تعدادی است؟

۱۰(د)

۹(ج)

۸(ب)

۷(الف)



دستگاه ادراری

هدف کلی

شناخت دستگاه ادراری طیور




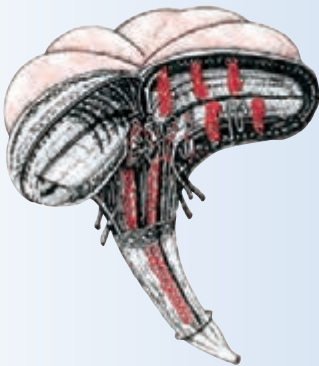
هدف‌های رفتاری

در پایان این فصل هنرجو باید بتواند:

- ۱- ساختمان دستگاه ادراری را توضیح دهد.
- ۲- وظایف دستگاه ادراری را بیان نماید.
- ۳- قسمت‌های مختلف دستگاه ادراری را نشان دهد.

پیش‌آزمون

- ۱- واحد عمل در کلیه‌ها چیست؟
- ۲- سه وظیفه اصلی کلیه چیست؟
- ۳- غدد نمکی در اردک وجود دارد یا مرغ؟



در این بیمانه نقش کلیه در دفع مواد زائد و ایجاد تعادل بین یون‌های سدیم و پتاسیم خون و مایعات خارج سلولی مورد بررسی قرار می‌گیرد.

۱-۷- ساختمان دستگاه ادراری

دستگاه ادراری طیور از یک جفت کلیه و یک جفت میزنای (حالب) که به حالت متقارن قرار گرفته‌اند، تشکیل شده است.
کلیه:

کلیه اندام کشیده‌ای است که در حفره‌های موجود در محل اتصال استخوان‌های لگن قرار دارد.

در تصاویر ۱-۷ و ۲-۷ کلیه مرغ را مشاهده کنید.

وزن کلیه در ماکیان ۵ تا ۶ گرم یا در حدود ۲۱/۰ تا ۲۸/۰ درصد از وزن بدن است. طول آن ۷ تا ۱۰ سانتی‌متر و عرض آن ۱/۳ تا ۱/۵ سانتی‌متر می‌باشد.

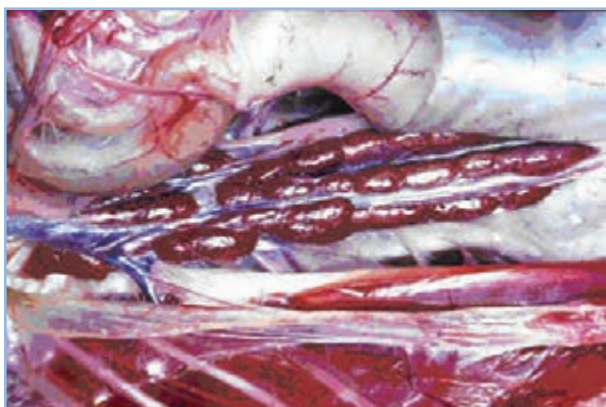
سطح شکمی کلیه صاف و سطح پشتی آن برجستگی‌هایی دارد که ناشی از نزدیکی به ستون مهره‌ها است. علاوه بر قرار گرفتن در حفره استخوان‌ها، این اندام بوسیله رگ‌های خونی که از آن می‌گذرند و شاخه‌های شبکه عصبی کمری و نشیمنگاهی که به درون آن می‌روند، در جایگاه خود ثابت شده است. بدین لحاظ خارج کردن کلیه به صورت سالم دشوار است. رنگ کلیه بسته به مقدار خون آن از صورتی کم رنگ تا قرمز مایل به قهوه‌ای متغیر است.

واحد عمل در کلیه‌ها نفرون می‌باشد. تعداد نفرون‌های پرندگان در مقایسه با پستانداران بسیار زیاد است.

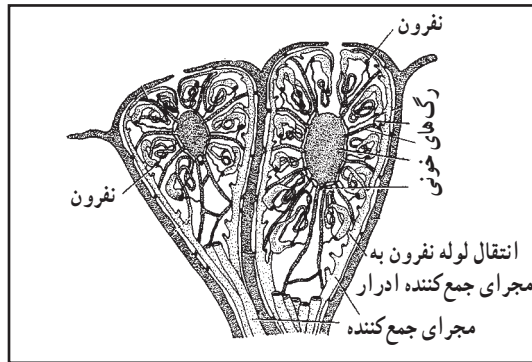
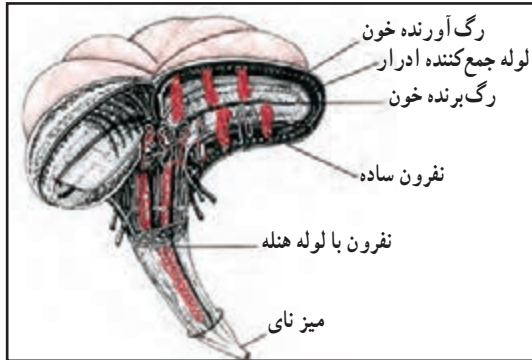
هر کدام از نفرون‌ها از یک جسمک کلیوی و یک لوله تشکیل شده است. جسمک کلیوی در برگیرنده شبکه مویرگی و کپسول گلومرولی است. شبکه مویرگی در میان یک رگ آورنده خون (آوران) و یک رگ برنده خون (وابران) قرار گرفته است و توسط کپسول گلومرولی دو جداره‌ای احاطه می‌شود. بین لایه درونی و بیرونی در کپسول فضایی وجود دارد که ادرار اولیه در آن



شکل ۱-۷- موقعیت کلیه مرغ در بدن



شکل ۲-۷- کلیه مرغ

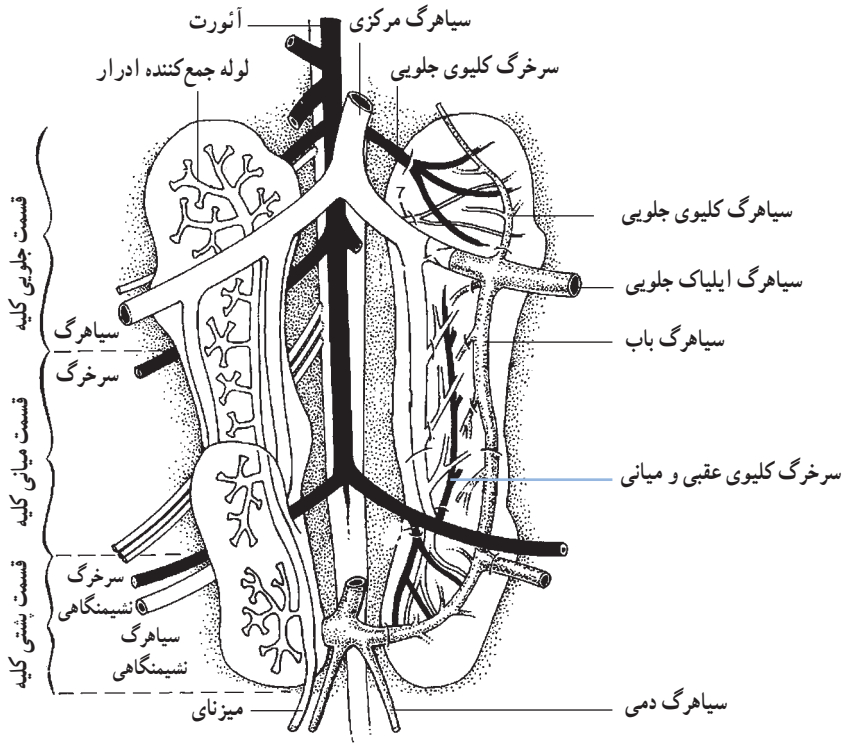


جریان می‌یابد. ادرار از این فضا به درون لوله‌های نفرون می‌ریزد کلیه‌های پرندگان دارای دو نوع نفرون می‌باشند. نفرون‌های ساده (قشری)، لوله بسیار صافی دارند که تنها سه یا چهار بار روی خود تا می‌خورند و در قسمت قشری کلیه قرار دارند.

در نفرون‌های پیچیده‌تر (مرکزی)، طول لوله بیشتر است و این نفرون‌ها دارای قوس هنله می‌باشند. نفرون‌های دارای قوس هنله در قسمت مرکزی کلیه قرار دارند. مجاری جمع‌آوری کننده، ادرار هر دو نوع نفرون‌ها را تخلیه می‌کنند. لوله‌های جمع کننده ادرار و قوس هنله به صورت موازی با یکدیگر در غلافی قرار می‌گیرند و قسمتی از مخروط میانی را تشکیل می‌دهند. (تصاویر ۳-۷ و ۵-۷)

هر یک از مخروط‌ها در انتها به یکی از شاخه‌های میزنای تبدیل می‌شوند. تعداد مخروط‌ها برای هر گونه از طیور ثابت است و با گونه‌های دیگر بسیار متفاوت می‌باشد. محتویات مجاری

شکل ۳-۷ - نفرون و مجرای جمع کننده ادرار در مخروط میانی کلیه طیور



شکل ۴-۷ - کلیه (سمت راست عروق کلیه و سمت چپ لوله‌های جمع کننده ادرار)

پالایش می‌کند. بیشتر از ۹۰٪ آب پالایش شده به همراه قندهای ساده والکترولیت‌ها مجدداً از نفرون‌ها جذب شده و به خون باز می‌گردند. این فرایند موجب می‌شود که کلیه‌ها از اعضاء بسیار مهم حفظ تعادل داخلی بدن محسوب گردند و میزان آب بدن و مواد محلول در آن را در حد نسبتاً ثابتی حفظ کند. در تصویر (۶-۷)



شکل ۵-۷- انواع نفرون

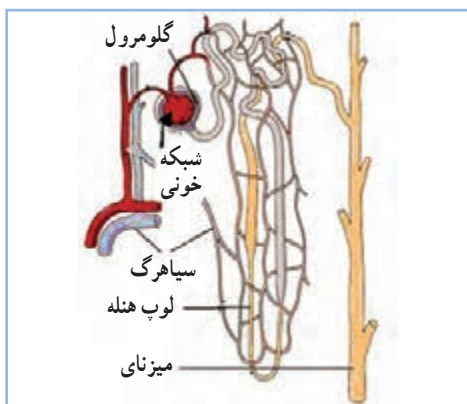
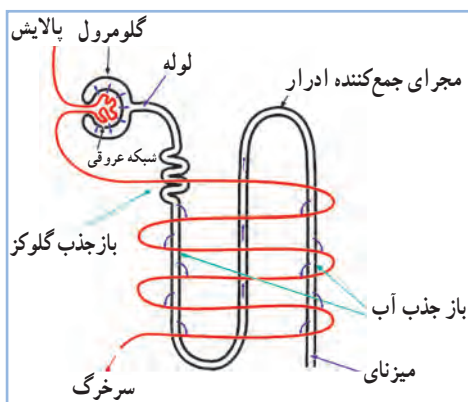
جمع کننده ادرار به میزنا می‌ریزد و میزنا ادرار را به قسمت میانی کلوک برای دفع انتقال می‌دهد. در مقایسه با پستانداران، طیور فاقد مثانه ولگنجه کلیوی هستند. کلیه از سه قسمت (لوب) تشکیل شده است. این سه قسمت شامل لوب‌های جلویی، میانی و عقبی می‌باشند. در تصاویر (۱-۷، ۲-۷ و ۴-۷) سه قسمت کلیه را مشاهده نمایید. سه سرخرگ اصلی کلیه سرخرگ‌های جلویی، میانی و عقبی می‌باشند. سرخرگ جلویی مستقیماً از آئورت منشأ می‌گیرند و بخش جلویی کلیه را خون‌رسانی می‌کنند سرخرگ‌های میانی و عقبی به بخش‌های میانی و عقبی کلیه خون می‌رسانند. پرندگان دارای سیستم باب کلیوی می‌باشند. در این سیستم خون توسط سیاهرگ‌های باب کلیوی به کلیه حمل می‌شوند.

۲-۷- فیزیولوژی کلیه

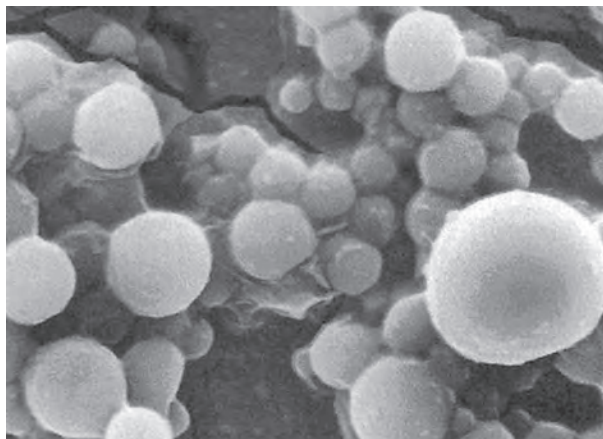
کلیه سه وظیفه پالایش، باز جذب و ترشح را برعهده دارد که برعهده نفرون‌ها می‌باشد. یون‌های سدیم و پتاسیم مهم‌ترین الکترولیت‌های بدن محسوب می‌شوند. محصول نهایی سوخت و ساز پروتئین‌ها در طیور نیز اسید اوریک می‌باشد. در نفرون‌ها اسیداوریک، الکترولیت‌ها و قند ساده به همراه مقدار زیادی آب از خون پالایش یا تصفیه می‌شوند.

لازم است بدانید برخی از مواد بطور کامل پالایش یا تصفیه می‌شوند اگرچه مقدار آنها در خون بسیار کم باشد. اسید اوریک از جمله این مواد است. برای انجام عمل پالایش، فشار سرخرگی مورد نیاز باید بیشتر از فشار غشاء گلومرولی باشد. بدین ترتیب راندن مایعات از عروق خونی به داخل نفرون امکان‌پذیر می‌شود.



در مدت ۲۴ ساعت، کلیه‌های ماکیان تقریباً ۶ لیتر مایع را



شکل ۶-۷- ساختمان و نحوه عمل نفرون



شکل ۷-۷- کریستال‌های اسید اوریک



شکل ۷-۸- غدد نمکی در اردک

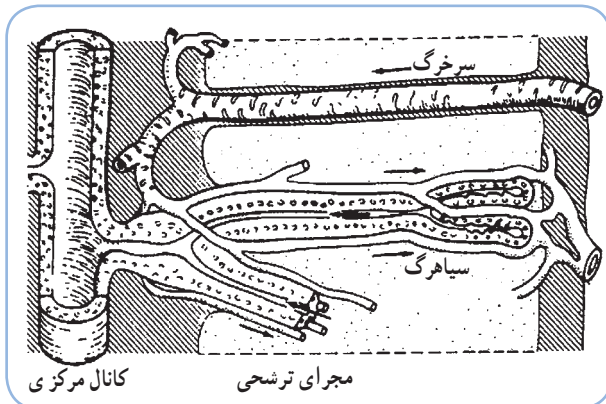
نحوه عمل نفرون را ملاحظه کنید.

سلول‌های موجود در لوله‌های نفرون برای انجام فعالیت‌های باز جذب نیاز به مصرف انرژی دارند. فعالیت باز جذب حتی در روی موادی که غلظت آنها در خون چندین برابر بیشتر از ادرار است نیز صورت می‌گیرد. بنابراین پدیده باز جذب تنها یک فرایند ساده نیست.

ادرار به شکل غلیظ شده با مدفوع آمیخته و دفع می‌شود. در این حالت اسید اوریک به رنگ سفید بر روی مدفوع قرار دارد. غلظت اسید اوریک در ادرار بسیار زیاد است و ۵۲ تا ۸۸ درصد کل نیتروژن ادرار را در مرغ و اردک تشکیل می‌دهد. (شکل ۷-۷)

دفع خارج کلیه‌ای نمک:

غده نمکی: غدد خاصی در برخی طیور وجود دارد که آنها را قادر می‌سازد مقدار زیادی نمک دفع کنند. این غدد معمولاً در بینی قرار دارد ولی در برخی گونه‌ها بر روی قسمت فوقانی سر قرار گرفته است. (شکل ۷-۸)




شکل ۹-۷- ساختمان غده نمکی

اردک، غاز، شترمرغ و کبک دارای این نوع غدد می‌باشند، در طیوری که فاقد این غدد می‌باشند نمک صرفاً توسط کلیه‌ها ترشح، باز جذب و دفع می‌گردد. مرغ و کبوتر فاقد غده نمکی می‌باشند و مقدار نمک بدن آنها توسط کلیه‌ها تنظیم می‌گردد.

غده نمک یک کانال مرکزی دارد. تعدادی مجرای ترشچی به صورت شعاعی از آن جدا می‌شوند که بوسیله سرخرگ و سیاهرگ‌های کوچک احاطه شده و انتهای آنها مسدود است. نمک اضافی از جریان خون خارج و به مجرای ترشچی و در نهایت به کانال مرکزی انتقال می‌یابد. (تصویر ۹-۷) ترشحات غدد نمکی تحت تأثیر درجه حرارت قرار دارد و در پاسخ به افزایش حرارت محیط اتفاق می‌افتد.


فعالیت عملی



- ۱- لاشه مرغ را تشریح کنید.
- ۲- با خالی کردن امعاء و احشاء کلیه‌های مرغ و اتصالات آن پیدا است.
- ۳- اکنون با جدا کردن کلیه‌ها، حالب‌ها (میزنا‌ی‌ها) اعصاب و رگ‌های خونی کلیه‌ها به مشاهده آن بپردازید.
- ۴- به دلیل ظرافت اعضاء فوق کار تشریح را با دقت انجام دهید.

آزمون پیمانۀ مهارتی ۷

- ۱- دستگاه ادرازی طیور از یک جفت ... و یک جفت ... تشکیل شده است.
- ۲- کدام پرندۀ فاقد غدد نمکی می باشد؟
الف) شترمرغ ب) اردک ج) مرغ د) غاز
- ۳- ساختمان غدد نمکی را توضیح دهید؟
- ۴- ساختمان نفرون را شرح دهید؟
- ۵- محصول نهایی سوخت و ساز پروتئین ها در طیور چیست؟
- ۶- کدام مادۀ بطور کامل در کلیه ها پالایش می شود؟
الف) اسید اوریک ب) قند ساده ج) سدیم د) پتاسیم
- ۷- چرا کلیه یکی از اعضای بسیار مهم حفظ تعادل داخلی بدن محسوب می شود؟



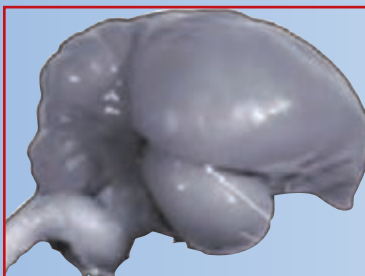
دستگاه عصبی



هدف کلی

شناخت دستگاه عصبی طیور

هدفهای رفتاری

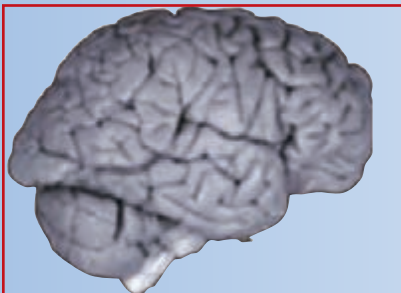


در پایان این فصل هنرجو باید بتواند:

- ۱- ساختمان دستگاه عصبی را توضیح دهد.
- ۲- وظایف دستگاه عصبی را بیان نماید.
- ۳- قسمت‌های مختلف دستگاه عصبی را نشان دهد.

پیش‌آزمون

- ۱- سلول عصبی را چه می‌نامند؟
- ۲- تفاوت اساسی مغز پرندگان با مغز پستانداران در چیست؟
- ۳- وظیفه اصلی مخچه چیست؟



دستگاه عصبی در تمام فعالیت‌های حیاتی بدن موجودات زنده دخالت دارد. در طیور نیز این دستگاه به عنوان رهبر بدن، در فعالیت‌های پرنده شرکت کرده و نقش کنترل کننده، تشدید کننده و یا بازدارنده را در اعمال مختلف بازی می‌کند. در واقع دستگاه عصبی مسئول برقراری و حفظ ارتباطات داخلی و خارجی و نیز سازش پرنده با محیط است.

۱-۸- ساختمان دستگاه عصبی طیور

سلول عصبی:

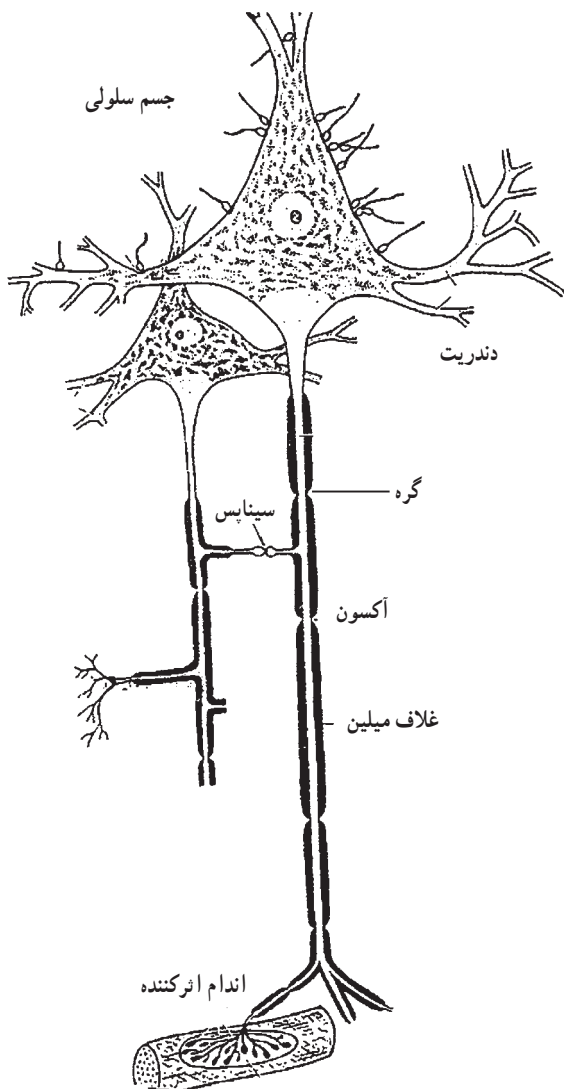
سلول عصبی را نرون^۱ گویند؛ نرون‌ها بسیار تخصص یافته هستند و واحد ساختمانی و کاری سیستم عصبی می‌باشند. هر نرون از جسم سلولی (پریکاریون)^۲ تشکیل شده است که یک شاخه منفرد به نام آکسون^۳ و یک یا چند شاخهٔ منشعب به نام دندریت^۴ از آن جدا می‌شوند. جسم سلولی حاوی هسته سلول عصبی می‌باشد. آکسون باعث انتقال تحریک از جسم سلولی می‌شود. (شکل ۱-۸)

بافت‌های عصبی سیستم عصبی مرکزی علاوه بر نرون‌ها حاوی سلول‌های پشتیبان^۵ نیز هستند. این سلول‌ها به تغذیه نرون‌ها کمک می‌کنند.

دستگاه عصبی طیور از نظر ساختمانی و عمل از دو بخش سیستم عصبی مرکزی و سیستم عصبی محیطی تشکیل شده است.

الف) سیستم عصبی مرکزی (CNS):^۶

این قسمت از دستگاه عصبی شامل مغز و نخاع می‌باشد که ساختمان‌های بسیار تخصص یافته‌ای هستند و بطور کامل در داخل محفظهٔ استخوانی (جمعیه و ستون مهره) محافظت شده و جای گرفته‌اند.



شکل ۱-۸- سلول عصبی (نرون)

۱- Neuron
۵- Glial Cells

۲- Perikaryon
۶- Central Nervous System

۳- Axon

۴- Dendrite

مغز:

مغز تقریباً بطور کامل از بافت عصبی تشکیل شده است. حفره مرکزی مغز با مایع مغزی- نخاعی پر شده و به کانال مرکزی نخاع متصل می‌باشد. اطراف حفره مرکزی بخش‌هایی از ماده سفید وجود دارند و بخش خارجی مغز عمدتاً از ماده خاکستری تشکیل شده است. ماده خاکستری مغز و نخاع از نرون‌های بدون میلین^۱ تشکیل می‌شوند و ماده سفید از نرون‌های میلین دار بوجود می‌آیند. مغز مرکز اصلی کنترل فعالیت ارادی و بسیاری از فعالیت‌های غیر ارادی می‌باشد.

سه بخش اصلی مغز، عبارتند از مغز پیشین^۲ (مخ)^۳، مغز میانی^۴ و مغز پسین^۵.

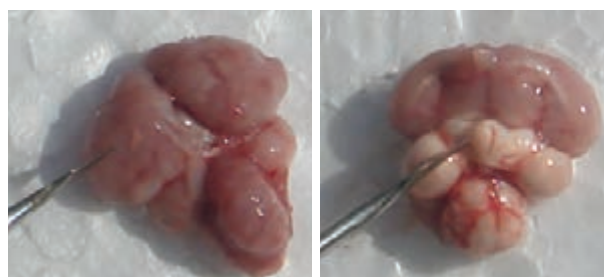
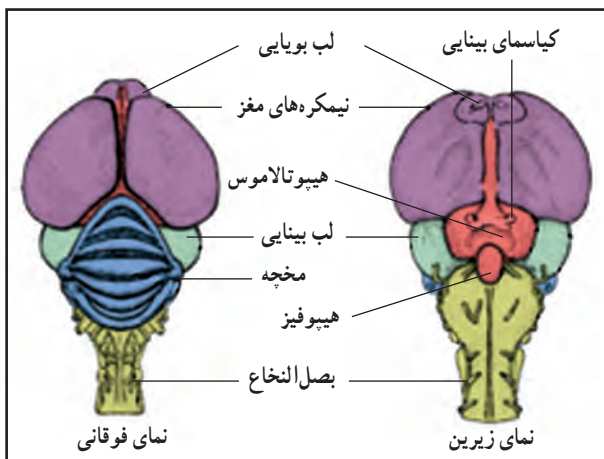
مخ از دو نیمکره راست و چپ تشکیل شده است. لایه خارجی مخ قشر مخ^۶ می‌باشد. مغز پیشین، برای کنترل جامع سیستم عصبی خودکار و چندین غدد درون‌ریز می‌باشد.

مغز میانی ناحیه پیچیده‌ای است که تحریکات بینایی و شنوایی را می‌گیرد. آنها را هماهنگ کرده و واکنش‌های محیطی و حرکتی مانند واکنش دفاعی را کنترل می‌کند.

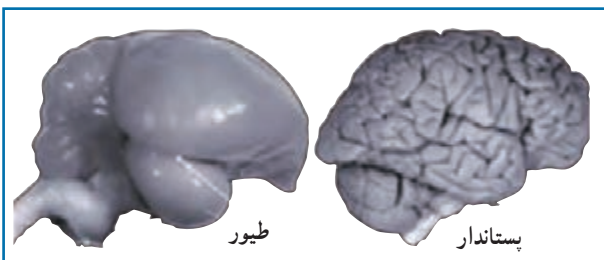
مؤثرترین نقطه برای تولید صوت در مغز میانی واقع شده است.

مغز پسین مخچه^۷ را در بر گرفته است. مخچه، بصل‌النخاع^۸، تالاموس^۹ و هیپوتالاموس^{۱۰} سایر مراکز عصبی می‌باشند.

مخچه اندام مرکزی برای همزمانی حرکات عضلانی و برقراری تعادل بدن پرندگان می‌باشد. توجه داشته باشید که مخچه در پرندگان رشد زیادی دارد. (شکل‌های ۲-۸ و ۳-۸)



شکل ۲-۸- نمای زیرین و فوقانی مغز مرغ



شکل ۳-۸- مقایسه مغز طیور و بستانداران

۱- میلین ماده‌ای از جنس چربی است که آکسون بعضی از سلول‌های عصبی را احاطه کرده است.

۲- Forebrain

۳- Cerebrum

۴- Midbrain

۵- Hindbrain

۶- Cerebral Cortex

۷- Cerebellum

۸- Medulla Oblangata

۹- Thalamus

۱۰- Hypothalamus



شکل ۴-۸ - نخاع مرغ

بصل النخاع آخرین قسمت تنه مغز می باشد و مغز میانی را به نخاع متصل می کند.

بصل النخاع تعدادی از دستگاه های بدن را کنترل می کند که اهمیت اساسی دارند از جمله:

- ۱- دستگاه تعادلی بدن.
- ۲- دستگاه تنفس
- ۳- دستگاه گردش خون
- ۴- حرکاتی که به گرفتن، آماده کردن و انتقال غذا مربوط می شود.

تالاموس بین مغز پیشین و مغز میانی قرار دارد. هیپوتالاموس در ناحیه شکمی تالاموس قرار دارد. هیپوتالاموس، مرکز اصلی مغز پیشین برای کنترل سیستم عصبی خودکار و چندین غده درون ریز می باشد. ارتباطی مهم بین هیپوتالاموس و هیپوفیز در پرندگان وجود دارد که در بخش غدد به طور کامل مورد بررسی قرار می گیرد.

در تصویر ۳-۸ تفاوت های مغز پرنده و پستانداران را مشاهده می کنید. اختلاف مغز پستانداران و پرندگان در رشد زیاد قسمت بینایی و مخچه به نسبت وزن بدن در مغز طیور می باشد. همچنین در طیور غده پینه آل اهمیت دارد که در پیمانۀ نهم بررسی خواهد شد. در پستانداران بر خلاف پرندگان مرکز حرکتی قشر مغز رشد بیشتری دارد.

نخاع:

نخاع از جلو به بصل النخاع متصل است و تا آخرین قسمت استخوان ستون مهره ها ادامه دارد. (تصویر ۴-۸) نخاع نیز مانند مغز مرکز پردازش و تقویت پیام ها است. از طرف دیگر نخاع وسیله ارتباط بین مغز و بدن محسوب می شود. ترتیب قرار گرفتن ماده خاکستری و سفید در نخاع بر عکس مغز است. بدین ترتیب که ماده سفید نسبت به ماده خاکستری در

فعالیت عملی

لاشه مرغ یا یک پرنده دیگر را تشریح کنید. با قیچی استخوان بر استخوان های سر و ستون مهره ها را جدا کرده و مغز، مخچه و نخاع را مشاهده و بررسی نمایید.

بیرون قرار گرفته است.

ارتباط بین نخاع و بافت های بدن از طریق اعصاب نخاعی انجام می شود.

اعصابی که از ناحیه پشتی نخاع خارج می شوند عمدتاً حسی هستند. اعصاب خارج شده از ناحیه شکمی اعصاب حرکتی می باشند. اعصاب حسی، احساسات مختلف مثل فشار، گرما، سرما و... را به مراکز عصبی نخاع و مغز انتقال می دهند و اعصاب حرکتی پیام های مغز و نخاع را به عضو می برند.

ب) سیستم عصبی محیطی (PNS):^۱

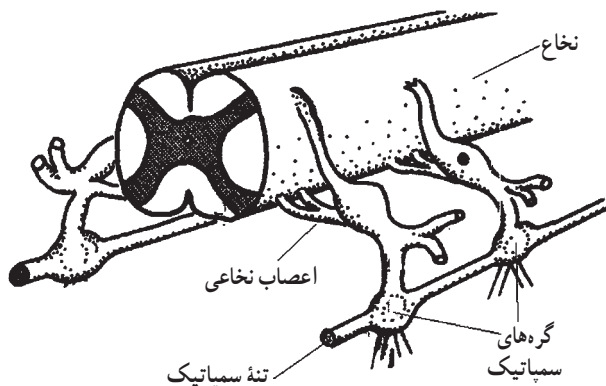
سیستم عصبی محیطی قسمت هایی از سیستم عصبی به

۱- Peripheral Nervous System

عصب سمپاتیک در طیور از رشته‌های عصبی تشکیل شده است که از طریق شاخه‌های شکمی نخاع را ترک و به تنه‌های سمپاتیکی^۲ که به موازات ستون مهره‌ها قرار دارد وارد می‌شوند و سپس در اندام‌های بدن توزیع می‌شوند. تمام اعصابی که از تنه سمپاتیک منشأ نمی‌گیرند متعلق به سیستم عصبی پاراسمپاتیک می‌باشند. آنها نیز به همان اندام و بافت‌هایی عصب می‌دهند که عصب‌های سمپاتیک عصب‌دهی می‌کنند.

غالباً هر دوی این اعصاب روی اعضای بدن تأثیر گذاشته و باعث تنظیم عمل و عکس‌العمل آنها نسبت به عوامل مختلف محیطی می‌شوند.

در بیان کلی می‌توان گفت که این دو سیستم کارهای متضادی روی اندام‌ها انجام می‌دهند. مانند افزایش یا کاهش جریان خون به یک اندام که باعث تنظیم واکنش پرنده به محیط اطراف می‌شود. (تصاویر ۵-۸ و ۶-۸)



شکل ۵-۸ - نخاع و تنه سمپاتیک

جز مغز و نخاع می‌باشد که از اعصاب مغزی و نخاعی که از مغز و نخاع خارج شده‌اند تشکیل شده است و تعداد زیادی گره (عقدۀ) و شبکه‌های عصبی که در ارتباط با سیستم عصبی خودکار می‌باشند، را شامل می‌شود.

اعصاب کاسه‌سر (۱۲ جفت)، اعصاب نخاعی (شامل اعصاب نخاعی بازویی، کمری، خاجی و انتهای) و سیستم عصبی خودکار قسمت‌های مختلف سیستم عصبی محیطی می‌باشند.

۱۲ جفت عصب سری به ترتیب از ۱ تا ۱۲ شماره گذاری شده‌اند. این اعصاب شامل سه گروه عصب‌های اندام‌های حسی، عصب‌های احشایی و اعصاب حرکتی می‌شوند. مهم‌ترین عصب این گروه عصب شماره ۱۰ یا عصب واگ می‌باشد.

۲-۸- فیزیولوژی دستگاه عصبی

نرون یا سلول عصبی، عامل منتقل کننده اطلاعات است. هر نرون در تماس با نرون‌های دیگر می‌باشد به نحوی که قسمتی از شبکه عظیم و به هم پیوسته سیستم عصبی را تشکیل می‌دهد. محل اتصال نرون با نرون دیگر را سیناپس می‌گویند. برای انتقال اطلاعات، جریان عصبی باید از یک نرون به نرون دیگر عبور کند که این اتفاق با اتصال آکسون یا دندریت‌های یک سلول عصبی به آکسون یا دندریت‌های سلول عصبی بعدی امکان‌پذیر می‌شود.

سیستم عصبی خودکار^۱:

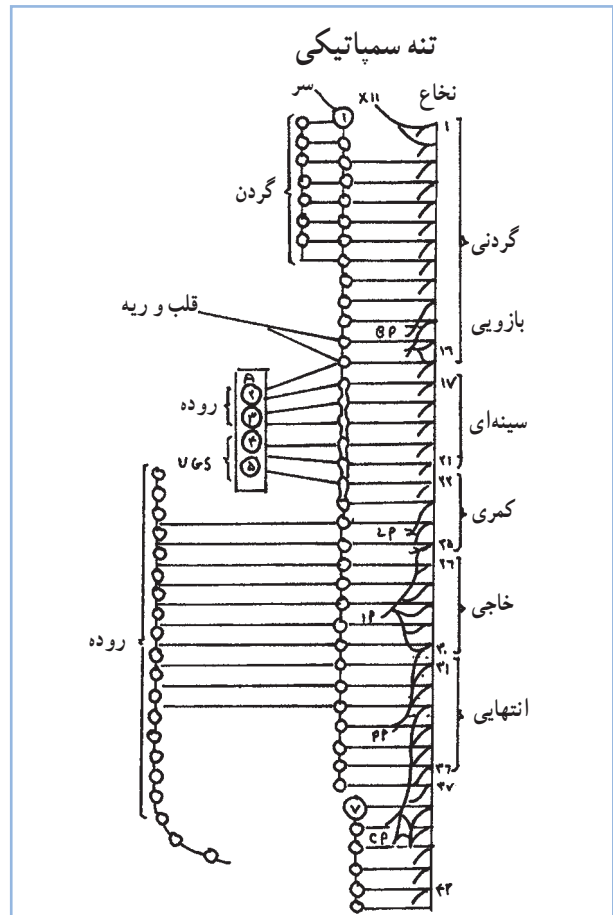
این سیستم، اعصاب ماهیچه‌های صاف و قلبی، غده‌های بدن و رگ‌های خونی را تأمین می‌نماید.

سیستم عصبی خودکار به دو زیر مجموعه اصلی، سمپاتیک و پاراسمپاتیک تقسیم‌بندی می‌شوند.

پردازش پیام‌های عصبی:

پاسخ به محرک‌ها دقیقاً مطابق مثال فوق صورت می‌گیرد. هرگاه غذا (محرک) وارد دهان شود اعصاب حسی پیام را به مراکز مغزی - نخاعی برده و در آن محل موضوع بررسی می‌شود و از طریق اعصاب حرکتی پیامی برای عضو هدف (در این مثال غدد بزاقی) می‌فرستد و آن را وارد به عکس‌العمل (ترشح بزاق) می‌نماید. بنابراین در هر عمل انعکاسی، پنج قسمت شرکت دارند:

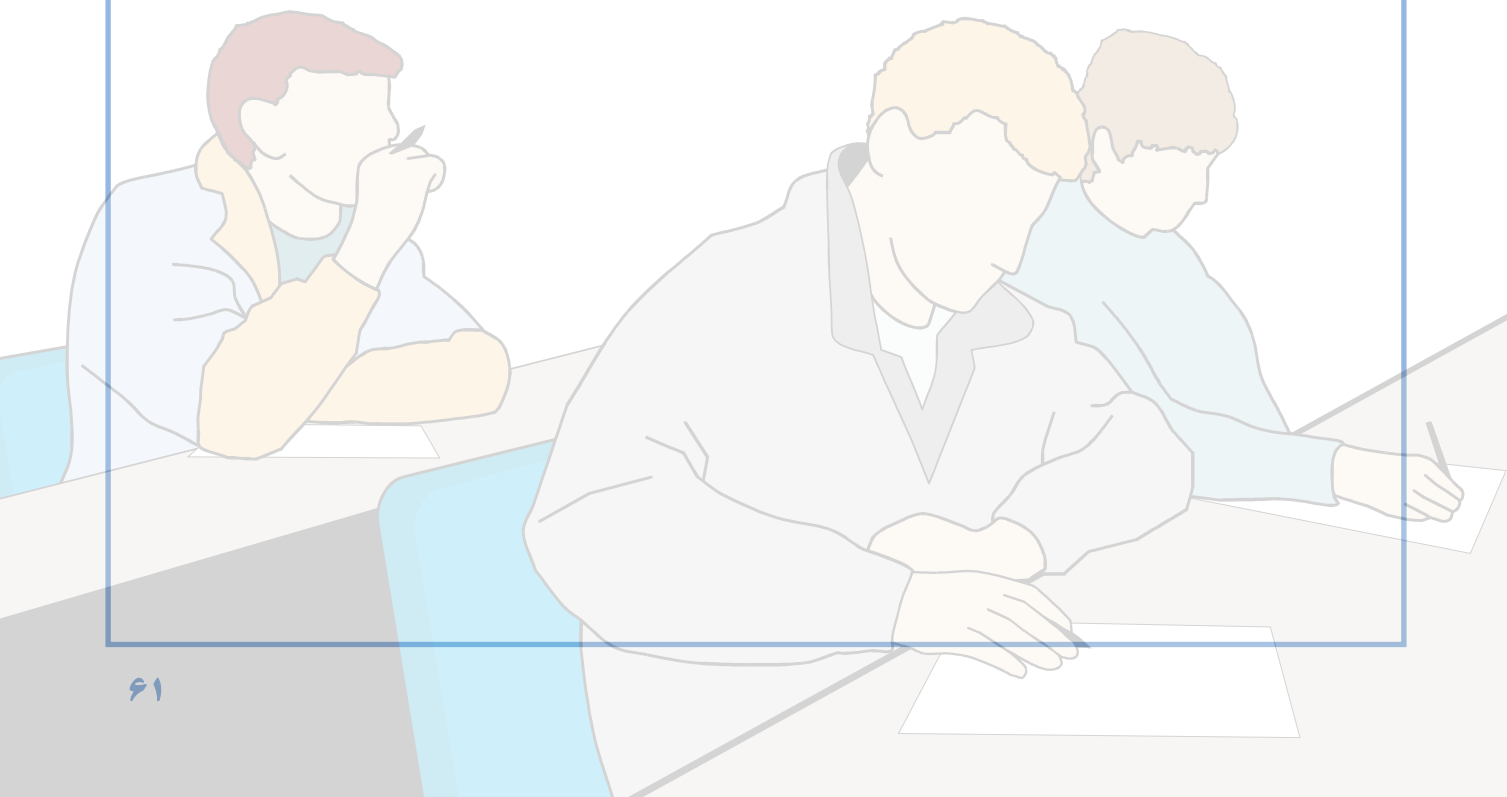
- ۱- عضو گیرنده
- ۲- اعصاب حسی
- ۳- محل‌های پردازش (بصل نخاع)
- ۴- اعصاب حرکتی
- ۵- اندام یا عضو حرکتی



شکل ۶-۸ - نخاع و تنه سمپاتیکی

آزمون پیمانۀ مهارتی ۸

- ۱- اهمیت دستگاه عصبی را در بدن طیور توضیح دهید؟
- ۲- در سیستم عصبی، واحد سلولی ... نامیده می‌شود.
- ۳- سلول عصبی از چه اجزایی تشکیل شده است؟
- ۴- بصل النخاع کدامیک از دستگاه‌های بدن را کنترل می‌کند؟
- ۵- سیستم عصبی مرکزی شامل ... و ... می‌باشد.
- ۶- پاسخ به محرک‌ها در بدن طیور چگونه کنترل می‌شود؟
- ۷- در هر عمل انعکاسی چند قسمت شرکت می‌نمایند؟ نام ببرید؟



غدد داخلی

هدف کلی
شناخت غدد طیور



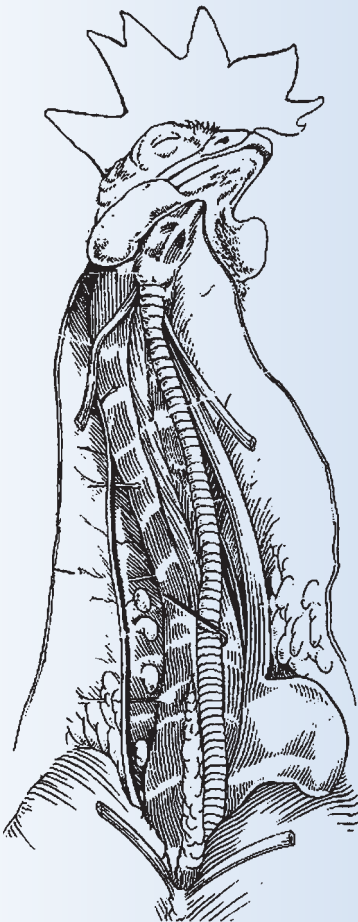
هدف‌های رفتاری

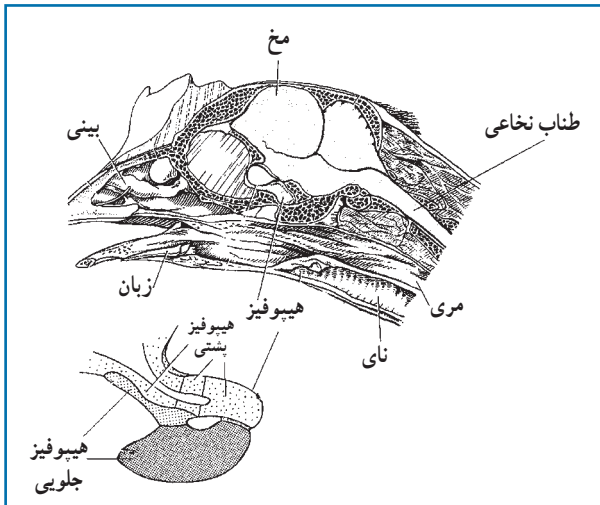
در پایان این فصل هنرجو باید بتواند:

- ۱- عملکرد غدد داخلی را توضیح دهد.
- ۲- غدد درون ریز و برون ریز را تعریف کند.
- ۳- وظایف هر یک از غدد بدن را بیان کند.
- ۴- با تشریح پرنده نر و ماده غدد بدن را نشان دهد.

پیش آزمون

- ۱- نوزالمعده طیور در کدام قسمت از محوطه شکمی قرار دارد؟
- ۲- تیموس در کدام ناحیه از بدن طیور قرار دارد؟ (گردن، شکم، سر)
- ۳- هورمون پاراتورمون از کدام غده ترشح می‌شود؟





شکل ۱-۹- غده هیپوفیز

غدد در پرندگان همچون پستانداران از ساختمان پیچیده‌ای برخوردار است. در طیور نیز غدد داخلی به دو دسته کلی غدد درون‌ریز و غدد برون‌ریز تقسیم می‌شوند:

۱-۹ غدد درون‌ریز

غدد درون‌ریز به غددی گفته می‌شوند که فاقد مجرا بوده و ترشحات خود را مستقیماً وارد جریان خون می‌کنند ترشحات غدد درون‌ریز را هورمون گویند. هورمون‌ها مستقیماً روی بافت‌ها و سلول‌های اندام مورد نظر تأثیر می‌گذارند.

مهم‌ترین غدد درون‌ریز عبارتند از:

۱- مجتمع هیپوفیزی - هیپوتالاموسی

۲- گنادها

۳- لوزالمعده

۴- غدد فوق کلیوی (آدرنال)

۵- تیروئید

۶- پاراتیروئید

۷- اولتیموبرانشیال^۱

۱- مجتمع هیپوفیزی - هیپوتالاموسی

غده هیپوفیز ارتباط نزدیکی با هیپوتالاموس دارد به همین دلیل عملکرد آن تحت عنوان مجتمع هیپوتالاموسی - هیپوفیزی بررسی می‌شود. غده هیپوفیز دارای ساختمان پیچیده‌ای است. هیپوفیز در پرندگان به دو بخش جلویی^۲ (قدامی) و پشتی^۳ (خلفی) تقسیم می‌شود.

غده هیپوفیز را در تصویر (۱-۹) مشاهده کنید.

۱-۱- هیپوفیز جلویی

در طیور عمده فعالیت هورمونی هیپوفیز جلویی مربوط به بخش انتهایی این غده بوده که هورمون‌های مهم و پیچیده‌ای را

تولید می‌نماید؛ مهم‌ترین آنها عبارتند از:

گناد و تروپین‌ها:

هورمون‌های گناد و تروپین شامل LH^۴ و FSH^۵ می‌باشند

هورمون FSH در جنس نر باعث تحریک اسپرم‌سازی شده و در جنس ماده سبب رشد تخمک‌ها می‌شود. هورمون LH در جنس نر سبب تحریک ترشح هورمون جنسی نر (تستوسترون) و در جنس ماده باعث آزادسازی تخمک می‌گردد.

همچنین به نظر می‌رسد که کنترل ترشح هورمون‌ها در طیور توسط سیستم هیپوفیزی - هیپوتالاموسی مغز انجام می‌پذیرد.

تیرو تروپین‌ها:

شامل هورمون محرک تیروئید یا همان TSH^۸ می‌شود.

این هورمون بسیاری از فعالیت‌های غده تیروئید شامل تحریک رشد و نمو این غده و تولید و آزادسازی هورمون‌های تیروئیدی (تیروکسین)^۶ را تحت کنترل دارد. همچنین هورمون‌های تیروئید دارای اثر بازخورد^۷ منفی بر ترشح TSH طیور می‌باشد و موجب کنترل ترشح آن می‌شوند.

۱- Ultimobranchial

۲- Follicle Stimulating Hormone

۳- Thyroxine

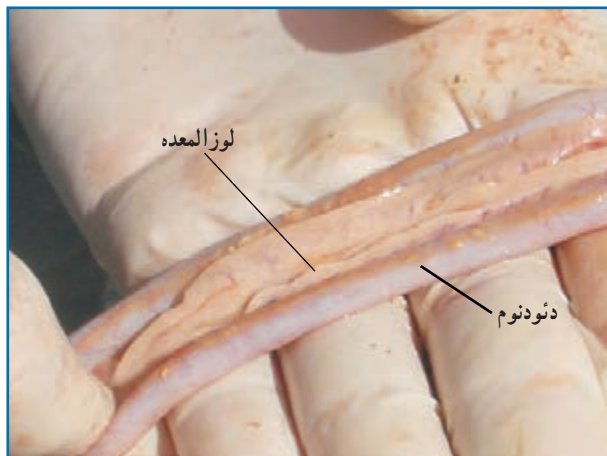
۴- Adenohypophysis

۵- Luteinizing Hormone

۶- Feedback

۷- Neurohypophysis

۸- Thyroid stimulating hormon



شکل ۲-۹- لوزالمعده

آنزیم‌ها و ترشح آنها از طریق مجاری ویژه به دوازدهه هستند و فقط ۱ تا ۲ درصد این بافت تحت عنوان جزایر خوشه‌ای خصوصیات غدد درون‌ریز را دارند و هیچ‌گونه ترشحاتی در مجاری لوزالمعده نداشته و ترشحات خود را مستقیماً وارد خون می‌کنند. این سلول‌ها انسولین و گلوکاکون را بصورت مستقیم تولید و ترشح نموده که قند خون (گلوکز) را در بدن ثابت نگه می‌دارند. بوسیله این هورمون‌ها میزان ساخت و ساز و مصرف قند در سلول‌های بدن تنظیم می‌شود.

۳- غدد فوق کلیوی:

یک جفت غده فوق کلیوی پرندگان در قسمت بالا و میانی کلیه‌ها، نزدیک هم قرار گرفته‌اند این غدد به دو بخش قشری (خارجی) و مرکزی (داخلی) تقسیم شده که برخلاف پستانداران کاملاً از هم متمایز نیست.

این غدد اپی نفرین (E) و نور اپی نفرین (NE) را ترشح می‌کنند. اپی نفرین موجب تحریک در تجزیه قند پیچیده گلیکوژن و در نتیجه تولید گلوکز و افزایش قند خون می‌شود و نور اپی نفرین عکس این عمل را انجام داده و موجب ساخت و ذخیره‌سازی گلیکوژن می‌گردد.

پرولاکتین:

در طیور نقش پرولاکتین در ارتباط با رفتار خوابیدن بر روی تخم (کرچی) به اثبات رسیده است. پرولاکتین در طیور به هنگام کرچی موجب ممانعت از عمل گنادها شده و تخم‌گذاری را متوقف می‌کند.

این هورمون تولید ترشحات چینه‌دان و همچنین افزایش سلول‌های موکوسی غدد این کیسه را در کبوتر تحریک می‌نماید.

هورمون رشد GH^۱

هورمون رشد دارای اثرات کوتاه مدت برساخت و ساز پرندگان بوده و این نقش را بویژه در سوخت و ساز چربی‌ها نشان می‌دهد. همچنین این هورمون بر روی استخوان‌ها و عضلات اثر داشته و موجب رشد بدن می‌گردد.

۱-۲- هیپوفیز خلفی

دو هورمون مهم از این ناحیه هیپوفیز ترشح می‌شوند این هورمون‌ها در قسمت هیپوتالاموس ساخته شده و در هیپوفیز خلفی انباشت و نگهداری می‌شوند و عملکرد آنها به شرح زیر است

آرژنین و آزو توسین (AVT)^۲:

این هورمون شبیه هورمون آنتی دیورتیک (واژوپرسین) در پستانداران عمل نموده و تنظیم آب بدن یعنی نیاز برای مصرف این ماده و دفع کلیوی آن را تنظیم می‌نماید.

مزو توسین (MT)^۲:

عملکرد این هورمون باعث انقباضات رحمی و تسهیل در تخم‌گذاری پرندگان شده و از این جهت شبیه هورمون اکسی توسین در پستانداران می‌باشد.

۲- جزایر خوشه‌ای لوزالمعده:

لوزالمعده طیور در سمت راست حفره شکمی و در بین خمیدگی دوازدهه واقع شده است. (شکل ۲-۹) بخش عمده لوزالمعده (۹۸-۹۹ درصد) مسئول ساخت

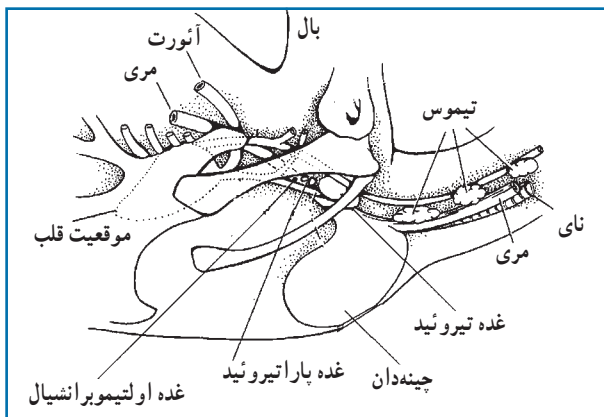
۱- Growth hormon

۲- Argininvasotocin

۳- Mesotocin

۴- Epinephrine

۵- Norepinephrine



شکل ۳-۹- غده تیروئید - پاراتیروئید و اولتیموبرانشیال

از بخش قشری این غده در طیور هورمون‌های دیگری ترشح می‌شود که مهم‌ترین آنها عبارتست از کورتیکوسترون^۱ و آلدسترون^۲.

کورتیکوسترون موجب تسهیل در تخمک‌گذاری می‌شود.

۴- تیروئید

در پرندگان غدد تیروئید بصورت یک جفت غده بیضی شکل به رنگ قرمز تیره در دو طرف نای قرار دارند. اندازه تیروئید طیور اهلی با افزایش سن به نسبت وزن بدن تغییر چندانی نمی‌کند، هرچند وزن خالص آن با افزایش سن زیاد می‌شود. اندازه فعالیت غده تیروئید در فصول و درجه حرارت مختلف تغییر می‌کند. در جوجه‌های جوان و مرغ تخم‌گذار لگه‌ورن در تابستان میزان ترشح تیروئید نصف زمستان است. در اردک نر حداکثر فعالیت تیروئید در ماه خرداد می‌باشد. در این موقع از سال که حداکثر نور وجود دارد، کاهش فصلی فعالیت بیضه‌ها و شروع پرریزی اتفاق می‌افتد. درجه حرارت پایین باعث افزایش ترشح هورمون‌های تیروئید می‌گردد.

مهم‌ترین هورمون‌های تیروئید T_3 و T_4 می‌باشند که نقش مهمی در تنظیم سوخت و ساز (با حضور اکسیژن) در بدن پرندگان بعهده دارند و علاوه بر این باعث افزایش فعالیت غدد جنسی می‌شوند. T_4 (تری‌یدوتیرین)^۳ فرم فعال هورمون تیروئید است. (شکل ۳-۹)

۵- پاراتیروئید

چهار غده پاراتیروئید در پرندگان کمی پایین‌تر از تیروئید قرار گرفته‌اند. این غده‌ها هورمون پاراتورمون را ترشح نموده که از طریق تنظیم دفع کلسیم ادراری و همچنین تأثیر بر آزادسازی کلسیم استخوانی، غلظت کلسیم را در سرم خون تثبیت می‌کند. همچنین این هورمون نقش مهمی در دفع کلیوی فسفات و تنظیم فسفر بدن را به عهده دارد. (شکل ۳-۹)

۶- غدد اولتیمو برانشیال

این غدد در پرندگان در ناحیه پشتی و در دو طرف غده پاراتیروئید قرار گرفته‌اند. مهم‌ترین هورمون تولیدی این غده کلسی‌تونین بوده که برخلاف پستانداران هیچ‌گونه تأثیری در استخوان‌سازی ندارد. (شکل ۳-۹) این غدد در کاهش کلسیم خون مؤثرند.

۷- گنادها

در پیمانه دستگاه تولید مثل، باگنادها (غدد جنسی) در جنس نر و ماده آشنا شدید.

۲-۹- غدد برون‌ریز

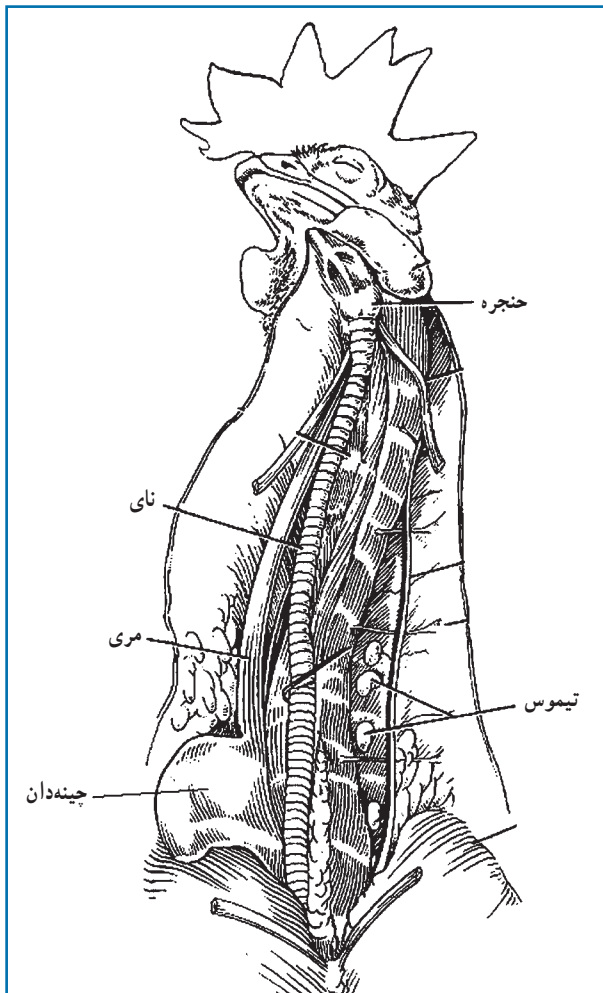
غددی هستند که دارای مجرا یا کانال بوده و ترشحات خود را از این طریق، به درون خود و یا بافت مورد هدف می‌ریزند. مهم‌ترین این غدد عبارتند از:

- ۱- کبد
- ۲- کلیه‌ها
- ۳- تیموس
- ۴- غده پینه آل یا صنوبری.

۱- Corticostron

۲- Aldestron

۳- Triiodotyryn



شکل ۹-۴ - موقعیت غده تی‌موس در طیور

۱- کبد:

در بیمانه دستگاه گوارشی با نقش اساسی کبد در هضم و جذب مواد غذایی طیور آشنا شدید.

۲- کلیه‌ها:

با وظایف و جایگاه کلیه‌ها در بیمانه هفتم آشنا شدید. کلیه‌ها در نقش غدد برون‌ریز مواد هورمونی بنام رنین ترشح می‌کنند. رنین در پاسخ به کاهش سدیم خون و یا کاهش حجم خون ترشح می‌شود.

۳- تی‌موس^۱:

تی‌موس به صورت هفت قسمت مجزا در اطراف گردن قرار گرفته و در فعالیت‌های ایمنی بدن نقش دارد. (شکل ۹-۴)

۴- غده پینه آل یا صنوبری:

این غده بین نیم کره‌های مغز و مخچه به صورت یک بیرون زدگی قرار دارد. غده پینه آل با ترشح هورمون ملاتونین در حفظ درجه حرارت بدن، وزن غدد فوق کلیوی و همچنین کنترل رفتارهای تولید مثلی، از طریق تأثیر بر گنادها مؤثر می‌باشد.

علاوه بر این، غده پینه آل در تأمین سلول‌های ایمنی لازم برای محافظت از سیستم عصبی مرکزی نیز نقش مهمی دارد.

فعالیت عملی

۱- لاشه مرغ را تشریح کنید و غدد تی‌موس، پینه آل، هیپوفیز، فوق کلیه، تیروئید، پاراتیروئید

و اولتیمو برانشیال را مشاهده نمایید.

۲- لاشه خروس بالغ را تشریح کنید و بیضه‌ها را مشاهده کنید.

آزمون پیمانۀ مهارتی ۹

۱- غدد درون‌ریز طیور را نام ببرید؟

۲- جزایر خوشه‌ای لوزالمعده ... و... ترشح می‌کنند.

۳- مهم‌ترین هورمون غدد اولتیموبرانشیال چه نام دارد؟

۴- هورمون غده پاراتیروئید ... نام دارد.

۵- هورمون غده پینه آل کدام است؟

(د) رشد

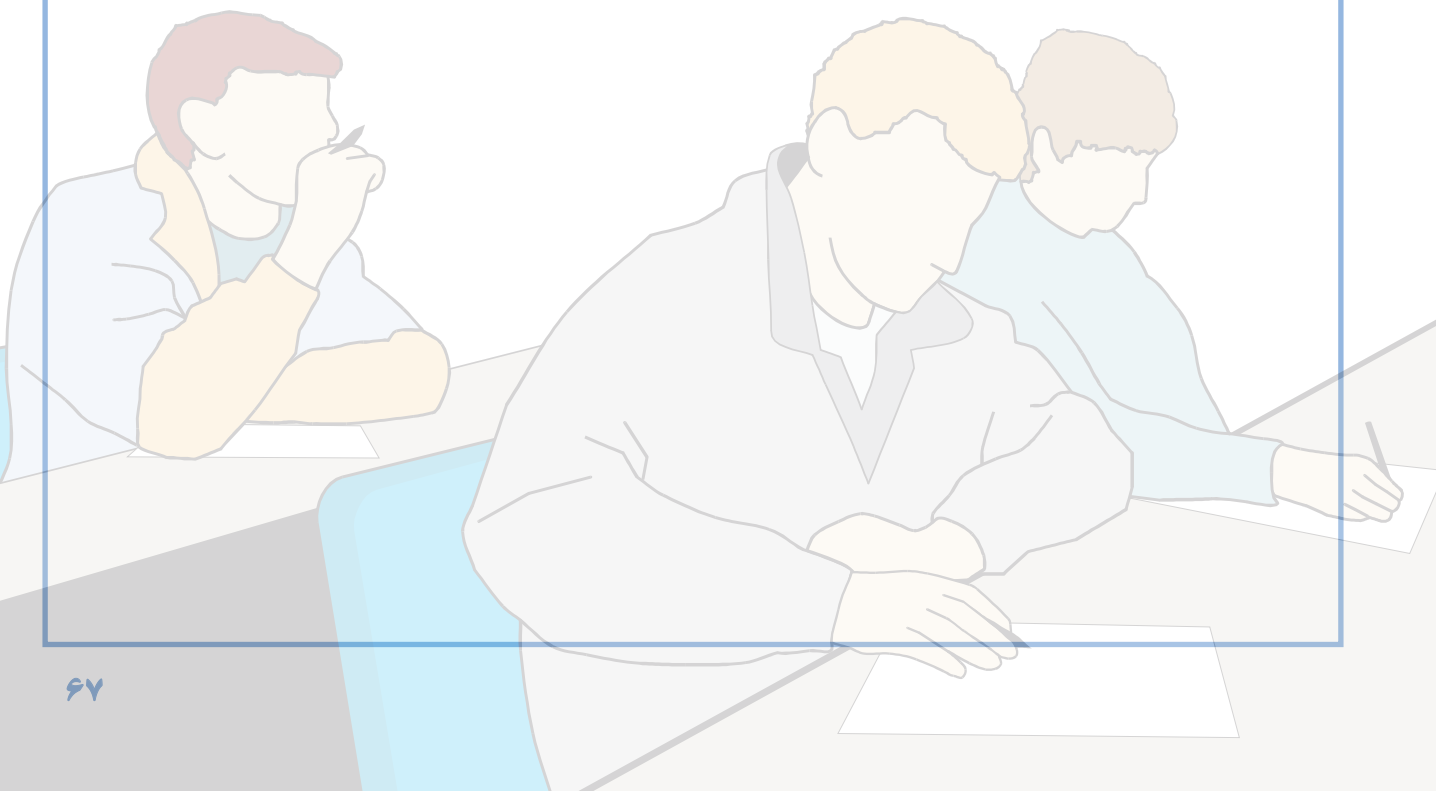
(ج) پاراتورمون

(ب) پرولاکتین

(الف) ملاتونین

۶- هورمون‌های غده هیپوفیز جلویی را نام ببرید.

۷- مهم‌ترین غدد برون‌ریز را نام ببرید.



پاسخ پیش‌آزمون پیمانۀ مهارتی (۱)

- ج ۱- بدن طیور از پر پوشیده شده ولی بدن پستانداران از مو پوشیده شده است.
- ج ۲- نوک مرغ به دلیل دانه‌خوار بودن تیز است ولی نوک اردک به دلیل جستجوی غذا در آب پهن می‌باشد.
- ج ۳- مرغ

پاسخ پیش‌آزمون پیمانۀ مهارتی (۲)

- ج ۱- دو قسمتی (پیش‌معه و سنگدان)
- ج ۲- راست‌روده و یک جفت روده کور
- ج ۳- بلی، در کلوآک

پاسخ پیش‌آزمون پیمانۀ مهارتی (۳)

- ج ۱- برای سبک‌تر بودن بدن (چگالی بدن کمتر می‌شود) و پرواز کردن
- ج ۲- ماهیچه پاها
- ج ۳- بلی

پاسخ پیش‌آزمون پیمانۀ مهارتی (۴)

- ج ۱- زیرا اسپرم‌سازی در خروس در دمای بدن صورت می‌گیرد.
- ج ۲- تولید تخمک (زرده)
- ج ۳- صفحه رویان، زرده، سفیده (رقیق و غلیظ)، پوسته‌های نازک (داخلی و خارجی)، پوستۀ صدفی و کیسه هوایی

پاسخ پیش‌آزمون پیمانۀ مهارتی (۵)

- ج ۱- سیاهرگ، سرخرگ، مویرگ
- ج ۲- پستانداران
- ج ۳- دو نوع گردش خون بزرگ (عمومی) و گردش خون کوچک (ششی)

پاسخ پیش‌آزمون پیمانۀ مهارتی (۶)

- ج ۱- نه عدد
- ج ۲- از طریق دم و بازدم
- ج ۳- در انتهای نوک بالایی قرار دارد

پاسخ پیش‌آزمون پیمانۀ مهارتی (۷)

- ج ۱- نفرون
- ج ۲- ترشح، بازجذب و تصفیه
- ج ۳- اردک

پاسخ پیش‌آزمون پیمانۀ مهارتی (۸)

- ج ۱- نرون
- ج ۲- رشد زیاد قسمت بینایی
- ج ۳- حفظ تعادل بدن

پاسخ پیش‌آزمون پیمانۀ مهارتی (۹)

- ج ۱- بین خم دوازدهه
- ج ۲- گردن
- ج ۳- پاراتیروئید

پاسخ آزمون پیمانۀ مهارتی (۱)

ج ۱- کمک به پرواز، کمک به حفظ درجه حرارت بدن، حفاظت از برف و باران، استتار، جذابیت پرندۀ در بین پرندگان همان گروه

- ج ۲- ۱- پرهای بزرگ یا شاه‌پرها، ۲- پرهای کوچک یا پوش پر، ۳- پرهای سوزنی شکل
- ج ۳- دو لایه : ۱- اپیدرم، ۲- درم
- ج ۴- به دلیل ذخیره بالای ملانین در پوست
- ج ۵- به میزان رنگ‌دانه گزانتوفیل در جیره غذایی و همینطور میزان تخم‌گذاری
- ج ۶- زیرا غدد عرقی ندارند
- ج ۷- تاج بالشتکی، تاج نخودی، تاج گل‌سرخ، تاج ساده، تاج توت‌فرنگی، تاج ۷ شکل
- ج ۸- لب

پاسخ آزمون پیمانۀ مهارتی (۲)

- ج ۱- دهان، مری، معده، روده باریک، روده بزرگ (روده کور و راست‌روده) و کلواک
- ج ۲- سه لایه : ۱- لایه سروزی، ۲- لایه عضلانی، ۳- لایه مخاطی
- ج ۳- دو قسمت : ۱- پیش‌معده، ۲- سنگدان
- ج ۴- پیش‌معده
- ج ۵- سه قسمت : ۱- دئودنوم، ۲- ژژنوم، ۳- ایلئوم

- ج ۶- دو ناحیه : گوارشی و ادراری، تناسلی
- ج ۷- گرفتن غذا، عبور غذا از مجرای گوارش، هضم و جذب، دفع مواد زائد
- ج ۸- گرفتن غذا و بلع آن
- ج ۹- ذخیره غذا
- ج ۱۰- چون فاقد چینه‌دان است
- ج ۱۱- غذا در این قسمت با ترشحات اسیدی معده و شیره آن آغشته می‌گردد.
- ج ۱۲- خرد کردن غذا
- ج ۱۳- جذب غذا
- ج ۱۴- هضم سلولز و تبدیل آن به گلوکز و تولید ویتامین‌های گروه B و K
- ج ۱۵- محل تجمع غذاهای هضم نشده و دفع آن
- ج ۱۶- چون طول دستگاه گوارش کوتاه است.

پاسخ آزمون پیمانۀ مهارتی (۳)

- ج ۱- تأمین تعادل و حرکت
- ج ۲- ۱- به بدن حیوان شکل می‌دهد.
- ج ۲- در تولید سلول‌های خونی دخالت دارد.
- ج ۳- مواد معدنی مورد نیاز را ذخیره می‌کند.
- ج ۴- در تعادل بدن و حرکت‌های حیوان نقش اساسی دارد و نقطۀ اتکاء ماهیچه‌های بدن است.
- ج ۳- از به هم پیوستن استخوان‌ها و غضروف‌ها اسکلت به وجود می‌آید.
- ج ۴- چهار گروه : ۱- استخوان‌های دراز - استخوان‌های کوتاه ۳- استخوان‌های پهن ۴- استخوان‌های نامنظم
- ج ۵- دو نوع : ۱- بافت استخوانی متراکم ۲- بافت استخوانی اسفنجی
- ج ۶- شامل دو استخوان گیجگاهی، شب‌پره، پرویزنی، آهیانه پس‌سری و استخوان پیشانی
- ج ۷- اطلس، آسه
- ج ۸- تا تخم به آسانی خارج گردد
- ج ۹- کمر بند سینه‌ای و بال
- ج ۱۰- کتف، ترقوه و کورا کوئید یا غرابی
- ج ۱۱- استخوان‌های بازو، زند زیرین، زند زیرین، استخوان‌های میج، استخوان‌های قلم دست و سه انگشت
- ج ۱۲- استخوان‌های ران، ساق پا، قلم پا، انگشتان
- ج ۱۳- سه نوع : ماهیچه‌های صاف، قلبی و مخطط
- ج ۱۴- در تمام حرکات به ویژه در پرواز نقش اساسی دارد

پاسخ آزمون پیمانۀ مهارتی (۴)

- ج ۱- بیضه‌ها و مجرای منی بر
- ج ۲- بیضه چپ
- ج ۳- تولید اسپرم
- ج ۴- دو قسمت: تخمدان و مجرای تخمدان، و وظیفه مجرای تخمدان که از پنج قسمت تشکیل شده، عبارت است از: تولید تخم و هدایت آن به خارج از بدن
- ج ۵- بزرگ و فعال، کوچک و غیر فعال
- ج ۶- تولید تخمک
- ج ۷- شیپور فانل، ماگنوم، تنگه، رحم یا زهدان، مهبل
- ج ۸- زیرا جنین در پستانداران داخل رحم و در پرندگان خارج از رحم رشد و نمو می‌کند.
- ج ۹- ورود زرده تخم مرغ آزاد شده به داخل شیپور مجرای تخم بر را تخمک گذاری می‌نامند.
- ج ۱۰- ۱- گرفتن زرده از تخمدان ۲- محل برخورد اسپرماتوزوئید با تخمک
- ج ۱۱- سفیده تخم مرغ
- ج ۱۲- ایستموس
- ج ۱۳- پوسته‌های صدفی، بین ۱۹ تا ۲۰ ساعت
- ج ۱۴- مهبل
- ج ۱۵- ۲۶/۵، ۱۴، ۷۵
- ج ۱۶- هورمون‌های جنسی و عوامل خارجی
- ج ۱۷- ۱- صفحه رویان، ۲- زرده ۳- سفیده ۴- پوسته‌های نازک (داخلی و خارجی) ۵- پوسته صدفی ۶- کیسه هوایی
- ج ۱۸- به دلیل حرارت کمتر محیط نسبت به بدن مادر، رشد جنین متوقف می‌گردد.

پاسخ آزمون پیمانۀ مهارتی (۵)

- ج ۱- انتقال مواد غذایی، گازهای تنفسی و مواد زائد
- ج ۲- ۱- انتقال اکسیژن به سلول‌های بدن و پس گرفتن دی‌اکسید کربن
- ج ۲- انتقال مواد غذایی از دستگاه گوارش به سلول‌های بدن
- ج ۳- انتقال مواد زائد از سلول‌ها به اندام‌های دفعی
- ج ۴- رساندن هورمون‌ها به بخش‌های مختلف بدن
- ج ۵- تنظیم آب بافت‌های بدن
- ج ۶- تنظیم درجه حرارت بدن
- ج ۳- حرکات قلب را تسهیل می‌کند

- ج ۴- سه لایه : درونی، میانی و بیرونی
 ج ۵- ایجاد فشار اُسمزی در خون
 ج ۶- جلوگیری از خونریزی
 ج ۷- قلب، خون و رگ‌های خونی
 ج ۸- تأمین انرژی لازم برای سوخت و ساز بدن و ضربان تند آن

پاسخ آزمون پیمانۀ مهارتی (۶)

- ج ۱- انتقال اکسیژن به سلول‌ها و بازگرداندن دی‌اکسید کربن
 ج ۲- بینی، حفره‌های بینی، حنجره، نای، جعبه صوتی، نایژه‌ها، شش‌ها، کیسه‌های هوایی
 ج ۳- ۱- تأمین اکسیژن مورد نیاز
 ۲- دفع دی‌اکسید کربن اضافی
 ۳- خارج کردن حرارت اضافی بدن
 ۴- کمک به ایجاد صوت
 ج ۴- به دو روش هدایتی یا جریان مستقیم حرارتی و تبخیری چون در مرغ غدد عرق وجود ندارد، لذا دفع تبخیری در پایین آوردن حرارت بدن مؤثر است
 ج ۵- ج ۹

پاسخ آزمون پیمانۀ مهارتی (۷)

- ج ۱- کلیه، میزنای
 ج ۲- مرغ
 ج ۳- غده نمکی یک کانال مرکزی دارد که تعدادی مجرای ترشچی به صورت شعاعی از آن جدا می‌شوند که به وسیلهٔ سرخرگ‌ها و سیاهرگ‌های کوچکی احاطه شد و انتهای آنها مسدود است.
 ج ۴- هر نفرون از یک جسمک کلیوی و یک لوله تشکیل شده جسمک کلیوی در بر گیرنده شبکه‌های مویرگی و کپسول گلمرولی است.
 ج ۵- اسید اوریک
 ج ۶- اسید اوریک
 ج ۷- به علت تصفیه بیش از ۹۰ درصد آب بدن قندهای ساده و الکترولیت‌ها مجدداً از نفرون‌ها باز جذب شده و به خون برگشت داده می‌شود.

پاسخ آزمون پیمانۀ مهارتی (۸)

- ج ۱- این دستگاه به عنوان رهبر بدن در فعالیت‌های پرنده و کنترل، تشدید یا بازدارندگی اعمال دخالت دارد.

ج ۲- نرون

ج ۳- جسم سلولی - آکسون - یک یا چند شاخه منشعب به نام دندریت.

ج ۴- ۱- دستگاه گوارش

۲- دستگاه تعادل بدن

۳- دستگاه تنفس

۴- دستگاه گردش خون

ج ۵- مغز و نخاع

ج ۶- به وسیله پردازش پیام‌های عصبی از طریق اعصاب حسی و اعصاب حرکتی در مراکز مغزی - نخاعی

ج ۷- ۱- عضو گیرنده

۲- اعصاب حسی

۳- محل‌های پردازش

۴- اعصاب حرکتی

۵- اندام یا عضو حرکتی

پاسخ آزمون پیمانۀ مهارتی (۹)

ج ۱- ۱- مجتمع هیپوفیزی - هیپوتالاموسی

۲- گنادها

۳- لوزالمعده

۴- فوق کلیوی

۵- تیروئید

۶- پاراتیروئید

۷- اولتیمو برانشیال

ج ۲- انسولین - گلوکاگون

ج ۳- کلسی تونین

ج ۴- پاراتورمون

ج ۵- ملاتونین

ج ۶- گناد و تروپین‌ها، تیرو تروپین‌ها، پرولاکتین

ج ۷- ۱- کبد

۲- کلیه‌ها

۳- تیموس

۴- پینه‌آل

منابع

- ۱- آر.ای. آستیک. ام.سی.نشیم. ۱۳۸۱. پرورش طیور. مترجمین حسن کرمانشاهی و مسعود زردوست، انتشارات دانشگاه فردوسی مشهد.
 - ۲- استورکی. پی.دی. ۱۳۷۴. فیزیولوژی پرندگان. مترجمین: محمود پناهی، ساسان رسول‌نژاد، رسول زنده روح کرمانی، مهرداد مدیر صانعی، محمد معافی، مهدی میرسلیمی، فریدون نیک‌نفس. انتشارات واحد آموزش و پرورش معاونت کشاورزی سازمان اقتصادی کوثر. ۶۸۹.
 - ۳- پوررضا. جواد. ۱۳۷۰. اصول علمی و عملی پرورش طیور. انتشارات دانشگاه صنعتی اصفهان.
 - ۴- فرخوی محسن. خلیقی سیگارودی. تقی. ف. نیک‌نفس. ۱۳۷۱. راهنمای کامل پرورش طیور. انتشارات واحد آموزش و پژوهش معاونت کشاورزی سازمان اقتصادی کوثر. ۹۱۹.
 - ۵- کوری بروس. ۱۳۸۰. تشریح و فیزیولوژی دام. مترجمین احمد زارع شحنه، حسن صادقی‌نیا. انتشارات آیه. ۴۳۹.
 - ۶- میرزای ناصر، علی غضنفر، مهری کدخدایی و مهدیه فقیهی. ۱۳۸۷. فیزیولوژی جانوری. انتشارات دانشگاه بوعلی سینا. ۴۴۵.
 - ۷- نیکل ریچارد، اوست شومر و اوگن سیفرله. ۱۳۷۵. آناتومی پرندگان اهلی. مترجمین: سیدرضا قاضی، مینا تجلی و صغری غلامی. انتشارات دانشگاه شیراز. ۳۴۷.
- ۸- Dyce. K. M. W. O. Sack. C. J. G. Wensing. The Text Book Veterinary Anatomy. Sunderse Company. ۸۴۵.
- ۹- WWW. Ag. ansc. purde. edu
- ۱۰- WWW. Aps. uoguelph. ca
- ۱۱- WWW. Itpnews. com
- ۱۲- WWW. People. eku. edu
- ۱۳- WWW. Poultry. uga. edu
- ۱۴- WWW. Poultry hab. org
- ۱۵- WWW. Ziyae. ۲۰m. com

